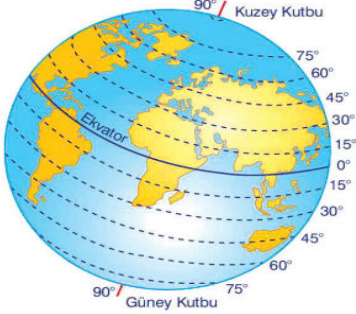


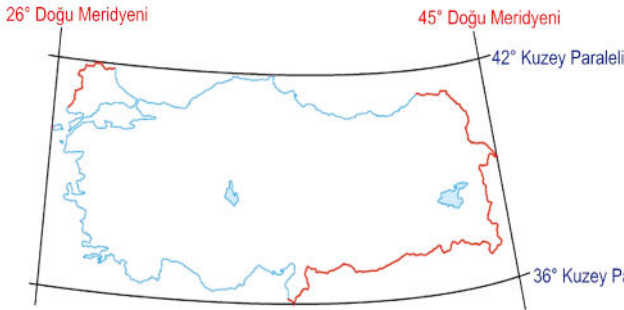
İnsanlar, Yerler ve Çevreler - 2

1. Ekvator'dan başlayıp kuzey ve güney kutup noktalarına doğru Ekvator'a yatay şekilde uzandığı varsayılan hayali çizgilere paralel denir. Aşağıdaki görselde paralellerin bazı özellikleri belirtilmiştir.



Görselde verilen bilgiler incelendiğinde ekvatorun kutuplara doğru gidildikçe aşağıdakilerden hangisi gerçekleşmez?

- A) Paralel dairelerinin boyları kısalmır.
B) Paraleller arasındaki mesafe azalır.
C) Paralellerin dereceleri artar.
D) Paraleller kutuplarda nokta halini alır.
2. Meridyenler arasında 4 dakikalık zaman farkı vardır. Paraleller arasında 111 km mesafe bulunmaktadır.



Verilen bilgilere göre Türkiye ile ilgili aşağıdakilerden hangisine ulaşılamaz?

- A) En doğusu ile en batısı arasındaki zaman farkına
B) En kuzeyi ile en güneyi arasındaki mesafeye
C) Başlangıç meridyeni ve ekvatora göre konumuna
D) Yer altı ve yer üstü kaynaklarının toplam rezervine
3. I. Antalya'dan Ankara'ya gidildikçe paralel derecesinin büyümesi
II. Ocak ayında kış mevsiminin yaşanması
III. Doğuya doğru gidildikçe Güneş'in erken doğması

Yukarıda verilenlerden hangileri Türkiye'nin Kuzey Yarımküre'de olduğunu kanıtlar?

- A) Yalnız I
B) I ve II
C) II ve III
D) I, II ve III

4. Göreceli Konum (Özel Konum): Bir yerin kıtalara, okyanuslara, denizlere, boğazlara olan uzaklığını, yeryüzü şekillerini, yer altı ve yer üstü kaynaklarını, komşu olduğu ülkeleri ifade eder.

Buna göre aşağıdakilerden hangisi Türkiye'nin göreceli konum özellikleri arasında yer almaz?

- A) Avrupa, Asya ve Afrika'nın birleştiği noktada kıtaları birbirine bağlayan köprü durumundadır.
B) Karadeniz ile Akdeniz'i birbirine bağlayan İstanbul ve Çanakkale boğazlarına sahiptir.
C) Dağlar doğu - batı yönünde uzanmakta ve doğuya doğru yükselti artmaktadır.
D) Güneyden kuzeye doğru gidildikçe ortalama sıcaklık değerleri azalmaktadır.
5. Türkiye; 36° - 42° kuzey paralelleri ile 26° - 45° doğu meridyenleri arasında yer alır.

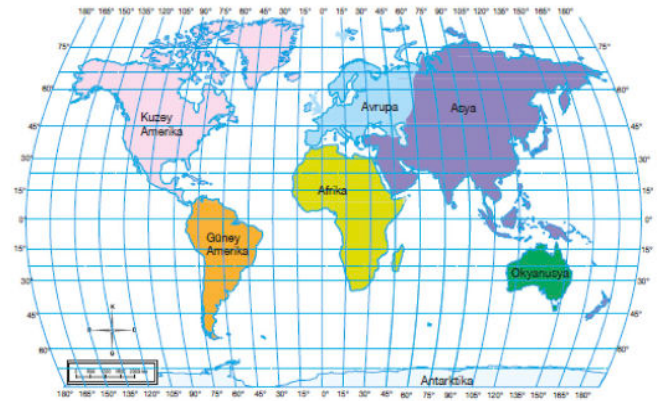
Sadece bu bilgiye göre Türkiye ile ilgili;

- I. Hangi yarım kürede yer aldığı,
II. Başlangıç meridyenine olan uzaklığı,
III. Batısı ile doğusu arasındaki yerel saat farkı,

bilgilerinden hangilerine kesin olarak ulaşılabılır?

- A) Yalnız I
B) I ve II
C) II ve III
D) I, II ve III

6.




Haritaya göre aşağıdaki çıkarımlardan hangisi yapılamaz?

- A) Avrupa ekvatorun kuzeyinde bulunmaktadır.
B) Antarktika kuzey yarım kürede yer almaktadır.
C) Okyanusya başlangıç meridyeninin doğusundadır.
D) Güney Amerika başlangıç meridyeninin batısındadır.

İnsanlar, Yerler ve Çevreler - 2

7. Aşağıdaki arabalar başlangıç meridyeni üzerinden aynı hızda, aynı yöne doğru hareket edip bitiş noktası olan 7° doğu meridyenine varmışlardır.



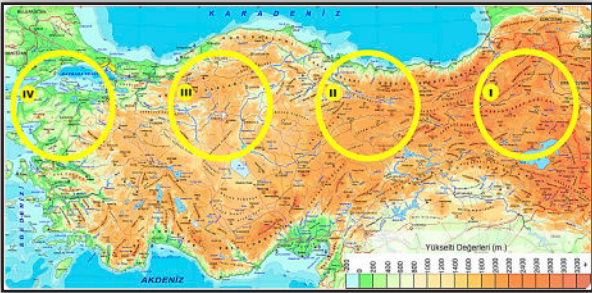
Verilenlere göre,

- I. Kırmızı araba bitiş noktasına daha erken varmıştır.
- II. Sarı arabanın aldığı mesafe daha fazladır.
- III. Kırmızı arabanın üzerinden geçtiği meridyen daha fazladır.

yargılarından hangilerine ulaşılabilir?

- A) Yalnız I B) I ve II
C) II ve III D) I, II ve III

8. İklimsel özelliklerden yükselti ve sıcaklık birbirini etkiler. Yükselti değerleri arttıkça sıcaklık ortalamaları düşerken, yükselti değerleri deniz seviyesine yaklaştıkça sıcaklık ortalamaları yükselir.



Buna göre görselde verilen yerlerden hangileri arasındaki sıcaklık farkı daha yüksektir?

- A) I ve II B) II ve III
C) I ve IV D) III ve IV

9. Bir araştırmacı iklim özelliklerini ve bitki topluluğunu araştırmak için gittiği bölgeyle ilgili yazdığı raporda şu bilgilere yer vermiştir: "Burası yıl boyunca oldukça sıcak, bol yağışlı ve her yer yemyeşil ormanlarla kaplıdır. Tropikal yağmur ormanlarını oluşturan ağaçların boylarının 50 metreyi aştığını gördüm. Ayrıca bu bölgede bol miktarda hindistan cevizi, mango, kakao vb. tarım ürünleri yetiştirilmektedir."

Araştırmacının gittiği yerle ilgili olarak aşağıdakilerden hangisi söylenemez?

- A) Ahşap meskenler yaygın olarak görülür.
B) Genelde tropikal meyveler yetiştirilir.
C) Dört mevsim belirgin şekilde yaşanır.
D) Yıllık sıcaklık farkı düşüktür.



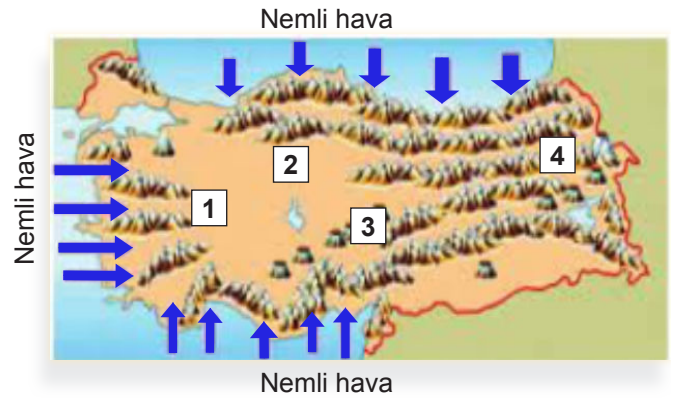
Verilen haritaya göre;

- I. İç Anadolu'da platolar geniş yer kaplamaktadır.
- II. Doğudan batıya doğru yükselti artmaktadır.
- III. Kuzeyden güneye doğru ortalama yükselti azalmaktadır.

çıkarımlarından hangileri yapılabilir?

- A) Yalnız I B) I ve II
C) II ve III D) I, II ve III

- 11.



Ülkemizdeki dağların denize göre uzanışı, denizden gelen nemli havanın iç kesimlere kadar girebilmesini etkilemektedir. Denizden gelen nemli havanın iç kesimlere kadar girebildiği yerlerin iklim özelliği daha ılımandır.

Buna göre, haritada numaralı yerlerden hangisinin ikliminin daha ılıman olması beklenir?

- A) 1 B) 2 C) 3 D) 4