

### İnsanlar, Yerler ve Çevreler - 4

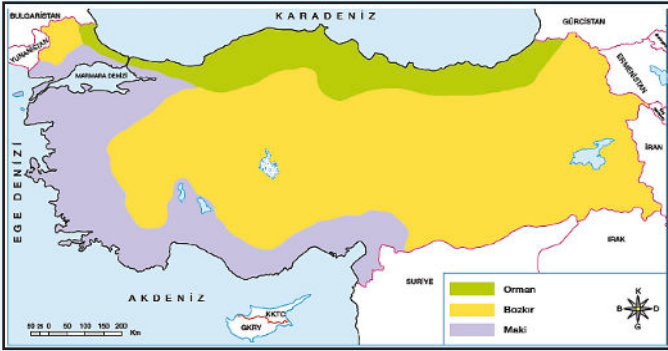
1. Aynı mevsim döneminde;

- Marmara Denizi çevresi, Anadolu'nun doğusuna göre,
- Yaklaşık aynı paralel üzerinde yer alan Eskişehir, Erzurum'a göre daha sıcaktır.

**Verilen durumların ortak nedeni aşağıdakilerden hangisidir?**

- A) Yükselti  
B) Rüzgârlar  
C) Denizellik  
D) Dağların uzanışı

2. Aşağıda Türkiye'nin bitki örtüsü haritası verilmiştir.



**Buna göre Türkiye'de bitki örtüsü çeşitliliğinin oluşmasında;**

- iklim özellikleri,
- dağların uzanış yönü,
- denizellik ve karasallık

**faktörlerinden hangilerinin etkili olduğu söylenebilir?**

- A) I ve II  
B) I ve III  
C) II ve III  
D) I, II ve III

3.

Türkiye'nin doğusunda kar yağışı etkili olurken Bodrum'da yazdan kalma günler yaşanıyor. Bodrum'da sıcak havayı fırsat bilen vatandaşlar sahile akın etti. Kars ve Erzurum'da kar yağışının etkili olduğu, Ardahan'a ise Sibiryaya soğuklarının geldiği öğrenildi. Ardahan'da hava sıcaklığı -28 dereceye kadar düşerken Ege kıyılarında 25 dereceye kadar ulaştı.

**Genel ağ haberine göre aynı anda farklı iklim özelliklerinin yaşanmasında;**

- yükselti,
- ekvatora uzaklık,
- denizellik ve karasallık

**unsurlarından hangilerinin etkili olduğu söylenebilir?**

- A) Yalnız I  
B) I ve II  
C) II ve III  
D) I, II ve III

4.



**Verilen haritaya göre,**

- A ile gösterilen bölümde her mevsim yağış görülmektedir.
- B ile gösterilen bölümde yazlar sıcak ve kurak geçmektedir.
- C ile gösterilen bölümde hâkim olan bitki örtüsü ormandır.
- B ile gösterilen bölümde kışlar, C ile gösterilen bölüme göre daha ılık geçmektedir.

**yargılarından hangileri söylenebilir?**

- A) I ve II  
B) I ve III  
C) II ve IV  
D) III ve IV

5.



**Verilen Türkiye görselinde ok yönünde yolculuk edildiğinde,**

- İklim önce karasallaşır, sonra tekrar denizelleşmeye başlar.
- Başlangıçta maki bitki örtüsü, bitiş noktasında ormanlar görülür.
- Başlangıç noktasından bitiş noktasına doğru sıcaklık sürekli yükselir.

**durumlarından hangilerinin gerçekleşmesi beklenir?**

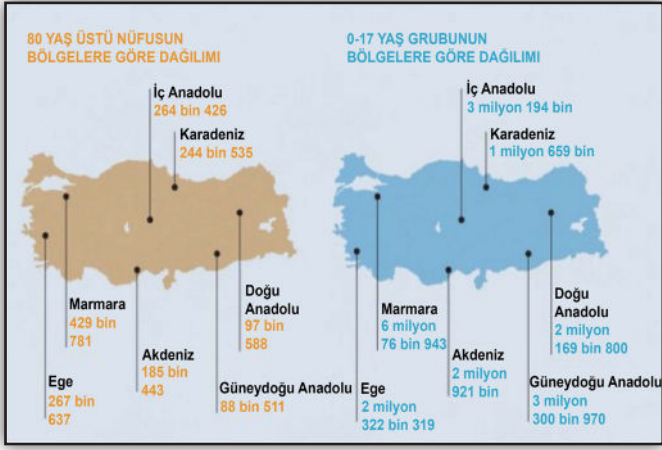
- A) I ve II  
B) I ve III  
C) II ve III  
D) I, II ve III

İnsanlar, Yerler ve Çevreler - 4

6. Türkiye’de nüfus dağılışı düzenli değildir. Nüfus dağılışı haritası incelendiğinde nüfusun batı bölgelerinde ve kıyı şeridinde yoğun olduğu görülür. İç ve doğu bölgelerde nüfus ve nüfus yoğunluğu azdır.

**Nüfus dağılışının düzensiz olmasında aşağıdakilerden hangisinin etkili olduğu söylenemez?**

- A) İklim özelliklerinin farklılık göstermesi  
B) İç ve Doğu bölgelerde arazinin engebeli olması  
C) Yerleşim yerlerinin yüzölçümlerinin farklı olması  
D) Batı bölgelerinde iş imkânlarının fazlalığı
7. İçişleri Bakanlığı Nüfus ve Vatandaşlık İşleri Genel Müdürlüğü, 11 Temmuz Dünya Nüfus Günü dolayısıyla Türkiye’nin 80 yaş üstü ve 0-17 yaş grubunun dağılımını gösteren nüfus haritasını paylaştı.



**Haritaya göre aşağıdakilerden hangisine ulaşamaz?**

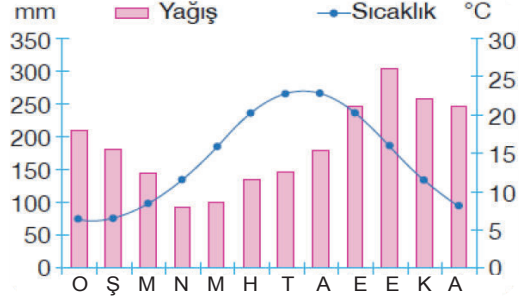
- A) 80 yaş ve üstü nüfusun en yüksek olduğu bölge, Marmara’dır.  
B) Kadın erkek oranları arasındaki fark 0-17 yaş grubunda daha fazladır.  
C) En yüksek genç nüfus ile en yaşlı nüfus aynı bölgededir.  
D) 80 yaş ve üstü nüfusun en düşük olduğu bölge Güneydoğu Anadolu’dur.

8. Merhaba ben Sophia. Yunanistan’da yaşıyorum. Akdeniz kıyısında yer alan ülkemde Akdeniz iklimi görülür. Yazları sıcak ve kurak, kışları ise ılık ve yağışlı geçmektedir. Bitki örtüsü kısa boylu çalılardan oluşan makidir. Yazları sıcak olduğu için ve uzun sürdüğünden ülkemize her yıl milyonlarca turist denize girmek için gelmektedir. Çok sayıda otel ve turizm şirketi bulunmaktadır. Tarım ürünlerinin bol ve çeşitli olduğu ülkemizde zeytin, pamuk ve turuncgiller gibi ürünler yetiştirilir.

**Verilen metinde iklimin aşağıdakilerden hangisine etkisinden bahsedilmemiştir?**

- A) Bitki örtüsüne  
B) Ekonomik faaliyetlere  
C) Nüfus özelliklerine  
D) Beslenme alışkanlıklarına

9. Aşağıdaki grafikte Türkiye’de bulunan bir merkezin yıllık yağış-sıcaklık değerleri verilmiştir.



**Bu merkez ile ilgili olarak,**

- I. Her mevsim yağışlıdır.  
II. Kış aylarında sıkça kar yağışları görülür.  
III. En yüksek yağışları yaz aylarında alır.

**yargılarından hangileri söylenebilir?**

- A) Yalnız I  
B) I ve II  
C) II ve III  
D) I, II ve III

10. Ekvatorial iklim, Ekvator üzerinde ve Ekvator’a yakın yerlerde görülmektedir. Ekvatorial iklimin görüldüğü yerlerde halkın temel geçim kaynağı ormancılıktır. Ayrıca kakao ve kahve gibi tarım ürünleri de yetiştirilmektedir. İklimin bunaltıcı etkisi nedeniyle insanlar genellikle 1000 - 2000 metre yükseklikte olan yerlerde yaşamaktadır.

**Verilen metinde iklimin;**

- I. ekonomik faaliyetler,  
II. yerleşme,  
III. ulaşım

**unsurlarından hangileri üzerindeki etkisinden bahsedilmiştir?**

- A) Yalnız I  
B) I ve II  
C) II ve III  
D) I, II ve III

- 11.



**Yukarıda görselleri verilen bölgenin iklimi ile ilgili,**

- I. Her mevsim yağışlıdır.  
II. Ahşap evler yaygındır.  
III. Sıcaklık ortalamaları yüksektir.

**çıkarmalarından hangileri yapılabilir?**

- A) I ve II  
B) I ve III  
C) II ve III  
D) I, II ve III