



### Üretim, Dağıtım ve Tüketim - 1

1. Türkiye’de ormancılık faaliyetlerinin çoğunlukla kıyı bölgelerde yapılmasının temel nedeni aşağıdakilerden hangisidir?

- A) Sanayi faaliyetlerinin gelişmiş olması
- B) Nem ve yağış miktarının fazla olması
- C) Dağınık yerleşme tipinin görülmesi
- D) Turizm faaliyetlerinin yaygın bir şekilde yapılması

2. Yer şekilleri ve iklim özellikleri sebebiyle Doğu Anadolu Bölgesi’nde tarımsal üretim azdır. Bunun yerine insanlar genellikle büyükbaş hayvancılık yapmaktadırlar.

**Buna göre, Doğu Anadolu Bölgesi’nde aşağıda verilen sanayi dallarından hangisi daha gelişmiştir?**

- A) Otomotiv
- B) Konserve
- C) Meyve suyu
- D) Et ve süt ürünleri

3. Bir iş adamı olan Ali Bey, Konya’da un fabrikası kurmaya karar verir.

**Ali Bey’in un fabrikası kurmak için Konya’yı tercih etmesinin temel nedeni aşağıdakilerden hangisidir?**

- A) Ham madde yönünden zengin olması
- B) Ulaşım imkanlarının gelişmiş olması
- C) Nitelikli insan gücünün var olması
- D) Pazarlama imkânlarının uygun olması

4. “Yaşadığım şehirde ormanlar geniş yer tutuyor. Arazilerimiz çok geniş ve verimlidir. Ayrıca deniz kenarında bulunan şehrimizin iklimi ılıman, yazları sıcak ve uzun geçer.”

**Buna göre, özellikleri verilen şehir ile ilgili aşağıdaki yorumlardan hangisi yapılamaz?**

- A) Ormancılık faaliyetlerine uygundur.
- B) Deniz turizmi yapılabilir.
- C) Tarımsal üretim yapılabilir.
- D) Maden rezervi bakımından zengindir.

5. Enerji kaynaklarından bir kısmının doğada varlığı sona ermez. Bu kaynaklara yenilenebilir enerji kaynakları denir.

**Buna göre, aşağıdakilerden hangisi yenilenebilir enerji kaynağı değildir?**

- A) Rüzgâr
- B) Biyoenerji
- C) Jeotermal
- D) Doğal gaz

6. Su gücüyle üretilen elektrik enerjisine hidroelektrik enerji denir. Hidroelektrik enerji, işleyiş olarak öncelikle büyük miktarlardaki suyun belirlenmiş bir yükseklikten salıverilmesiyle oluşan enerjinin türbin kullanılarak mekanik enerjiye dönüştürülmesi esasına dayanır.

**Buna göre, aşağıdaki bölgelerden hangisinin akarsularını hidroelektrik santral kurmak için daha uygundur?**

- A) İç Anadolu Bölgesi
- B) Doğu Anadolu Bölgesi
- C) Ege Bölgesi
- D) Marmara Bölgesi

**Üretim, Dağıtım ve Tüketim - 1**

7. Hızlı koşamayan birinin atlet olmasını bekleyemeyiz. Fen bilimleri dersini sevmeyen birinin biyolog olması ise çok kolay olmaz.

**Verilen bilgide meslek seçimini etkileyen;**

- I. ilgi,
- II. yetenek,
- III. çevre

**unsurlarının hangilerinden bahsedilmiştir?**





- A) Yalnız I
- B) Yalnız II
- C) I ve II
- D) I, II ve III

8. Ülkemizin tuz ihtiyacının önemli bir kısmının sağlandığı Tuz Gölü'nde, gölü besleyen derelerin suyuna karışan atıklar ve kirli sular nedeni ile yapısal bozukluklarla karşılaşmaktadır. Gölü besleyen derelerin ve yer altı sularının sulama amacı ile kullanılması sonucu göl kurumaya başlayarak zamanla küçülmüştür.

**Metne göre, Tuz Gölü ile ilgili aşağıdakilerden hangisi söylenemez?**

- A) Ülkemizin önemli tuz kaynaklarından biridir.
- B) Zamanla kuruyarak küçülmeye başlamıştır.
- C) Türkiye'nin tuz ihtiyacını karşılayamaz hale gelmiştir.
- D) Artan kirlilikten olumsuz yönde etkilenmektedir.

9. Aşağıdaki ekonomik faaliyetlerden hangisinin küresel ısınma üzerindeki etkisi daha fazladır?

- A)  Tarım
- B)  Sanayi
- C)  Madencilik
- D)  Turizm

10. Hayat kaynaklarımızdan biri olan toprak; tarım ve hayvancılık faaliyetlerinin vazgeçilmez kaynaklarından biri olduğu gibi, sanayide de ham madde olarak kullanılmaktadır.

**Aşağıdakilerden hangisinin üretiminde toprak ham madde olarak kullanılmaz?**

- A) Mobilya
- B) Çimento
- C) Fayans
- D) Kiremit

11. • Erozyon,  
• Küresel Isınma,  
• Hava kirliliği

**Bu çevre sorunlarının sebepleri aşağıdakilerden hangisi olamaz?**

- A) Ormanların tahrip edilmesi
- B) Sanayi tesislerinin denetlenmemesi
- C) Yer kabuğunu oluşturan levhaların hareketleri
- D) Yenilenemeyen enerji kaynaklarının bilinçsizce tüketilmesi

12. Nüfus artışı ile birlikte kişi başına düşen temiz su ihtiyacı artmaktadır. Bu nedenle temiz su tüketirken dikkat edilmesi, su olabildiğince tasarruflu kullanılmalıdır.

**Buna göre aşağıdakilerden hangisi su kaynaklarında tasarruf tedbirlerinden biri değildir?**

- A) Bulaşıkları elde yıkamak
- B) Evdeki bozuk muslukları tamir etmek
- C) Tıraş olurken, diş fırçalarken muslukları kapatmak
- D) Çamaşır makinesini tam doldurmadan çalıştırmamak