

Üretim, Dağıtım ve Tüketim - 3

1. Türkiye toprak tipleri, tarım ürünleri ve bitki örtüsü çeşitliliği açısından oldukça zengindir.

Bu durumun temel sebebi aşağıdakilerden hangisidir?

- A) Farklı iklim tiplerinin görülmesi
B) Yağış miktarının fazla olması
C) Yıllık sıcaklık farklarının az olması
D) Arazinin engebeli olması

2. Dünyanın en hızlı akan nehirlerinden biri olan Çoruh nehrinde rafting ve kano gibi su sporlarının yapılabilmesinin temel nedeni nedir?

- A) Akarsu yatağının geniş olması
B) Akarsu eğiminin fazla olması
C) Taşıdığı su miktarının çok olması
D) Kar erimeleriyle beslenmesi

3.

- Geleceğin petrolü olarak adlandırılmaktadır.
- Dünya'da var olan rezerv miktarının %65'i Türkiye'de bulunmaktadır.
- Kullanım alanı çok geniştir.
- Jet ve roket yakıtlarının yanında, kimya sanayisi, teknolojik araç ve gereçler ile kâğıt sanayisinde kullanılmaktadır.
- Ülkemizde Balıkesir ve Kütahya'da çıkarılmaktadır.







Öğretmen Dilek Hanım'ın özelliklerini belirttiği maden aşağıdakilerden hangisidir?

- A) Toryum
B) Kömür
C) Altın
D) Bor

4. Dört buçuk milyar yaşında olan Dünyamızda, geçmiş dönemlerden günümüze kadar fosil yakıtların kullanılması sonucu ortaya çıkan karbon gazı gibi zararlı gazların küresel ısınma, hava kirliliği ve çevre kirliliği gibi sorunlara neden olması sonucu günümüzde yeni enerji kaynaklarının kullanılması gündeme gelmiş buna bağlı olarak alternatif enerji kaynakları kullanılmaya başlanmıştır.

Aşağıdakilerden hangisi metinde sözü edilen yeni enerji kaynaklarından biri değildir?

- A)  Rüzgâr enerjisi
B)  Güneş enerjisi
C)  Petrol
D)  Dalga enerjisi

5. Büyükbaş hayvancılığın yoğun olarak yapıldığı bir bölgede aşağıdaki üretim kollarından hangisine yönelik bir fabrikanın kurulması yatırım açısından isabetli olmaz?

- A) Et ve süt işleme
B) Pamuklu dokuma
C) Deri giyim
D) Hayvansal gıda

6. Nitelikli eleman; iyi eğitim almış, kendini yetiştirmiş, alanında uzman olmuş, zihin gücüne dayalı işlerde çalışanlara denir.

Buna göre, aşağıdakilerden hangisi nitelikli insanın özelliklerinden değildir?

- A) İşini iyi bir şekilde yapar.
B) Ülke ekonomisinin gelişmesine katkı sağlar.
C) Yeniliklere ve gelişmelere açıktır.
D) Enerjisini ve zamanını sadece işine ayırır.

Üretim, Dağıtım ve Tüketim - 3

7. Meslek seçimi ile ilgili aşağıdakilerden hangisi doğru değildir?

- A) Mesleğimizi seçerken ailemizin sözünün dışına çıkmamalıyız.
- B) İlgili, yetenek ve becerilerimize uygun meslekler seçmeliyiz.
- C) Seçmiş olduğumuz mesleğe yönelik iyi bir eğitim almamız gerekir.
- D) Hem kendimizi hem de seçeceğimiz mesleğin özelliklerini iyi tanımalıyız.

8. Vergi, devlet tarafından yapılan kamu hizmetlerinin maliyetlerini karşılamak amacıyla devlete kaynak oluşturması için alınan paradır. Vergilerin kimlerden ve ne kadar alınacağı kanunla belirlenir. Bir iş adamının, asgari ücretli bir işçinin veya bir kamu personelinin kazancı aynı olmamasından devlete ödemeleri gereken vergiler de farklı olacaktır.

Buna göre, aşağıdakilerden hangisi yanlıştır?

- A) Vergilerden elde edilen kazanç toplum yararı için kullanılır.
- B) Vergi vermek devlet hizmetleri ve ülke menfaatleri için çok önemlidir.
- C) Vergi belirli kurallara göre alınır.
- D) Herkesin ödediği vergi miktarı aynıdır.

9. Bir bölgede sanayi tesisleri kurulurken dikkat edilen faktörlerin başında ham maddeye yakınlık gelmektedir.

Aşağıdaki şehir-yatırım eşleştirmelerinden hangisi verilen bilgiye ters düşmektedir?

- A) Adana - Tekstil fabrikası
- B) Diyarbakır - Çay fabrikası
- C) Aydın - Zeytinyağı fabrikası
- D) Konya - Şeker fabrikası

10. I. Vergi vermek vatandaşlık görevidir.
II. Vergiler yasalarla belirlenir, değiştirilir ve kaldırılabilir.
III. Vergiler kişilerin isteğine bağlı olarak alınır.

Yukarıda verilen bilgilerden hangileri doğrudur?

- A) Yalnız I
- B) Yalnız III
- C) I ve II
- D) I, II ve III

11. On bin yıllık bir kültür birikimine sahip Batman'da petrol yataklarının keşfedilmesi ve sonrasında kurulan petrol sanayi tesislerine paralel olarak artan yatırımlar insanların buraya göç etmesine neden olmuştur. Batman'a yapılan bu göç, beraberinde farklı ve zengin bir kültürü de getirmiştir. Güneydoğu Anadolu Bölgesi'nin tipik bir kenti olan Batman ve Batman'a bağlı yerleşim alanlarında görülmesi gereken çok sayıda tarihî ve turistik alan bulunmaktadır.

Metne göre, Batman ilinin gelişmesinde ve göç almasında etkili olan en önemli faktör aşağıdakilerden hangisidir?

- A) Köklü bir kültür birikimine sahip olması
- B) Önemli bir yer altı kaynağının keşfedilmesi
- C) Zengin bir tarihi mirasa sahip olması
- D) Güneydoğu Anadolu Bölgesi'nde bulunması

12. Aşağıdakilerin hangisinde ekonomik faaliyetler ve bu faaliyetlerin yoğun olarak yapıldığı bölgeler doğru eşleştirilmiştir?

- | Sanayi | Turizm | Ormancılık |
|---------------|-----------|------------|
| A) Marmara | Akdeniz | Karadeniz |
| B) Karadeniz | Akdeniz | Marmara |
| C) İç Anadolu | Karadeniz | Akdeniz |
| D) Akdeniz | Marmara | Karadeniz |