

### Üretim, Dağıtım ve Tüketim - 5

1. Aşağıdakilerden hangisi ormanları korumak için alınması gereken tedbirlerinden biri değildir?

- A) Orman içi yangına müdahale yollarını açmak
- B) Ormanlar içindeki mesire alanlarını genişletmek
- C) Kaçak ağaç kesimi yapanlara ağır cezalar getirmek
- D) Yangınlarda yok olan ağaçların yerine yenilerini dikmek

2. Bir ülkede vergi gelirlerinin artması;

- I. sağlık hizmetleri,
- II. ekonomik büyüme,
- III. devlet yatırımları

unsurlarından hangilerini olumlu etkiler?

- A) I ve II
- B) I ve III
- C) II ve III
- D) I, II ve III

3. I. İlgililik  
II. Yetenek  
III. Beceri

Meslek seçiminde yukarıda verilenlerden hangileri dikkate alınmalıdır?

- A) I ve II
- B) I ve III
- C) II ve III
- D) I, II ve III

4. Doğal kaynakların bilinçsizce tüketilmesi, aşırı avlanma, ormanların tahrip edilmesi, aşırı otlatma, sanayi tesislerinin yeterince denetlenmemesi ve plansız kentleşme gibi etmenler doğal kaynakların yok olmasına sebep olmaktadır.

Bu durum aşağıdakilerden hangisine yol açmaz?





- A) Volkanik patlama
- B) Kuraklık
- C) Hava kirliliği
- D) Gıda yetersizliği

5.



Öğretmen Zeynep Hanım dersinde "Dünya Alarm Veriyor" konusunu işlerken tahtaya EROZYON kelimesini yazarak öğrencilerine "Erozyonun sonuçları nelerdir?" sorusunu sormuştur.

Buna göre, aşağıda verilen öğrenci cevaplarından hangisi yanlıştır?

- A)   
Ahmet  
Toprağın verimli olan üst tabakasını aşındırdığı için tarımsal üretimi olumsuz etkilemektedir.
- B)   
Ayşe  
Taşınan toprak barajlara dolduğu için barajların kullanım ömrü kısalmaktadır.
- C)   
Fatih  
Toprak aşındığı için bitki örtüsü daha gür çıkmaktadır.
- D)   
Gamze  
Otlaklar zarar gördüğü için hayvancılık faaliyetlerini olumsuz yönde etkilemektedir.

**Üretim, Dağıtım ve Tüketim - 5**

6. GAP ile meydana gelen değişimler aşağıda verilmiştir.
- Şanlıurfa, kısa zamanda pamuk üretiminde ülke birincisi olmuştur.
  - Proje ile yapılan barajlardan 7'si Türkiye'nin elektrik ihtiyacının üçte birini karşılamıştır.
  - Bölgenin tarihi ve doğal güzelliklerinin fark edilmesini sağlamıştır.

**Buna göre, GAP'ın projesinin etkisiyle gelişme gösteren ekonomik faaliyet türleri aşağıdakilerin hangisinde sırasıyla verilmiştir?**

| I         | II     | III    |
|-----------|--------|--------|
| A) Tarım  | Ulaşım | Enerji |
| B) Sanayi | Enerji | Turizm |
| C) Tarım  | Enerji | Turizm |
| D) Ulaşım | Sanayi | Eğitim |

7. Devletin sağlık, güvenlik ve adalet gibi temel hizmetleri yerine getirmek için yaptığı harcamaların önemli bir kaynağı, topladığı vergilerdir.

**Aşağıdakilerden hangisi verilen bilgi doğrultusunda yapılan hizmetler arasında gösterilemez?**


- Baraj yapılması
- Yolların yapılması
- Limanların yapılması
- Özel hastanelerin açılması

8. "Milli eğitim programımızın temel taşı, cahilliğin yok edilmesidir. Cahillik yok edilmedikçe yerimizdeyiz. Yerinde duran bir şey ise geriye gidiyor demektir. Bir taraftan genel olan cahilliği yok etmeye çalışmakla beraber, diğer taraftan toplumsal hayatta bizzat faal ve faydalı, verimli elemanlar yetiştirmek lazımdır. Bu da ilk ve orta öğretimin uygulamalı bir şekilde olmasıyla mümkündür."

Mustafa Kemal Atatürk

**Atatürk, bu sözleriyle aşağıdaki insan özelliklerinden hangisini vurgulamıştır?**

- Gözlemci
- Nitelikli
- Hoşgörülü
- Demokratik

9.  **Buse**
- Müzik alanına ilginç ve yeteneğim var.
  - Seslerin inceliklerini algılayabiliyorum.
  - Müzik aleti kullanabiliyorum.
  - Sesimi iyi bir şekilde kullanabiliyorum.

**Buse'nin özellikleri dikkate alındığında, aşağıdaki mesleklerden hangisini seçmesi daha uygun olur?**

- Mühendis
- Ressam
- Müziyen
- Diş hekimi

10. "....., devletin millet ve ülkeye karşı yerine getirmeye mecbur olduğu görevlerini yapabilmesi için gereken giderlere bireyin katılma payıdır."  
Mustafa Kemal Atatürk

**Bu cümlede yer alan boşluk aşağıdakilerden hangisi ile doldurulmalıdır?**

- Vergi
- Adalet
- Eğitim
- Askerlik

11. İnsanlar ihtiyaçlarını genellikle doğal kaynaklardan karşılar. Bitmeyecekmiş gibi görünen bu kaynaklar, insanların bilinçsizce kullanımı sonucu büyük zarar görmektedir.

**Yukarıdaki bilgiye göre, aşağıdaki doğal kaynaklardan hangisinin bu durumdan daha az zarar gördüğü söylenebilir?**

- Ormanlar
- Güneş enerjisi
- Verimli araziler
- Doğal su kaynakları

12. Tarım ürünleri kimi zaman gıda, kimi zaman sanayide ham madde olarak kullanılmaktadır.

**Dokuma sanayisinde ham madde olarak kullanılan tarım ürünü aşağıdakilerden hangisidir?**

- Çay
- Mısır
- Pamuk
- Ayçiçeği