



### İnsanlar, Yerler ve Çevreler – 1

1. Ceyhan ve Seyhan nehirlerinin taşıdığı verimli topraklar üzerindeki Çukurova, tarihin eski dönemlerinden beri yerleşim yeri olarak tercih edilmektedir.

**Buna göre bu bölgenin yerleşim yeri olarak seçilmesinde aşağıdakilerden hangisi etkili olmuştur?**

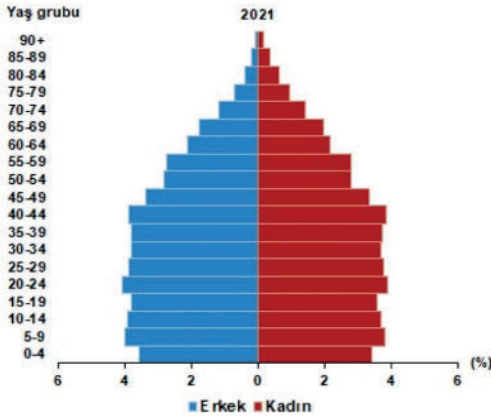
- A) Yeraltı kaynakları bakımından zengin olması  
B) Ulaşım imkânlarının gelişmiş olması  
C) Tarımsal faaliyetlere elverişli olması  
D) İkliminin insan yaşamına uygun olması
2. Aşağıdaki tabloda yerleşim yerlerinin tercih edilmesinde etkili olan beşeri ve doğal faktörlerden bazıları verilmiştir.

Yerleşim Yeri Tercihindeki Faktörler	
Doğal Faktörler	Beşeri Faktörler
İklim	Tarım
Yeryüzü Şekilleri	Sanayi
Bitki Örtüsü	Ulaşım
I	II

**Bu tabloda boş bırakılan I ve II numaralı yerlere aşağıdakilerden hangisi getirilebilir?**

- | I                | II                          |
|------------------|-----------------------------|
| A) Turizm        | Su kaynakları               |
| B) Su kaynakları | Ticaret                     |
| C) Ticaret       | Kara ve denizlerin dağılımı |
| D) Eğitim        | Verimli tarım alanları      |

3.



**Nüfus piramidi incelendiğinde aşağıdakilerden hangisi söylenemez?**

- A) Kadın ve erkek nüfusu birbirine yakındır.  
B) Nüfusun çoğunluğu 45 yaşın altındadır.  
C) 75 yaş ve üstü yaşlı nüfus oranı fazladır.  
D) 5 yaş altı nüfus oranı %5'in üzerindedir.

4.

İl adı	Nüfus	Yüzölçümü
İstanbul	15.840.900	5.461 km <sup>2</sup>
Ankara	5.747.325	25.632 km <sup>2</sup>
Diyarbakır	1.791.373	15.168 km <sup>2</sup>
Ardahan	94.932	4.934 km <sup>2</sup>

**Tabloda verilen bilgilere göre aşağıdaki yargılardan hangisine ulaşamaz?**

- A) Ankara'nın nüfus yoğunluğu Diyarbakır'dan daha fazladır.  
B) Yüz ölçümü en küçük il olan Ardahan'ın nüfus miktarı en azdır.  
C) Yüz ölçümüne göre nüfus yoğunluğunun en az olduğu il Diyarbakır'dır.  
D) Yüzölçümüne göre nüfus yoğunluğunun en fazla olduğu il İstanbul'dur.

5. Nüfusun yeryüzüne dağılımında aşağıdakilerden hangisi diğerlerinden daha az etkilidir?

- A) İklim  
B) Sanayi  
C) Bitki örtüsü  
D) Yüzölçümü

6. İzmir, Türkiye'de nüfusu en kalabalık olan üçüncü büyük ildir. Tarihi bir şehir olan İzmir, demir ve kara yolu ağı ile iç bölgelere bağlıdır. İzmir limanı, dış ticarete önemli bir yere sahiptir. İzmir'in turizm, kültür, ticaret ve sanayi özellikleri nüfusunun hızla artmasını sağlamıştır.

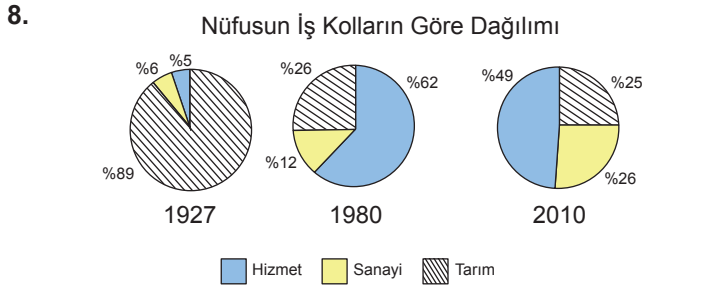
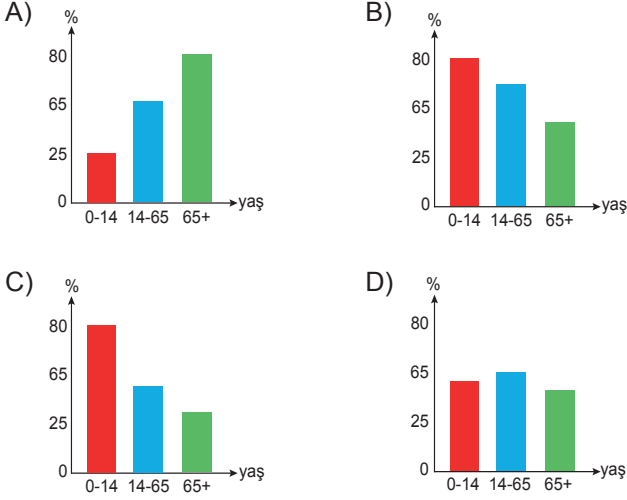
**Buna göre aşağıdakilerden hangisi İzmir'in nüfusunun artışında etkili olan faktörlerden biri değildir?**

- A) Ulaşımın gelişmiş olması  
B) Ticaretin gelişmiş olması  
C) Sanayinin gelişmiş olması  
D) Zengin maden yataklarının olması

İnsanlar, Yerler ve Çevreler – 1

7. Gelişmiş ülkelerde nüfus artış hızı düşük olduğundan yaşlı nüfus oranı fazla, genç oranı azdır.

Buna göre aşağıdaki nüfus ve yaş durumunu gösteren grafiklerden hangisi gelişmiş bir ülkeye ait olabilir?

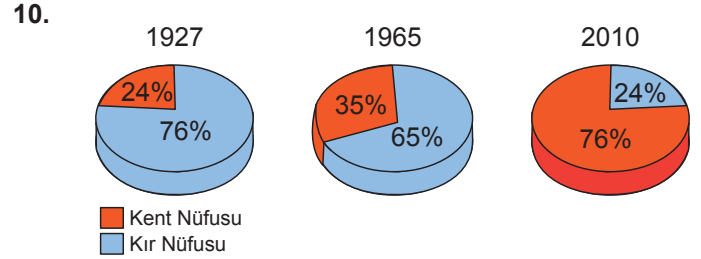


Türkiye nüfusunun iş kollarına göre dağılımının verildiği grafiklere göre aşağıdakilerden hangisi söylenemez?

- A) 1927 yılında nüfusun büyük çoğunluğu tarım sektöründe çalışmıştır.
- B) 1927 ve 2010 yılları arasında Türkiye'nin sanayisi gelişme göstermiştir.
- C) Sanayide çalışan nüfus oranı verilen yıllar arasında sürekli artmıştır.
- D) 1927 ve 2010 yılları arasında tarımda çalışan nüfus oranı sürekli artmıştır.

9. Antalya'da nüfus yoğunluğunun fazla olmasında;  
I. turizm,  
II. tarımsal faaliyetler,  
III. madencilik  
faktörlerinden hangileri etkili olmuştur?

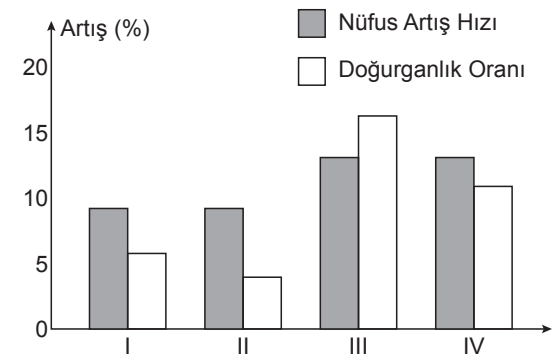
- A) Yalnız I
- B) I ve II
- C) II ve III
- D) I, II ve III



Türkiye'nin kır ve kent nüfus oranlarının gösterildiği grafikler incelendiğinde aşağıdaki yargılardan hangisine ulaşılabilir?

- A) 1965 yılında kent nüfusunun az olmasında yurt dışına yapılan göçler etkili olmuştur.
- B) 1927 yılından 2010 yılına kadar kent nüfusu sürekli artmıştır.
- C) 1927 yılında kent nüfusu kır nüfusundan fazladır.
- D) 2010 yılında ülke nüfusu 1965 yılı ülke nüfusundan daha azdır.

11. Aşağıdaki grafikte bazı illerin nüfus artış hızı ve doğurganlık oranları verilmiştir.



Buna göre, hangi ilin daha çok göç verdiği söylenebilir?

- A) I
- B) II
- C) III
- D) IV

12. Şirin'in yaşadığı yerde yüksek ve engebeli alanlar çoğunlukta olduğu için ekonomik faaliyetler kısıtlı yapılabilmektedir. Bu nedenle Şirin'in yaşadığı yerin nüfusu seyrekdir.

Buna göre aşağıdakilerden hangisi Şirin'in yaşadığı yerin seyrek nüfuslu olmasının nedeni olabilir?

- A) Yerçekilleri
- B) Sanayi
- C) Turizm
- D) Yer altı kaynakları

MEB • Ölçme, Değerlendirme ve Sınav Hizmetleri Genel Müdürlüğü