

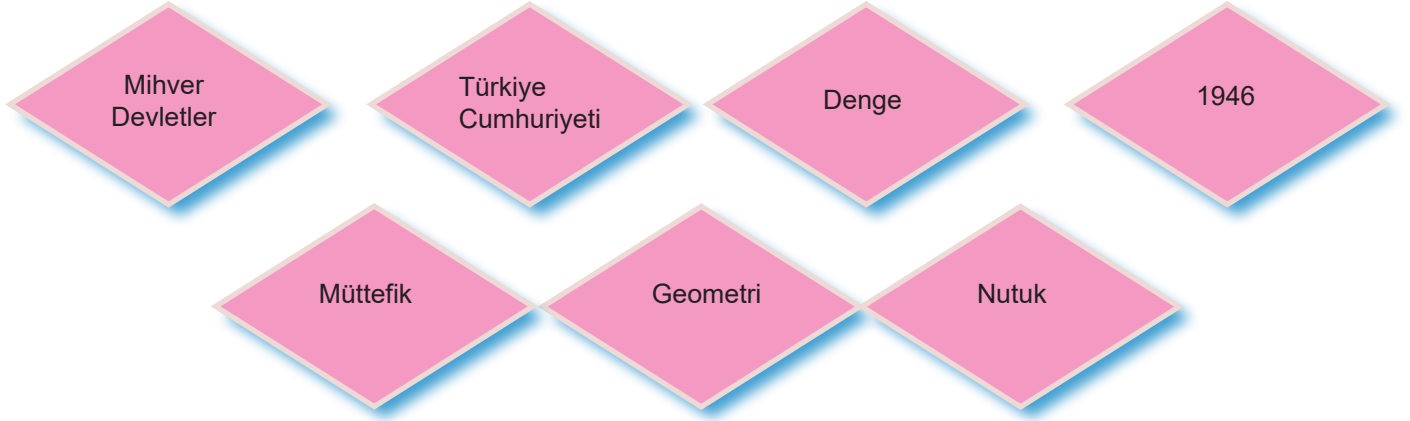
# 8. SINIF 7. ÜNİTE ÇALIŞMA FASİKÜLÜ

T.C. İNKILAP TARİHİ ve  
ATATÜRKÇÜLÜK

Bu kitapçık İSTANBUL Ölçme Değerlendirme Merkezi  
tarafından hazırlanmıştır.



1. Aşağıdaki cümlelerde boş bırakılan yerlere verilen uygun kavramları yazınız.

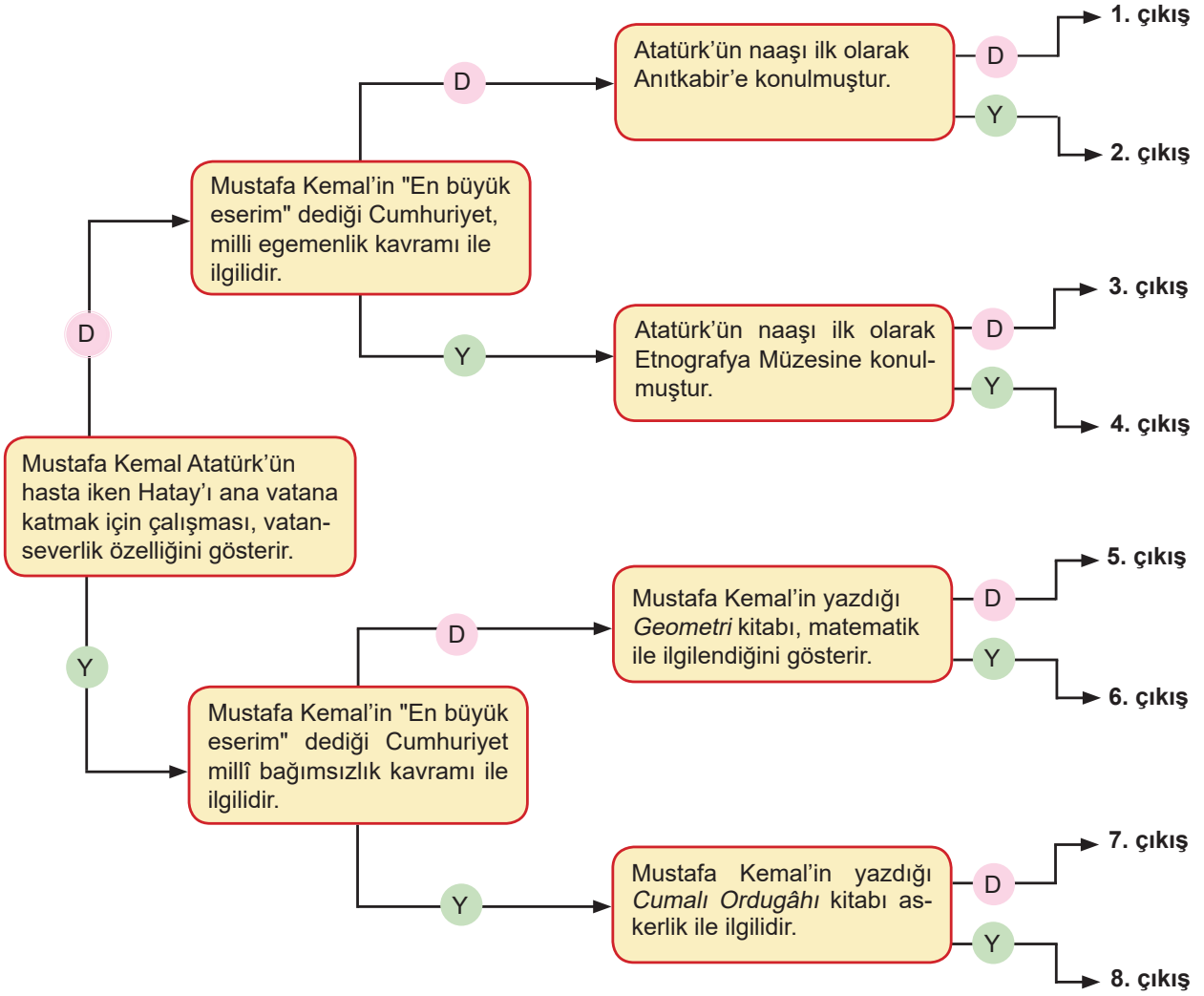


- a. Almanya'nın II. Dünya Savaşı'nda yer aldığı grup \_\_\_\_\_ grubudur.
- b. Demokrat Parti \_\_\_\_\_ yılında kurulmuştur.
- c. Atatürk'ün matematik ve geometri terimlerinin Türkçe karşılıklarını belirlediği kitap \_\_\_\_\_ kitabıdır.
- d. Türkiye II. Dünya Savaşı'ndan önce \_\_\_\_\_ politikası izlemiş, daha sonra da \_\_\_\_\_ Devletler grubunda savaşa katılmıştır.
- e. \_\_\_\_\_ Atatürk'ün milletine bıraktığı en büyük eserdir.

2. Aşağıdaki cümlelerden doğru olanların yanına "D", yanlış olanların yanına "Y" koyunuz. Yanlış cümlelerin altına doğrularını yazınız.

	Atatürk döneminde çok partili siyasi hayata kesin olarak geçilmiştir.
	Türkiye, Adana Konferansı'ndan sonra II. Dünya Savaşı'na katılma kararı almıştır.
	II. Dünya Savaşı'ndan sonra ülkemizde tarımda makineleşme artmıştır.
	1945 yılında Adnan Menderes tarafından Millî Kalkınma Partisi kurulmuştur.
	Mustafa Kemal'in <i>Nutuk</i> adlı eserinde II. Dünya Savaşı anlatılmaktadır.
	Mustafa Kemal, en büyük emanetim dediği Türkiye Cumhuriyeti'ni gençlere emanet etmiştir.
	Mustafa Kemal 10 Kasım 1938'de Çankaya Köşkü'nde vefat etmiştir.
	Türkiye Cumhuriyeti'nin ikinci Cumhurbaşkanı Celal Bayar'dır.
	Türkiye Cumhuriyeti, II. Dünya Savaşı yıllarında denge politikası izlemiştir.
	1 Eylül 1939'da Almanya'nın Arnavutluk'u işgal etmesiyle II. Dünya Savaşı başlamıştır.

3. Aşağıda verilen şemadaki ifadeleri en soldaki kutucuktan başlayarak okuyunuz. İfadelerin doğru "D" ya da yanlış "Y" olduğuna karar vererek doğru çıkışı bulunuz.



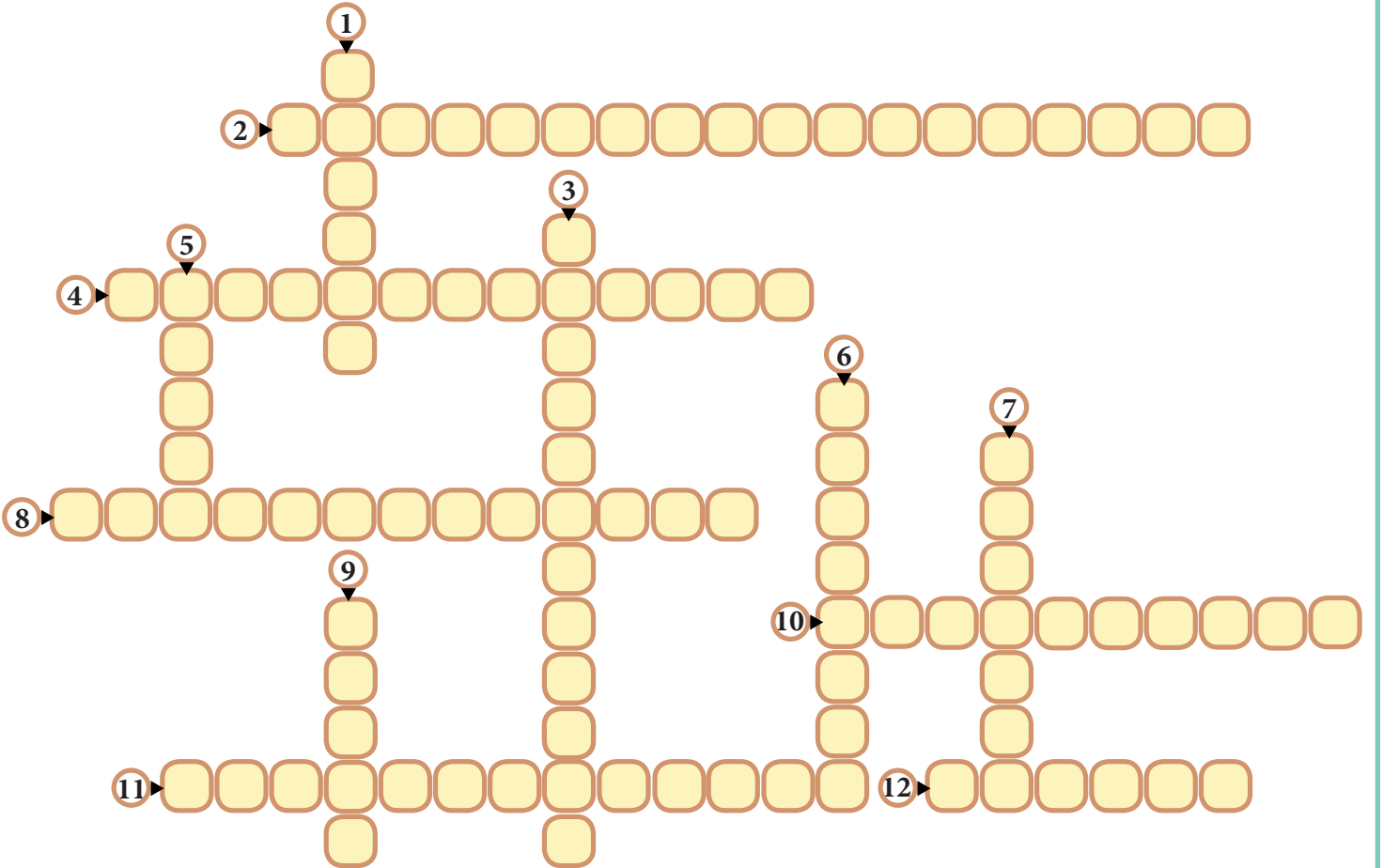
4. Aşağıdaki soruları cevaplayarak bulmacayı çözünüz.

**SOLDAN SAĞA**

2. II. Dünya Savaşı'ndan sonra dünyada barışı korumak için kurulan cemiyet
4. Türkiye Cumhuriyeti'nin II. Dünya Savaşı sırasında izlediği politika
8. II. Dünya Savaşı öncesinde batı sınırlarımızı korumak için yapılan antlaşma
10. Atatürk'ün Anıtkabir'den önce kabrinin geçici olarak bulunduğu müze
11. Adnan Menderes tarafından kurulan parti
12. II. Dünya Savaşı döneminde yüksek gelirli kişilerden alınan vergi

**YUKARIDAN AŞAĞIYA**

1. II. Dünya Savaşı'nda Almanya, İtalya ve Japonya'nın bulunduğu grup
3. II. Dünya Savaşı öncesinde doğu sınırlarımızı korumak için yapılan antlaşma
5. Atatürk'ün 19 Mayıs 1919'da Samsun'a çıkışı ile başlayıp Gençliğe Hitabe ile biten kitabı
6. Atatürk tarafından yazılan matematik kitabı
7. 1 Eylül 1939'da Almanya'nın ilk işgal ettiği ülke
9. Atatürk'ün ölümüne sebep olan hastalık



5. Aşağıdaki soruların cevaplarını verilen kutulara yazınız.

A. Dönemin Dışişleri Bakanlığının “Bu acı hadise ile Türk vatani büyük yapıcısını, Türk milleti ulu şefini, insanlık büyük evladını kaybetti.” yazısı ile vefat haberi tüm dünyaya duyurulan kişi kimdir?

B. Almanya’da 1930’lu yıllarda iktidara gelip Alman ırkının üstünlüğünü savunan ve II. Dünya Savaşı’nın çıkmasında büyük etkisi olan devlet adamı kimdir?

C. II. Dünya Savaşı Almanya’nın hangi ülkeyi işgal etmesi ile başlamıştır?

D. Almanya ve Japonya’ya savaş ilan etmeyen devletlerin kurulacak olan uluslararası teşkilata (Birleşmiş Milletler) üye kabul edilmeyeceği duyurusunun yapıldığı konferans hangisidir?

E. II. Dünya Savaşı’nın getirdiği ekonomik şartları fırsata çevirerek yüksek gelir elde edenlerden vergi almak için çıkarılan kanun nedir?

F. II. Dünya Savaşı yıllarında Türkiye’de enflasyon hızla yükselirken bir taraftan da karaborsacılık görülmeye başlanmıştır. Ekonomide yaşanan bu gelişmeler üzerine üretim, dağıtım ve tüketim faaliyetleri, çıkarılan bir kanunla hükûmetin kontrolü altına alınmıştır. Bu kanunun ismi nedir?

G. II. Dünya Savaşı yıllarında Türkiye’de kırsal kesimde kurulan eğitim kurumlarının genel adı nedir?

Ğ. II. Dünya Savaşı’nda Almanya ve İtalya’nın başını çektiği grubun adı nedir?

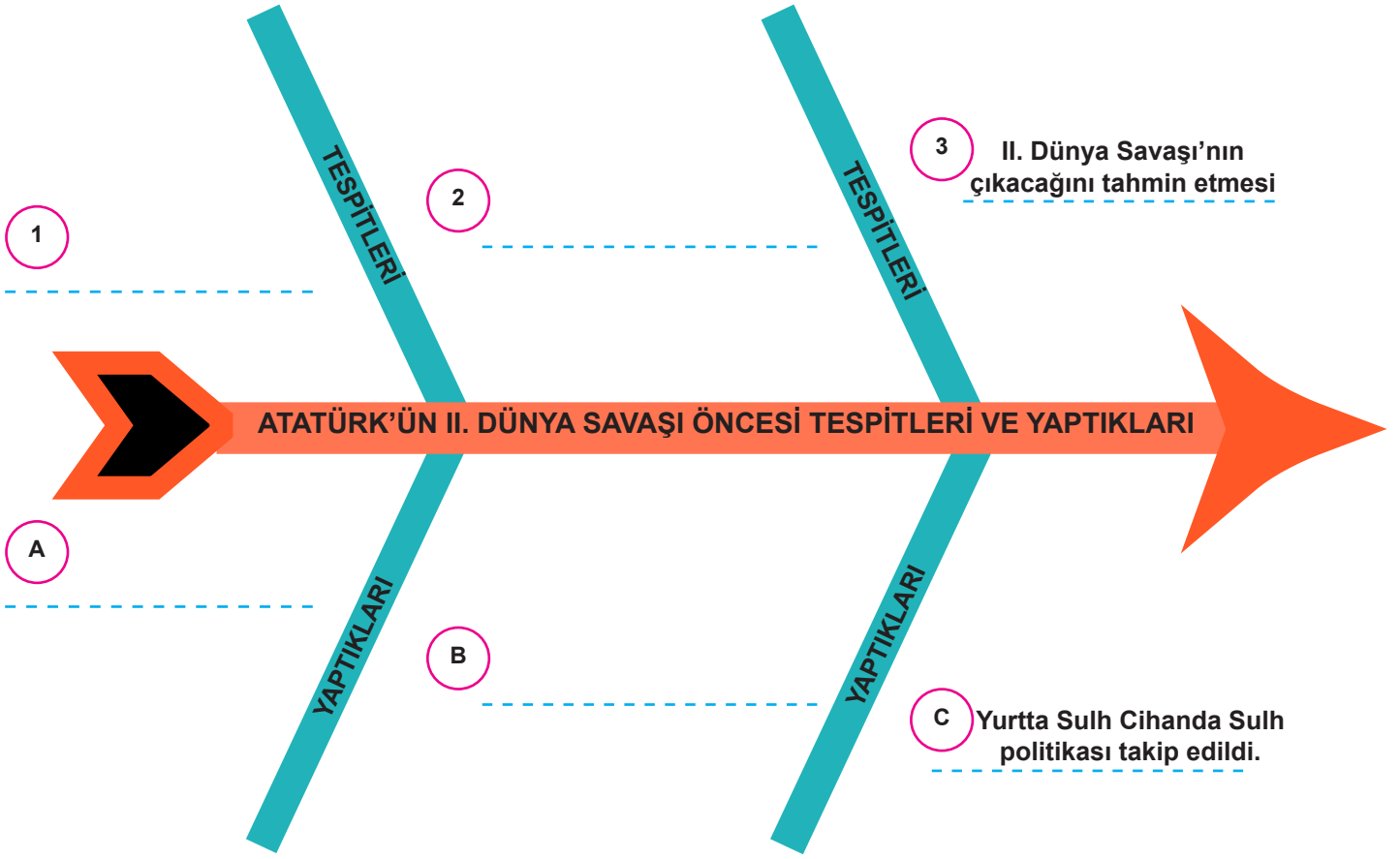
H. II. Dünya Savaşı sırasında Türkiye’nin cumhurbaşkanı kimdir?

I. II. Dünya Savaşı’nda İngiltere, Fransa ve ABD’nin başını çektiği grubun adı nedir?

İ. Amerikan uçaklarının iki kez atom bombası attığı ve bu olay üzerine teslim olan ülke hangisidir?

J. Demokrasinin ilkeleri arasında yer alan, Türkiye’de 1946 yılında 10’dan fazla siyasi partinin kurulması ve ilk kez birden fazla partinin seçime katılmasıyla geçilen sistemin adı nedir?

6. Verilen diyagramı uygun ifadelerle tamamlayınız.



7. Aşağıdaki soruların cevaplarını sözcük avı bulmacasından bularak işaretleyiniz.

- II. Dünya Savaşı sırasında Türkiye'de zenginlere uygulanan vergi türü
- Atatürk'ün matematik alanında yazdığı eser
- II. Dünya Savaşı'nda Almanya, İtalya ve Japonya'nın oluşturduğu üçlü ittifak grubu
- II. Dünya Savaşı sırasında ABD'nin atom bombası attığı ülke
- 1981 yılını "Atatürk Yılı" olarak ilan eden kuruluş
- 1945 yılında Adnan Menderes öncülüğünde kurulan muhalefet partisi
- II. Dünya Savaşı sırasında İngiltere ile Türkiye'nin görüşmek için bir araya geldiği şehrimiz

U	J	A	P	O	N	Y	A	W	İ
O	Z	W	M	Q	V	D	F	G	V
J	J	A	İ	O	A	E	A	E	K
D	İ	X	H	F	R	M	D	O	Y
D	W	X	V	L	L	O	A	M	F
Q	O	G	E	L	I	K	N	E	A
W	D	G	R	H	K	R	A	T	R
O	Y	P	U	K	V	A	T	R	D
N	A	A	T	İ	X	T	M	İ	T
B	U	N	E	S	C	O	Q	A	R

8. Aşağıdaki kutucuklarda verilen metinleri okuyunuz. Bu metinleri Atatürk'ün kişilik özellikleri ile eşleştirerek doğru çıkışa ulaşınız.

"Avrupa'nın savaş sonrasındaki tarihî liderlerini başarılarına göre sıraya koyan eksiksiz bir liste oluştursaydık asker, yaratıcı, reformcu, modern Türkiye'nin kurucusu Cumhurbaşkanı Kemal Atatürk bu listenin en başlarında yer alırdı. Ölümü dünya barışı için gerçek bir kayıp oldu."  
(Los Angeles Times, ABD, 11 Kasım 1938)

Kararlı

Çok yönlü

"Çelik gibi azim ve gayreti, uzağı gören akıl ve hikmetle birleştirmiş olan bu gerçek halk önderi ve devlet adamı; Anadolu dağlarının en uzak ve ıssız köşesindeki köylere bile başka bir ruh aşılamiştir."  
(Illustrierte Zeitung Dergisi, Almanya)

"Mustafa Kemal hırpalanmış, silahı elinden alınmış olan bir milletle tarihe yeni bir devir açmak için mücadeleye girişti ve bu mücadelesinde ruh kudretinin dünya yüzündeki bütün silahlardan üstün olduğunu ispat etti." (Prof. Dr. Herbert Melzig, Alman Tarihçi)

Vatansever

İleri görüşlü

Kararlı

İleri görüşlü

"Atatürk'ün hayatı ve eseri yalnız Türkiye için değil, dünyanın bütün hür ulusları için de ilham kaynağı olmaya devam edecektir."  
Chiang Kai-shek  
(Çang Kay Şek), Çin Devlet Başkanı

"Görüşü o kadar keskin ve sıhhatli idi ki olayların gidişi, halkın duyguları ve Türkiye'nin dış münasebetlerle ilgili ihtiyacı hakkındaki sezışleri şaşılacak bir şekilde doğru çıkardı."  
Sir Percy Loraine  
(Sör Pörsi Loreyn), İngiltere Eski Büyükelçisi

"Dünya tarihinde, Kemal Atatürk gibi önemli bir görevi kesin şekilde başarı ile sonuçlandıran ve bir ulusun mutlu geleceğini sağlayacak sorumlulukları üzerine alan dürüst insanlara çok ender rastlanmaktadır."  
Rıza Pehlevi, İran Şahı

"Atatürk, istiklal hissini taşıyan bütün milletler için ölmez bir semboldür."  
Alman Basını

Önder

Mantıklı

Vatansever

Bağımsızlık

1. Çıkış

2. Çıkış

3. Çıkış

4. Çıkış

9. II. Dünya Savaşı'nın Türkiye'ye siyasi, sosyal ve ekonomik etkileri olmuştur. Aşağıda II. Dünya Savaşı'nın Türkiye'ye etkilerinin gösterildiği tablodan siyasi, sosyal ve ekonomik etkileri eşleştiriniz.

1

Yetişkin nüfusun askere alınması üretimin düşmesine neden olmuştur.

6

Birçok şehirde gece saldırılarına karşı karartma uygulanmıştır.

2

II. Dünya Savaşı'nı Almanya ve İtalya gibi diktatör yönetimlerin kaybetmesi, demokratik rejimlerin önemini artırmıştır.

7

Müttefik Devletler 1945'te Yalta Konferansı'nda Mihver Devletler'e savaş ilan edenlerin Birleşmiş Milletler'e girebileceği kararını almıştır.

3

Üretimin azalmasıyla ürünlerin fiyatı artmıştır. Bu yüzden Millî Korunma Kanunu çıkarılmıştır. Bu kanun çerçevesinde Varlık Vergisi toplanmıştır.

8

Savaşa hazır olmak için gelirlerin büyük bir bölümü savunmaya ayrılmış ve II. Beş Yıllık Kalkınma Planı uygulanamamıştır.

4

40 yaş altındaki erkeklerin askere alınması sebebiyle nüfus artış hızı azalmıştır.

9

Türkiye savaşın yıkıcı etkilerinden dolayı savaşa girmemek için denge politikasını sürdürmüştür.

5

Üretimin düşmesi ile birlikte Türkiye'nin büyüme hızı düşmüştür.

10

İstanbul başta olmak üzere belli yerlerde gece 23.00'ten sonra sokağa çıkma yasağı uygulanmıştır.

11

Müttefik Devletler Türkiye'nin kendi yanlarında savaşa girmesi için sürekli baskı yapmıştır.

SİYASİ ETKİLERİ



SOSYAL ETKİLERİ



EKONOMİK ETKİLERİ





10. Aşağıda II. Dünya Savaşı'nda yer alan devletler verilmiştir. Devletleri ait oldukları alana yerleştiriniz.

İtalya Fransa İngiltere Japonya

SSCB Almanya ABD

MİHVER DEVLETLER

MÜTTEFİK DEVLETLER

.....  
.....  
.....

.....  
.....  
.....

11. Aşağıdaki ifadelerden doğru olanlar için "D", yanlış olanlar için "Y" kutucuğunu işaretleyiniz.

a. Müttefik Devletler savaş sonrasında yapılacakları görüşmek için Yalta Konferansı'nı gerçekleştirmiştir.

D

Y

b. Versay Anlaşması'nın ağır maddeler içermesi II. Dünya Savaşı'na neden olmuştur.

D

Y

c. Türkiye, Birleşmiş Milletler'e girmek amacıyla Japonya ve Fransa'ya savaş ilan etmiştir.

D

Y

ç. Türkiye, II. Dünya Savaşı'na katılmadığı için gelişmelerden olumsuz etkilenmemiştir.

D

Y

d. Türkiye, savaşta tarafsız kalarak denge politikası yürütmeye çalışmıştır.

D

Y

e. İngiltere, ABD, Fransa ve Japonya Müttefik Devletler grubunu oluşturur.

D

Y

f. I. Dünya Savaşı sonunda ağır antlaşmalar imzalanması ve Milletler Cemiyeti'nin dünya barışını sağlayamaması II. Dünya Savaşı'na neden olmuştur.

D

Y

g. Mihver Devletler'e savaş ilan edenler Milletler Cemiyeti'ne alınmıştır.

D

Y

ğ. Türkiye, Almanya'ya savaş ilan etmiş ve Almanya ile savaşmıştır.

D

Y

12. Aşağıdaki soruları cevaplayınız.

A. Mustafa Kemal Atatürk Dönemi'nde çok partili döneme geçiş için hangi partiler kurulmuştur?

.....  
.....

B. II. Dünya Savaşı'ndan sonra toprağı olmayan çiftçilere, büyük toprak sahiplerinin topraklarından verilmesi için hangi kanun çıkarılmıştır?

.....  
.....

C. 1946 seçimlerinde oy kullanma ve sayım işleri nasıl yapılmıştır?

.....  
.....

D. II. Dünya Savaşı'ndan sonra dünya barışını sağlamak için kurulan örgütün ismi nedir?

.....  
.....

E. Türkiye'deki demokratik hayatın gelişmesine en çok katkı sağlayan olay nedir?

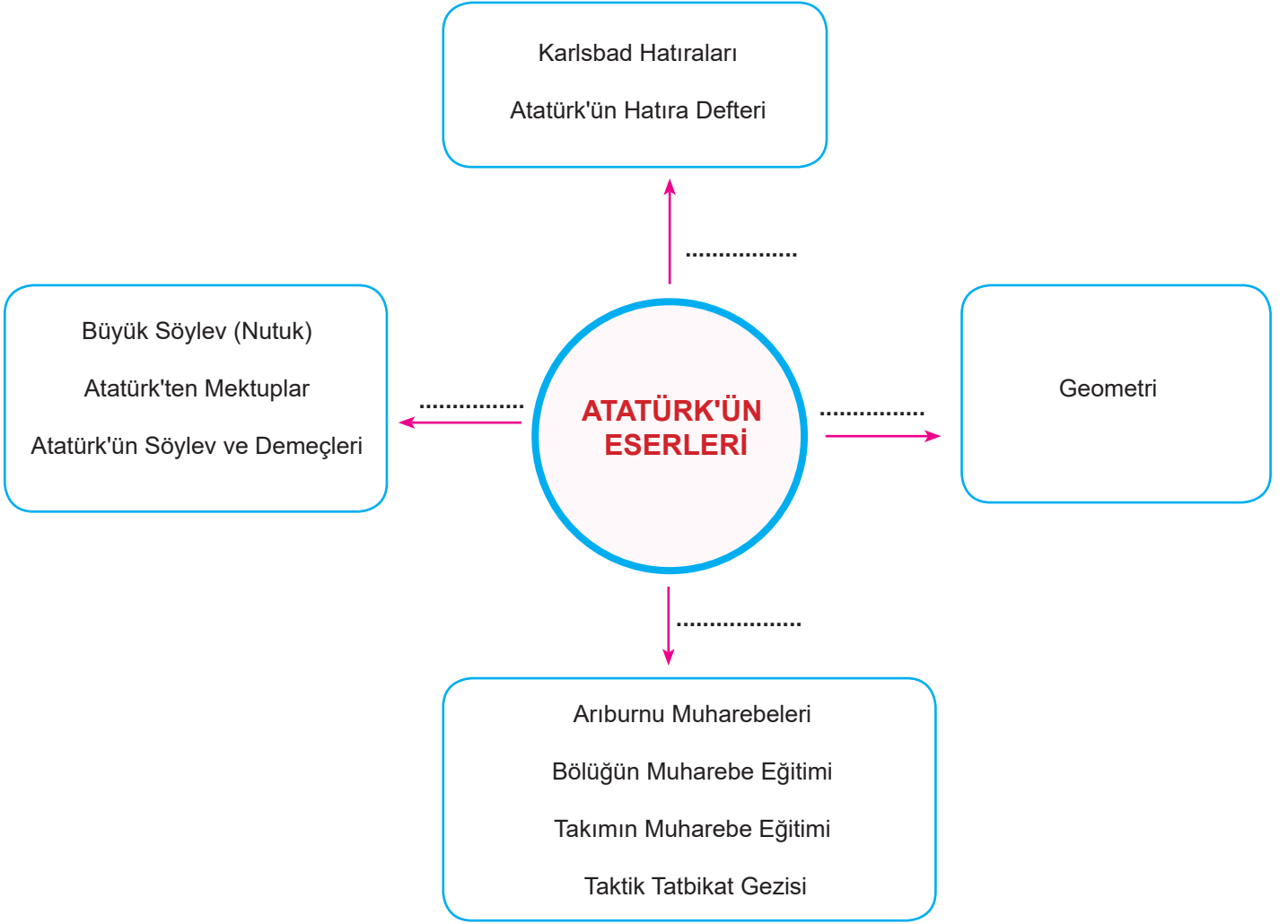
.....  
.....

13. Aşağıdaki boşlukları uygun kelimelerle tamamlayınız.

Birleşmiş Milletler    Hatay    Mihver Devletler    Milletler Cemiyeti    İsmet İnönü  
TBMM    Müttefik Devletler    Refik Koraltan    Türk Dil Kurumu    İttifak Devletleri  
Kazım Karabekir    NATO    İtilaf Devletleri    Türk Tarih Kurumu    Kıbrıs

- A. Atatürk mal varlığının büyük bir bölümünü \_\_\_\_\_ ve \_\_\_\_\_'na bırakmıştır.  
B. Atatürk'ün vefatından sonra 11 Kasım 1938 günü TBMM toplanarak \_\_\_\_\_ 'yü cumhurbaşkanı seçmiştir.  
C. II. Dünya Savaşı'na katılan devletler \_\_\_\_\_ ve \_\_\_\_\_ olarak iki gruba ayrılmışlardır.  
Ç. II. Dünya Savaşı'ndan sonra dünya barışını sürekli kılabilmek amacıyla 1945 yılında \_\_\_\_\_ kurulmuştur.  
D. Atatürk, ömrünün son yıllarında \_\_\_\_\_ sorunu ile ilgilenmiştir.

14. Aşağıdaki şemada Atatürk'ün eserleri ve Atatürk'e ait bilgilerin yer aldığı eserler verilmiştir. Verilen eserlerin hangi alana ait olduğunu boş bırakılan yerlere yazınız.



15. Aşağıdaki cümlelerin doğru olanlarının başına "D" yanlış olanların başına ise "Y" yazınız.

- ( ) Atatürk'ün naaşı 16 Kasım 1938'de Anıtkabir'e nakledilmiştir.
- ( ) Atatürk tüm mal varlığını ve gelirlerini Türk Tarih Kurumu ve Türk Dil Kurumu'na bağışlamıştır.
- ( ) Atatürk'ün, "Cumhuriyetin 15. Yılı" konuşmasını İsmet İnönü yapmıştır.
- ( ) II. Dünya Savaşı'nın başlama nedeni sömürgeciliktir.
- ( ) Atatürk'ün son günlerinde en çok uğraştığı mesele Hatay sorunudur.
- ( ) Japonya, II. Dünya Savaşı'nda Müttefik Devletler'de yer almıştır.
- ( ) Atatürk, "Vatandaş İçin Medeni Bilgiler" adlı kitabı yazmıştır.
- ( ) Ülkemiz Birleşmiş Milletler'in kurucu üyesidir.
- ( ) Atatürk'ün lideri olduğu Kurtuluş Savaşı mazlum milletlere ilham vermiştir.
- ( ) 21 Haziran 1946'da yapılan genel seçimi Millî Kalkınma Partisi kazanmıştır.

**16. Aşağıda II. Dünya Savaşı'nın Türkiye'ye olan etkileri belirtilmiştir. Bu etkileri ilgili oldukları alanlar ile eşleştiriniz. (Aşağıda yer alan maddelerden bazıları birden fazla alanla ilişkilendirilebilir.)**

- Türkiye'nin II. Dünya Savaşı'nın sonunda aldığı savaşa girme kararı, Birleşmiş Milletler'e kurucu üye olarak katılmasını sağladı.
- Halkın seyahat etme ve haber alma özgürlükleri kısıtlandı.
- Gece saat 23.00'ten sonra sokağa çıkma yasağı uygulandı.
- Millî Korunma Kanunu çıkarılarak üretim, dağıtım ve tüketim faaliyetleri hükûmetin kontrolü altına alındı.
- II. Dünya Savaşı, Türkiye'de çok partili siyasal yaşama geçilmesine katkı sağladı.
- Savunma giderlerini karşılamak için Toprak Mahsulleri Vergisi kondu.
- Tasarruf sağlayabilmek için en temel ihtiyaç maddeleri olan ekmeke, şeker vb. ürünler karne sistemi ile dağıtıldı.
- Askeri harcamaları karşılamak amacıyla Varlık Vergisi kondu.
- Aşırı fiyat artışlarını engellemek için narh uygulamasına geçildi ve temel tüketim fiyatları devlet tarafından belirlendi.

Siyasal	Ekonomik	Sosyal	Hukuki
.....	.....	.....	.....
.....	.....	.....	.....
.....	.....	.....	.....
.....	.....	.....	.....

**17. Aşağıdaki soruları cevaplandırınız.**

II. Dünya Savaşı'nda Türk dış politikası başarıyla sonuçlandırıldı. Bir yandan Mihver ve Müttefik Devletler'in Türkiye'yi fiilen savaşa katma gayretlerine karşı politika yürütüldü. Diğer bir yandan da işgale uğramamak için farklı bir politika izlendi. Bu dönemde Türkiye Cumhurbaşkanı İsmet İnönü ve İngiltere Başbakanı Winston Churchill çeşitli görüşmeler gerçekleştirmiştir.

**Sorular**

**1- Türkiye Cumhurbaşkanı İsmet İnönü ve İngiltere Başbakanı Winston Churchill nerelerde görüşmüşlerdir?**

.....  
.....

**2- Bu görüşmelerin Türkiye açısından amacı nedir?**

.....  
.....

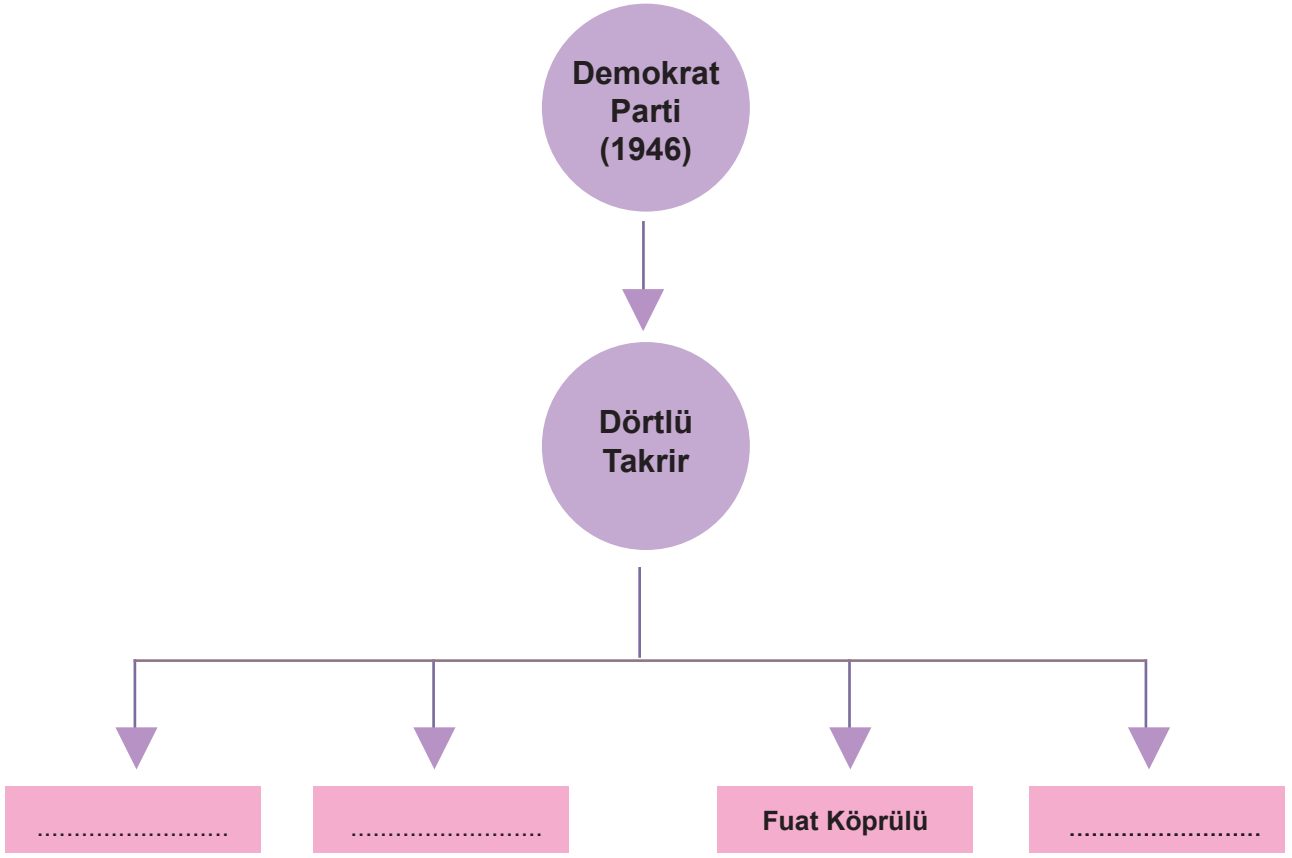
**3- Bu görüşmelerin ABD açısından amacı nedir?**

.....  
.....

**4- Türkiye'nin II. Dünya Savaşı sırasında dış politikası nedir?**

.....  
.....

18. Aşağıdaki diyagramda boş bırakılan alanlara Demokrat Parti kurucularını yazınız.



19. Aşağıdaki cümleleri verilen kavramlarla eşleştiriniz.

1. Türkiye Cumhuriyeti'nde kurulan ilk siyasi partidir.	a) Demokrat Parti
2. Türkiye Cumhuriyeti'nde kurulan ilk muhalefet partisidir.	b) Halk Fırkası
3. Türkiye Cumhuriyeti'nde kurulan ikinci muhalefet partisidir.	c) Birleşmiş Milletler
4. 1945 yılında dünya barışını korumak için kurulmuştur.	d) Serbest Cumhuriyet Fırkası
5. 1950 yılında yapılan seçimlerde kazanan partidir.	e) Terakkiperver Cumhuriyet Fırkası

20. Aşağıda verilen görüşmeleri eşleştiriniz.

İngiltere Başbakanı W. Churchill Türkiye'nin İkinci Dünya Savaşı'na girmesi için Cumhurbaşkanı İsmet İnönü ile ikili görüşme yapmıştır.

Dünya barışını sağlamak amacıyla ülkeler bir araya geldiler.

II. Dünya Savaşı'ndan sonra Amerika Birleşik Devletleri, Sovyetler Birliği ve İngiltere başkanları Almanya topraklarının paylaşımı başta olmak üzere diğer konuları görüşmek amacıyla bir araya geldiler.

6 Aralık 1943 tarihinde Türkiye'nin II. Dünya Savaşı'nda Müttefik Devletler arasına katılması için gerçekleşen konferanstır. Toplantıya, Amerika Birleşik Devletleri'nden Başkan Roosevelt, Birleşik Krallık'tan Başbakan Churchill ve Türkiye'den Cumhurbaşkanı İnönü katılmıştır.

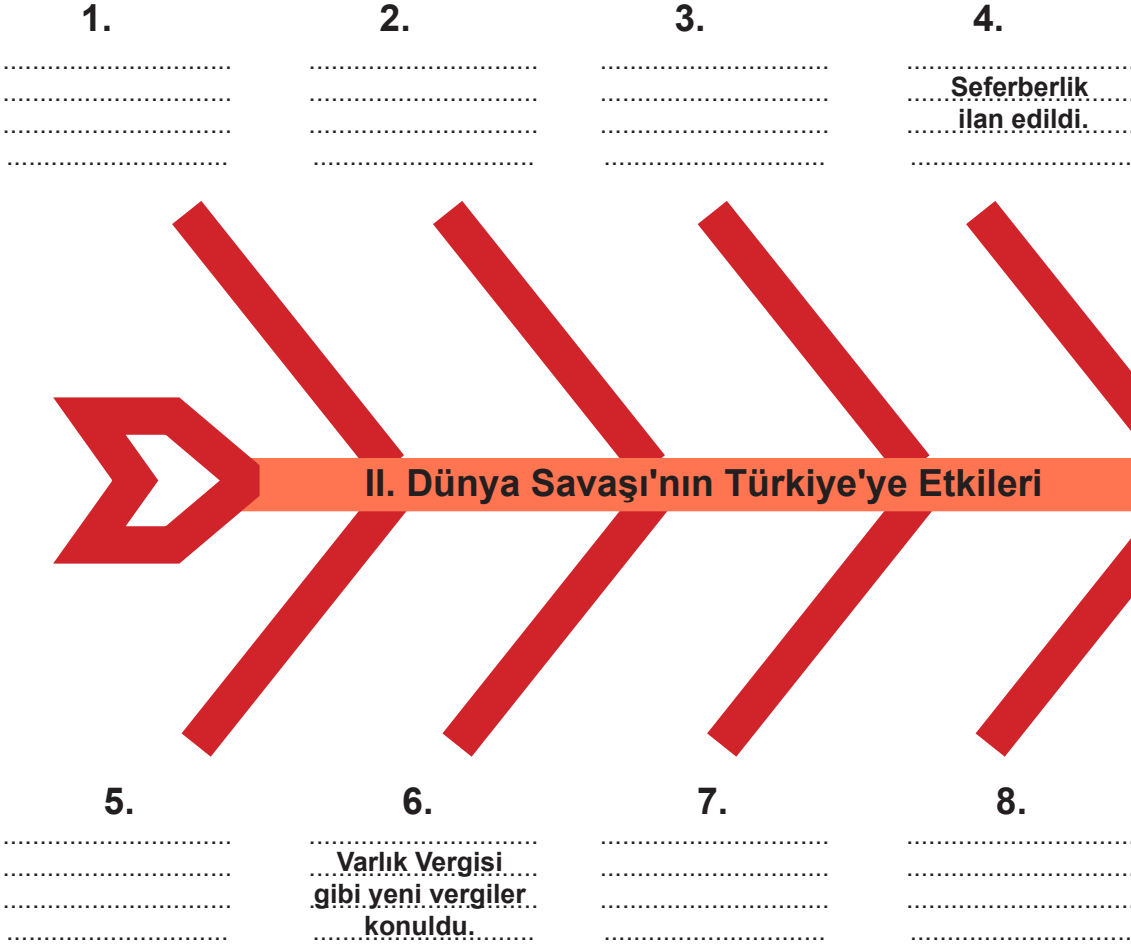
II. Kahire Konferansı

Yalta Konferansı

Adana Konferansı

San Francisco Konferansı

21. Aşağıda gösterilen balık kılıçığı diyagramındaki boşluklara II. Dünya Savaşı'nın Türkiye'ye etkilerini yazınız.



### BEN HANGİ DEVLETİM?

22. Aşağıdaki tabloda yer alan boşluklara uygun ülkeyi yazınız.

ABD / ALMANYA / İNGİLTERE / JAPONYA / SSCB / FRANSA / İTALYA

Polonya'ya saldırarak II. Dünya Savaşı'nın başlamasına sebep oldum.	
Adana ve Kahire'de görüşmeler yaparak Türkiye'yi savaşa sokmaya çalıştım.	
Hiroşima ve Nagazaki'ye atom bombası attım.	
Topraklarımıza saldıran Almanya'yı ben durdurdum.	
Hitlerle birlikte Avrupa'da yayılcı politika izledim.	
II. Dünya Savaşı'nda Almanlar tarafından tamamen işgal edildim.	
Mihver Devletlerin Uzak Doğu'daki ortağıyım.	

23. Aşağıdaki kelimeleri uygun boşluklara yerleştiriniz.

VARLIK VERGİSİ

YALTA KONFERANSI

DENGE  
POLİTİKASI

AÇIK OY GİZLİ  
SAYIM

NUTUK

POLONYA

HİROŞİMA ve  
NAGAZAKİ

MÜTTEFİK  
DEVLETLER

KARNE

MİHVER  
DEVLETLER

CUMHURİYET

ALMANYA

- 1- Mustafa Kemal Atatürk'ün 1919-1927 yılları arasını anlatan en önemli yazılı eseri \_\_\_\_\_'tur.
- 2- Türkiye'nin ilk çok partili seçimi olan 1946 seçimlerinde \_\_\_\_\_ yapılmıştır.
- 3- II. Dünya Savaşı sırasında Türkiye'de ekonomiyi rahatlatmak için \_\_\_\_\_ toplanmıştır.
- 4- Almanya'nın \_\_\_\_\_'ya saldırmasıyla II. Dünya Savaşı başlamıştır.
- 5- Müttefik Devletler \_\_\_\_\_'nda Mihver Devletlere savaş ilan edenlerin Birleşmiş Milletler'e üye olabileceğini duyurmuştur.
- 6- Almanya, İtalya ve Japonya'nın oluşturduğu gruba \_\_\_\_\_ denir.
- 7- ABD, II. Dünya Savaşı sonunda teslim olmayan Japonya'nın \_\_\_\_\_ şehirlerine atom bombası atmıştır.
- 8- Mustafa Kemal Atatürk: "\_\_\_\_\_ benim en büyük eserimdir." demiştir.
- 9- ABD, İngiltere, SSCB ve Fransa'nın oluşturduğu gruba \_\_\_\_\_ denir.
- 10- Türkiye II. Dünya Savaşı'nın olumsuz etkilerini önlemek için \_\_\_\_\_ izlemiştir.
- 11- \_\_\_\_\_ II. Dünya Savaşı'nda Fransa'yı işgal etmiştir.
- 12- Savaş yıllarında Türkiye'de ekmek, yağ, şeker gibi temel gıdalar \_\_\_\_\_ ile verilmiştir



24. Aşağıdaki ifadelerin ait olduğu alanları bularak sütundaki ilgili bölümü işaretleyiniz.

İfadeler	Eğitim	Sosyal	Siyasi	Ekonomik
Varlık Vergisi				
NATO'ya Üyelik				
Toprak Reformu				
Ekmek Karnesi				
Köy Enstitüleri				
Millî Korunma Kanunu				

25. "Temel ilke, Türk milletinin haysiyetli ve şerefli bir millet olarak yaşamasıdır. Bu ilke, ancak tam istiklale sahip olmakla gerçekleştirilebilir. Ne kadar zengin ve bolluk içinde olursa olsun, istiklalden yoksun bir millet, medeni insanlık dünyası karşısında uşak olmak mevkiinden yüksek bir muameleye layık görülemez."

**Atatürk'ün *Nutuk* adlı eserinden alınan bu parçada Türk milletine vermek istediği mesaj aşağıdakilerden hangisidir?**

- A) Ekonomik olarak dünyanın en gelişmiş milleti olmaları
- B) Kendilerini her konuda diğer milletlerden üstün görmeleri
- C) Bağımsızlık duygularını her şeyin üstünde tutmaları
- D) Geçmişe bakarak ders çıkarmaları

26. Atatürk, 1938 yılında hasta yatağında Afet İnan'a şu sözleri not ettirmiştir: "Devletler II. Dünya Savaşı'na hazırlanıyor. Biz bu durumda iki konuya önem vermeliyiz. Birincisi, doğu ve batı komşularımızla olduğu gibi öteki devletlerle kurduğumuz antlaşmaları da güçlendirmek, ikincisi ise yurdumuzun ekonomik durumunu değiştirmek ve bu bakımdan ekonomik planlarımızı uygulamaktır."

**Aşağıdaki ifadelerden hangisi Atatürk'ün bu görüşünü desteklemez?**

- A) Dış politikada "Yurtta barış, dünya da barış" anlayışının sürdürülmesi
- B) Savaş başladıktan sonra Almanya ile saldırmazlık antlaşmasının imzalanması
- C) Millî Korunma Kanunu'nun çıkarılması ve uygulanması
- D) ABD ve Fransa ile Adana Görüşmeleri'nin yapılması

27. Demokrasilerde insanlar düşüncelerini açıklama özgürlüğüne sahiptir. Bireylerin haklarını kullanabilmeleri ve özgür bir ortamda yaşayabilmeleri devletlerin demokratik bir yönetime sahip olması ile yakından ilgilidir. Demokratik yönetimlerde toplumun siyasi fikirlerini yönetime yansıtılabilmek amacıyla siyasi partiler oluşturulmuştur. Bu siyasi partilerin varlığı, halkın, yönetime düşünceleriyle ve oylarıyla katılmasına fırsat verir. Ayrıca siyasi partilerin çokluğu da demokrasiyi kuvvetlendirmektedir.

**Bu açıklamaya göre aşağıdakilerden hangisine ulaşamaz?**

- A) Demokratik yönetimlerde halkın düşüncesini açıklama hakkı vardır.
- B) Siyasi partilerin varlığı görüş ayrılıklarını kuvvetlendirmektedir.
- C) Çok partili yaşam, demokrasinin uygulanmasını güçlendirmektedir.
- D) Siyasi partilerin görevi, halkın düşüncelerini yönetime yansıtmaktır.

28. II. Dünya Savaşı öncesinde Almanya ve İtalya'nın saldırgan politikaları dünyayı endişeye sürüklemiştir. Ancak Türkiye bu olumsuz ortamda başarılı işler gerçekleştirebilmiştir.

**Türkiye'nin gerçekleştirdiği aşağıdaki eylemlerden hangisi bu duruma kanıt olarak gösterilebilir?**

- A) Millî gelirin önemli bir kısmını savunma sanayisine ayırmıştır.
- B) Temel gıda maddelerinde karne uygulamasına geçmiştir.
- C) Montrö Boğazlar Sözleşmesi'ni imzalamıştır.
- D) İkinci Beş Yıllık Sanayi Planı'nı uygulamıştır.

29. Atatürk, askerlik mesleğinin yanı sıra pek çok farklı alanla da ilgilenmiştir. Günümüzde kullanılan Türkçe geometri terimlerini tanıttığı *Geometri* ve vatandaşlar için öğütlerin yer aldığı *Vatandaş İçin Medeni Bilgiler* kitapları kendisinin yazmış olduğu eserleri arasında yer almaktadır. Bu çalışmalarının yanında sanat, tarih gibi alanlara da ilgi duyan demokratik bir liderdir.

**Bu metne göre Atatürk ile ilgili aşağıdakilerden hangisi söylenemez?**

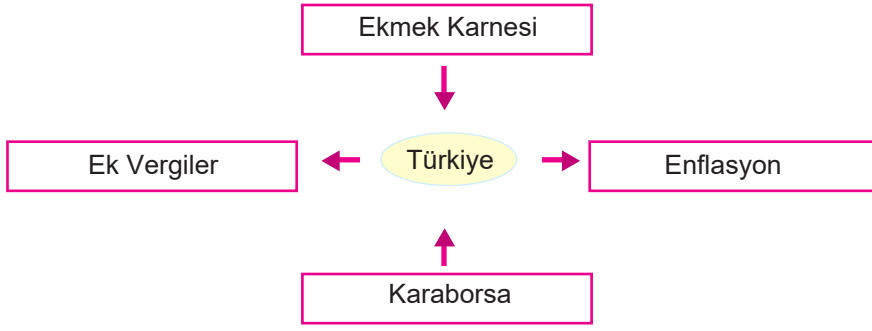
- A) Türkçe geometri terimleri oluşturmuştur.
- B) Farklı konularda eserler yazmıştır.
- C) Çok yönlü bir kişiliğe sahiptir.
- D) Yazdığı iki kitabı bulunmaktadır.

30. II. Dünya Savaşı 1939 yılında başladığında Türkiye, savaşa girmemek için üstün bir gayret gösterdi. Mihver ve Müttefik gruplarını doğrudan karşısına almayarak bir denge politikası uyguladı. Böylece Türkiye II. Dünya Savaşı sonuna kadar savaşa dışı kalmayı başardı.

**Buna göre II. Dünya Savaşı sırasında Türk dış politikasının hedefi ile ilgili aşağıdakilerden hangisi söylenemez?**

- A) Savaşın tarafı olan bir grupta yer almamak
- B) Toprak bütünlüğünü korumak
- C) Bağımsızlığını güvence altında tutmak
- D) Kaybettiği toprakları geri almak

31. Aşağıdaki şemada II. Dünya Savaşı'nın Türkiye'ye olumsuz etkileri verilmiştir.



**Bu bilgiler aşağıdaki alanlardan hangisi ile ilişkilidir?**

- A) Siyasi
- B) Dinî
- C) Ekonomik
- D) Kültürel

32. Türkiye, II. Dünya Savaşı'nda tarafsız kalıp savaşa katılmamasına rağmen bazı hazırlıklar yapmıştır. Savaşın olumsuz etkilerini en aza indirmek amacıyla bazı kanunlar çıkararak tedbirler almıştır. Bu önlemlerden bazıları şunlardır:

- I. Ekmek başta olmak üzere pek çok ürün karne ile dağıtılmıştır.
- II. Erkek nüfusun büyük bir bölümü silah altına alınarak seferberlik ilan edilmiştir.
- III. Geceleri, karartma uygulaması yapılmıştır.
- IV. Geceleri sokağa çıkma yasağı getirilmiştir.

**Numaralanmış ifadelerden hangisi üretimin düşmesinde etkili olmuştur?**

- A) I
- B) II
- C) III
- D) IV

33. Mustafa Kemal Atatürk, yaşamının her döneminde kitap okumayı yoğun bir şekilde sürdürmüştür. Bu kitaplardan elde ettiği bilgi birikimini ve deneyimlerini çeşitli eserler yazarak ortaya koymuştur.

**Buna göre Atatürk'ün 1919-1927 yılları arasındaki gelişmeleri belgelere dayanarak anlattığı eseri aşağıdakilerden hangisidir?**

- A) Geometri
- B) Nutuk
- C) Cumalı Orduğâhı
- D) Vatandaş İçin Medeni Bilgiler

34. • Kitabın orijinal metinleri M. Kemal Atatürk'ün el yazısıyla yazılmıştır.  
• Kitap, Prof. Dr. Afet İnan imzasıyla basılmıştır.  
• Kitapta vatandaşların birbirleriyle ve devletle olan ilişkilerinde nelere dikkat edilmesi gerekliliği vurgulanmıştır.

**Özellikleri verilen eser aşağıdakilerden hangisidir?**

- A) Cumalı Ordugâhı  
B) Nutuk  
C) Zabıt ve Kumandan ile Hasbihâl  
D) Vatandaş İçin Medeni Bilgiler

35. Atatürk'ün ölümü tüm dünyada büyük yankı uyandırmıştır. Çin'de yayımlanan bir gazetede: "Bu acı, biraz da bizim acımızdır ve bu matem biraz da bizim matemimizdir. Atatürk, büyük bir askerdir, büyük bir askerî şeftir, fakat sulhu sever ve bütün komşu memleketlerle dostluk tesis eder. Onun sayesinde ki Çin'den Tuna havzasına kadar bütün milletler, aynı idealin etrafında kardeşçesine birleşmişlerdir." Bir İran gazetesinde ise "Onun eşsiz hizmetleri yalnız Türkiye için değil, bütün Şark (Doğu) ve hatta insanlık için bir feyiz kaynağı olmuştur." ifadelerine yer verilmiştir.

**Bu parçadan Atatürk ile ilgili aşağıdakilerden hangisi çıkarılamaz?**

- A) Evrensel bir lider olduğu  
B) Dünya barışına katkı sağladığı  
C) Askerî dehasının takdir edildiği  
D) İnsan hakları ile ilgili çalışmalar yaptığı

36. Mustafa Kemal Atatürk'ün kaleme aldığı Nutuk adlı eserde 1919-1927 yılları arasında gerçekleşen olaylar anlatılmaktadır.

**Buna göre,**

- I- Hatay'ın ana vatana katılması  
II- Tevhid-i Tedrisat Kanunu  
III- Balkan Antantı'nın imzalanması  
IV- Sadabat Paktı'nın imzalanması

**gelişmelerinden hangileri Atatürk'ün Nutuk adlı eserinde yer almaz?**

- A) I ve II  
B) I, II ve III  
C) I, III ve IV  
D) II, III ve IV

37. II. Dünya Savaşı, tarihte görülen yıkıcı sonuçlarıyla da felaket ve acıya sebep olan bir savaştır. 20. yüzyıl, insanların ve milletlerin bir kısmını daha iyi bir yaşama sevk ederken birçoklarına da görülmemiş acılar tattırmıştır. İnsanlık tarihi, yüzyılın başında ortaya çıkan I. Dünya Savaşı'nın olumsuz etkilerini unutmaya fırsatı bulamamışken aynı yıkımı II. Dünya Savaşı ile tekrar yaşamak zorunda kalmıştır.

**Buna göre II. Dünya Savaşı'ndan sonra aşağıdakilerden hangisinin önemi artmıştır?**

- A) Yeni savaş tekniklerinin
- B) Demokrasi ve insanlık sevgisinin
- C) İnsan haklarının ihlal edilmesinin
- D) Ekonomik kalkınmanın

38. Türkiye'de çok partili siyasal hayata geçişte II. Dünya Savaşı'nın önemli bir etkisi olmuştur. II. Dünya Savaşı'nı Müttefikler (demokrasi cephesi) kazanmış ve otoriter tek parti yönetimine dayalı ülkeler kaybetmiştir. Bu yüzden tek parti yönetimine dayanan siyasal sistemler gözden düşmüş, serbest seçime dayanan demokratik sistem ön plana çıkmıştır.

**Bu bilgilerden hareketle aşağıdaki çıkarımlardan hangisi yapılamaz?**

- A) Demokrasi yanlısı ülkelerin savaşı kazanması çok partili hayata geçişi hızlandırmıştır.
- B) II. Dünya Savaşı Türkiye'de çok partili hayata geçişi olumlu etkilemiştir.
- C) Almanya'nın savaşı kaybetmesiyle otoriter yönetimler önem kazanmıştır.
- D) Türkiye'nin çok partili hayata geçişinde bazı uluslararası olayların etkisi olmuştur.

39. II. Dünya Savaşı sırasında ve sonrasında Türkiye Cumhuriyeti Devleti'nde yaşanan gelişmeler siyasi, hukuki, askerî ve ekonomik alanlarda etkili olmuştur.

**Buna göre,**

- I. Milli Korunma Kanunu çıkarılarak ürün fiyatlarını saptamada ve ürünlere el koymada hükûmete yetki verildi.
- II. Yüksek gelir elde eden kişilere Varlık Vergisi uygulaması getirildi.
- III. Seferberlik ilan edilerek çok sayıda kişinin askere alınması sağlandı.
- IV. Savaş bitince Sovyet Rusya ve ABD arasında başlayan Soğuk Savaş Dönemi'nde taraf seçmek zorunda kaldı.

**İfadeleri ait oldukları alanlarla eşleştirildiğinde aşağıdakilerden hangisi doğru olur?**

SİYASİ    HUKUKİ    ASKERİ    EKONOMİK

- A) I            IV            III            II
- B) III          II            IV            I
- C) II          III          I            III
- D) IV          I            III            II

40. Aşağıdakilerden hangisi Mustafa Kemal Atatürk'ün yazdığı eserlerden biri değildir?

- A) Geometri  
B) Nutuk  
C) İstiklal Harbinin Esasları  
D) Cumalı Ordugâhı

41. Türkiye'de 1946'da 10'dan fazla siyasi parti kuruldu. Bu yıl yapılan ilk çok partili seçimi Cumhuriyet Halk Partisi kazandı. 1950'de yapılan genel seçimleri ise Demokrat Parti kazandı ve iktidar oldu. Böylece demokrasinin en önemli unsurlarından biri olan çok partili hayat sağlıklı bir şekilde işlemeye başladı.

**Buna göre Türk demokrasisi için aşağıdakilerden hangisi söylenebilir?**

- A) Cumhuriyetin ilk yıllarında çok sayıda siyasi parti kurulmuştur.  
B) 1950 yılında yapılan seçimle iktidar partisi değişmiştir.  
C) 1946 yılına kadar olan süreçte siyasi partilerin kurulması yasaklanmıştır.  
D) Demokrat Parti Cumhuriyet döneminin ilk partisi olarak kurulmuştur.

42. Atatürk'ün rahatsızlığına geç teşhis konduğu için hastalığı her geçen gün ilerliyordu. Doktorlar dinlenmesini öneriyorlardı. Buna rağmen hastalığı Türk milletinden ve dünyadan gizleniyordu. Atatürk, doktorlarının tüm ısrarlarına rağmen çalışmalarına devam ediyordu.

**Aşağıdakilerden hangisi Atatürk'ün bu dönemde ısrarla sürdürdüğü çalışmalardan biridir?**

- A) Hatay'ı anavatana katmak için uğraşması  
B) Lozan'da çözülemeyen Musul sorunu ile ilgilenmesi  
C) Yaklaşan seçim çalışmalarına katılarak oy oranını arttırmak istemesi  
D) Yeni bir dünya savaşı tehlikesi nedeniyle orduyu savaşa hazırlaması

43. Mustafa Kemal Atatürk, dünyanın siyasi olarak gerildiğini ve II. Dünya Savaşı'nın başlayacağını biliyordu. Uluslararası siyasette "Yurtta barış, dünyada barış" anlayışını benimsemişti. Savaşların olumsuz yönlerinin bulunduğunu biliyor ve mecbur kalmadıkça savaştan kaçınmak gerektiğini söylüyordu. II. Dünya Savaşı öncesinde İtalya ve Almanya'nın yayılcı politikaları nedeniyle Türkiye Cumhuriyeti bazı Balkan ülkeleri ve Orta Doğu ülkeleri ile çeşitli antlaşmalar imzalamıştır.

**Buna göre İtalya ve Almanya'nın yayılcı politikalarına karşı Türkiye Cumhuriyeti'nin yaptığı antlaşmalar aşağıdakilerden hangisidir?**

- A) Balkan Antantı - Paris Barış Konferansı
- B) Sadabat Paktı - Potsdam Konferansı
- C) Balkan Antantı - Sadabat Paktı
- D) Lozan Antlaşması - Nöyyi Antlaşması

44. II. Dünya Savaşı'ndan sonra yeni bir dünya düzeni oluşturulmaya çalışılmış ve dünya barışını sağlamak amacıyla Birleşmiş Milletler kurulmuştur. Ardından Birleşmiş Milletler çok partili hayatın gerekliliğini ortaya koymuş, dünyada ve ülkemizde o dönem içerisinde çok partili hayata geçişin hızlandırılması öngörülmüştür. Bu çalkantılı yıllarda Cumhuriyet Halk Fırkası'ndan dört milletvekili ilerleyen yıllarda iktidar olacak olan Demokrat Parti'yi kuracaklardır. Demokrat Parti'yi, Dörtlü Takrir'e imza atan Cumhuriyet Halk Fırkası milletvekilleri kurmuştur.

**Buna göre aşağıdaki isimlerden hangisi Demokrat Parti'nin kurucuları arasında yer almaz?**

- A) İsmet İnönü
- B) Fuat Köprülü
- C) Celal Bayar
- D) Adnan Menderes

45. 1938'de Atatürk'ün vefatı sonrasında yeni cumhurbaşkanı seçilene kadar cumhurbaşkanlığı görevini yürüten kişi aşağıdakilerden hangisidir?

- A) Celal Bayar
- B) İsmet İnönü
- C) Abdülhalik Renda
- D) Refik Saydam



46. II. Dünya Savaşı öncesinde Almanya ve İtalya'nın saldırgan tutumu Türkiye Cumhuriyeti'ni bazı önlemler almaya sevk etmiştir.

**Aşağıdakilerden hangisi Türkiye Cumhuriyeti'nin bu yönde attığı ilk adımdır?**

- A) Savunmaya daha çok bütçe ayrılmıştır.
- B) Milli Korunma Kanunu çıkarılmıştır.
- C) Varlık Vergisi Yasası çıkarılmıştır.
- D) Sadabat Paktı imzalanmıştır.

47. 7 Haziran 1945'te TBMM'de görüşülen Çiftçiyi Topraklandırma Yasası büyük tartışmalara neden olmuştur. Dörtlü Takrir diye adlandırılan kişilere "Parti içinde muhalefet yapmayınız." denmesi üzerine, bu vekiller CHP'den ayrılıp yeni bir parti kurmuştur.

**Aşağıdakilerden hangisi CHP'den ayrılan vekillerin kurduğu partidir?**

- A) Demokrat Parti
- B) Adalet Partisi
- C) Hürriyet Partisi
- D) Millî Kalkınma Partisi

48. Türkiye, II. Dünya Savaşı sonrasında oluşacak yeni dünya düzeninde söz sahibi olabilmek ve Birleşmiş Milletler Teşkilatı'na üye olabilmek için Almanya ve Japonya'ya savaş ilan etmiştir.

**Buna göre Türkiye hangi konferansa katılarak Birleşmiş Milletler Teşkilatı'nın kurucu üyesi olmuştur?**

- A) San Francisco
- B) Kahire
- C) Tahran
- D) Yalta

49. Türkiye II. Dünya Savaşı'nda taraf olmamıştır. Buna karşın, II. Dünya Savaşı ülke ekonomisinde ciddi olumsuzluklara yol açmış, savaş sürecinde Türkiye'deki yatırımlar durma noktasına gelmiş ve sanayi üretiminde daralma yaşanırken halkın tüketim talebinde artışlar meydana gelmiştir. II. Dünya Savaşı'nın ardından dünya genelinde ekonomik durgunluk problemi baş göstermiştir. Bu problemler ülkeyi ekonomik anlamda dış yardıma muhtaç hâle getirmiştir. II. Dünya Savaşı yıllarında ekonomi dönemi Türkiye'de "savaş ekonomisi" olarak adlandırılmaktadır. Her ne kadar Türkiye, savaşa katılım göstermese de aldığı savunma tedbirleri sebebiyle devlet harcamalarında artış söz konusu olmuş ve erkek bireylerin askere alımları artmıştır. Erkeklerin silah altına alınması nedeniyle nüfus artış hızı düşmüştür.

**Buna göre Türkiye ile ilgili ulaşılabilecek en kapsamlı yargı aşağıdakilerden hangisidir?**

- A) Yenik çıkan devletler arasında yer almaktadır.
- B) En çok harcamayı savunma alanında yapmıştır.
- C) Savaşa girmemesine rağmen sosyal ve ekonomik alanda olumsuz etkilenmiştir.
- D) II. Dünya Savaşı sonrası dünyadaki pek çok ülkede sanayi yavaşlamış ve dış borçlanma artmıştır.

50. Mustafa Kemal Atatürk'ün yazmış olduğu eserlerden bazıları şunlardır:

- I. Takımın Muharebe Talimi
- II. Cumalı Ordugâhı
- III. Bölüğün Muharebe Talimi
- IV. Vatandaş İçin Medeni Bilgiler

**Bu eserler içerdiği konuya göre gruplandırıldığında hangisi dışta kalır?**

- A) Yalnız I
- B) Yalnız II
- C) Yalnız IV
- D) II ve IV

51. "Atatürk ölümünden çok kısa bir süre önce dünyanın gidişatına dair yapmış olduğu açıklamada "Pek yakında dünya vaziyeti, mütareke senelerinden daha çok ciddi olacak ve karışacaktır. İkinci büyük bir harp karşısında kalacağız. Dünyaya hâkim olan milletleri idare edenlerin arasında yazık ki birinci derece devlet adamı çıkmıyor. Avrupa'da birkaç maceraperest Almanya ile İtalya'nın başında zorla bulunuyorlar. Karşı karşıya geldikleri zayıf devlet adamlarının aczinden cüret alıyorlar. Bunlar, bugün dünyayı kana boyamaktan çekinmeyeceklerdir." ifadelerini kullanmıştır.

**Atatürk'ün bu sözleri ile aşağıdaki kişilik özelliklerinden hangisi arasında ilişki kurulabilir?**

- A) Çok yönlülük
- B) İleri görüşlülük
- C) Kararlılık
- D) İdealistlik

52. II. Dünya Savaşı'ndan sonra ülkemizde çok partili hayata geçiş için uygun ortam oluşmuştu. Bu süreçte ilk önce Nuri Demirağ tarafından Millî Kalkınma Partisi adıyla Atatürk'ün vefatı sonrasında ilk muhalefet partisi kuruldu. Ardından Cumhuriyet Halk Partisi'nden ayrılan Celal Bayar, Adnan Menderes, Fuat Köprülü ve Refik Koraltan Demokrat Parti'yi kurdular. 1946 yılında Türkiye'de 10'dan fazla yeni siyasi parti kuruldu. 21 Temmuz 1946'da yapılan seçimlere ilk kez birden fazla parti katıldı. Vatandaşlar seçme hakkını tam manasıyla ilk kez kullandılar. Böylece Türkiye'de çok partili hayata geçilmiş oldu.

**Ülkemizde siyasi alanda yaşanan bu gelişmelerle ilgili aşağıdakilerden hangisi söylenemez?**

- A) Demokratik yapı güçlendirilmiştir.
- B) Batılı devletlerle ilişkiler geliştirilmek istenmiştir.
- C) Yeni muhalefet partileri kurulmuştur.
- D) Millet iradesinin ülke yönetimine yansıtılmasına çalışılmıştır.

53. Aşağıda Türkiye'nin II. Dünya Savaşı yıllarında aldığı bazı tedbirler verilmiştir:

- I. Varlık Vergisi uygulaması başladı.
- II. Tasarruf için karne dağıtıldı.
- III. Salgın hastalıkları önlemek için tedbirler alındı.
- IV. Köy Enstitüleri açıldı.

**Numaralanmış bilgilerden hangileri ekonomi ile ilgilidir?**

- A) I ve II
- B) I ve III
- C) II ve III
- D) III ve IV

54 . Aşağıda, Atatürk'ün ölümünün ardından yurt dışı basınında yapılan haberlere yer verilmiştir.

I. "Almanya, Atatürk'ün eserine ve mücadelesine hayrandır. Onda, tarihi eseri, özgürlüğü seven, bütün milletler için bir sembol olarak kalacak kudretli bir kişilik görmektedir." *Berlin - Alman Ajansı, Almanya*

II. "Savaş sonrasında en ileri gelen devlet adamlarından biri. Kendi başına bir klas oluşturuyordu ve hemen her açıdan tekti." *The Fortnightly, İngiltere*

III. "Türkiye, dost ve düşmanlarının hayran olduğu bir deha adama malik bulunmak bahtiyarlığına erişmiştir." *Katimerini, Yunanistan*

IV. "Büyük düşüncelerin adamı, bir devlet mimarıydı." *Neue Freie Presse, Avusturya*

**Bu haberlere göre Atatürk'e dair ulaşılabilecek en genel yargı aşağıdakilerden hangisidir?**

- A) Bir dünya lideri olduğu
- B) En çok askerliğinin takdir edildiği
- C) Batı dünyası dışında tanınmadığı
- D) Özgürlüğe önem verdiği

55.

**3 Eylül 1939**

Türkiye, II. Dünya Savaşı başladığında tarafsız bir politika izledi. Toprak bütünlüğünü ve bağımsızlığını koruma amacı ile savaş dışında kalmak için büyük çaba harcadı.

**18 Haziran 1941**

Almanya, Türkiye ve İngiltere'nin yakınlaşmasını önlemek amacıyla 18 Haziran 1941'de saldırmazlık antlaşması imzaladı. Antlaşmaya göre Almanya Türkiye'ye saldırmayacak, Türkiye de tarafsızlığını koruyacaktı. 22 Haziran 1941'de Alman orduları Sovyetler Birliği'ne saldırıya geçti. Bu durum Türkiye üzerindeki baskıyı azalttı.

**30 Ocak 1943**

İngiltere ve Türkiye 30 Ocak 1943'te Adana Konferansı'nda bir araya geldi. İnönü ile Churchill (Çörçil) bir trende gizlice görüştü. Churchill, Türkiye'nin Müttefik Devletler'in yanında savaşa girmesini istedi. İsmet İnönü, Türkiye'nin savaşa katılmak için hazırlıksız olduğunu söyleyerek tarafsız kalmaya devam etti.

**23 Şubat 1945**

Türkiye, Almanya'nın yenilgisinin kesinleşmesi üzerine San Francisco Konferansı'na katılabilmek ve Yalta Konferansı kararlarına göre Birleşmiş Milletlerin kurucu üyeleri arasında yer almak için Almanya ve Japonya'ya savaş ilan etti.

**Buna göre Türkiye'nin II. Dünya Savaşı'ndaki tutumu ile ilgili aşağıdakilerden hangisine ulaşamaz?**

- A) Millî çıkarlara uygun hareket etmiştir.
- B) Savaş süresince denge politikası uygulamıştır.
- C) Akılcı ve gerçekçi kararlar almıştır.
- D) Savaşa aktif olarak katılmıştır.

56. Türkiye II.Dünya Savaşı'na fiilen katılmamasına rağmen ekonomik yönden olumsuz etkilenmiş, ülkede pahalılık ve kıtlık baş göstermiştir.

**Aşağıdakilerden hangisi bu sorunu çözmeye yönelik atılmış bir adımdır?**

- A) Askerî harcamaların artması nedeniyle ordunun bir kısmı terhis edilmiştir.
- B) Temel gıdalara ulaşmada karne uygulamasına geçilmiştir.
- C) Halkın gıda ihtiyacını karşılamak amacıyla pasta ve unlu mamüllerin üretilmesi teşvik edilmiştir.
- D) Çiftçiyi topraklandırma çalışmaları başarı ile sürdürülmüştür.

- 57 . • Milli Kalkınma Partisi'nin kurulması  
• Demokrat Parti'nin kurulması  
• 1946 yılında çok partili seçim yapılması

**Bu gelişmelerin aşağıdakilerden hangisini gerçekleştirmeyi amaçladığı savunulamaz?**

- A) Farklı fikirlerin TBMM'de temsil edilmesi  
B) Çok partili siyasi yaşama geçilmesi  
C) Demokrasinin çoğulculuk ilkesinin sağlanması  
D) Millî birliğin güçlendirilmeye çalışılması

58. Aşağıdaki gazete haberleri II. Dünya Savaşı yıllarından alınmıştır.



**Gazetelerdeki haberlerden hareketle Türkiye Cumhuriyeti'nin içinde bulunduğu durum ile ilgili,**

- I. Devlet ekonomik tedbirler almıştır.  
II. Yeni fabrikaların kurulması amaçlanmıştır.  
III. Tüm vatandaşlar uygulamalardan memnun kalmıştır.

**yargılarından hangilerine ulaşılabilir?**

- A) Yalnız I  
B) Yalnız II  
C) Yalnız III  
D) I, II ve III

59. II. Dünya Savaşı sonunda, barışa yönelik tehditlerin tekrarını önlemek ve uluslararası barış ve güvenliği korumak amacıyla ---- kurulmuştur.

**Cümlede boş bırakılan yere aşağıdakilerden hangisi getirilmelidir?**

- A) Milletler Cemiyeti  
B) NATO  
C) Birleşmiş Milletler  
D) Balkan Antantı

60. II. Dünya Savaşı'nda tarafsızlığını ilan eden Türkiye, kurulacak olan Birleşmiş Milletler Teşkilatı'nda kurucu üye olarak yer almak istiyordu. Aynı zamanda Sovyetler Birliği, Türkiye ile arasındaki saldırmazlık antlaşmasını feshederek toprak talebinde bulunmaktaydı. Bütün bu gerekçelerle Türkiye Batı'ya ve II. Dünya Savaşı'ndan güçlenerek çıkan Amerika Birleşik Devletleri'ne yakınlaşmaya başladı. Bunu da kolaylaştıracak adım, çok partili sisteme geçmekti. Bu dönemde demokratikleşme yolunda yeni partiler kuruldu.

**Aşağıdakilerden hangisi bu süreçte kurulan partilerden biri değildir?**

- A) Serbest Cumhuriyet Fırkası  
B) Demokrat Parti  
C) Millî Kalkınma Partisi  
D) Çiftçi ve Köylü Partisi

61. Atatürk'ün Nutuk adlı eserinin bazı bölümleri şunlardır:

Millî Teşkilatların Kurulması ve Kongreler  
Misakımillî ve Gelişmeler  
Türkiye Büyük Millet Meclisinin Toplanması  
Birinci İnönü Zaferi ve Londra Konferansı  
Cumhuriyet'in İlanı  
Hilafetin Kaldırılması  
Türk Gençliğine Hitabe

**Buna göre Nutuk ile ilgili,**

- I. Millî Mücadele'nin hazırlık aşamaları anlatılmıştır.  
II. Askerî ve diplomatik başarılarla değinilmiştir.  
III. Türk gençliğine öğütler verilmiştir.

**yargılarından hangilerine ulaşılabilir?**

- A) I ve II  
B) I ve III  
C) II ve III  
D) I, II ve III

62. Aşağıda II. Dünya Savaşı ile ilgili bir görsel yer almaktadır.



Görselden hareketle,

- I. Devletler iki blok hâlinde savaşmıştır.
  - II. Savaş sırasında uygulanan ırkçı politikalar insan haklarını hiçe saymıştır.
  - III. Savaşta kullanılan yeni silahlar çok sayıda insanın ölümüne neden olmuştur.
- bilgilerinden hangilerine ulaşılabilir?**

- A) Yalnız I  
B) I ve II  
C) I ve III  
D) II ve III

63. Aşağıda Mustafa Kemal Atatürk'ün Onuncu Yıl Nutku'ndan alınan bir bölüm yer almaktadır.

Türk Milleti!

Kurtuluş savaşına başladığımızın 15. yılındayız. Bugün Cumhuriyetimizin onuncu yılını doldurduğu en büyük bayramdır. Kutlu olsun! Bu anda büyük Türk milletinin bir ferdi olarak bu kutlu güne kavuşmanın en derin sevinci ve heyecanı içindeyim. Yurttaşlarım! Az zamanda çok ve büyük işler yaptık. Bu işlerin en büyüğü, temeli Türk kahramanlığı ve yüksek Türk kültürü olan Türkiye Cumhuriyeti'dir. Fakat yaptıklarımızı asla kâfi göremeyiz.

**Metinde yer alan "Yaptıklarımızı asla kâfi göremeyiz." sözü, Atatürk'ün hangi kişilik özelliğini göstermektedir?**

- A) Çalışkanlık  
B) İleri görüşlülük  
C) Teşkilatçılık  
D) Sanatseverlik

64. Müttefik ve Mihver Devletler II. Dünya Savaşı'nda Türkiye'yi kendi taraflarına çekmeye çalıştılar. Türkiye toprak bütünlüğünü korumayı ve tarafsız kalmayı temel prensip olarak belirlemişti. İlk olarak 1941 yılında Türkiye, Mihver Devletler'den Almanya ile arasında saldırmazlık antlaşması imzaladı. 1943 yılında ise Müttefik Devletler'den İngiltere ile birlikte Adana Görüşmesi gerçekleştirildi. Türkiye tarafsız kalacağını İngiltere'ye belirtti. Yine 1943 yılında I. ve II. Kahire Konferansları yapıldı. Bu konferanslarda ABD ile İngiltere, Türkiye'yi savaşa sokmaya çalışsa da Türkiye tarafsız kalmayı tercih etti. Türkiye, Birleşmiş Milletler'in kurulma çalışmalarında yer almak ve savaş sonrasında siyasi yalnızlığa düşmemek için savaşın bitmesine yakın bir zamanda Almanya ve Japonya'ya savaş ilan etti. Böylece San Francisco konferansına katılarak Birleşmiş Milletler'in kurucu üyelerinden biri oldu.

**Bu bilgilere göre aşağıdakilerden hangisine ulaşamaz?**

- A) Türkiye, Mustafa Kemal Atatürk'ün "Yurtta Sulh, Cihanda Sulh" sözünü uygulamıştır.  
B) Türkiye, savaş dışında kalmak adına denge politikası izlemiştir.  
C) Türkiye, II. Dünya Savaşı'nda uluslararası diplomasiyi etkin şekilde kullanmıştır.  
D) Türkiye'nin savaşa girmesinin ekonomik etkileri olmuştur.

65. II. Dünya Savaşı sırasında oluşabilecek sosyoekonomik sorunlara karşı Millî Korunma Kanunu çıkarılmış ve bir dizi tedbirler alınarak savaşın etkileri azaltılmaya çalışılmıştır. Millî Korunma Kanunu ile fiyatları hükümet belirlemiş, ürünlere el koyma hakkı verilmiş ve zorunlu çalışma yükümlülüğü getirilmiştir. Alınan bu tedbire rağmen ürünler az bulunur hâle gelmiş, ekmek gibi temel gıda ürünleri karne ile dağıtılmış, ürünler karaborsaya düşmüştür. Yine savaşın ekonomik etkilerini azaltmak için büyük toprak sahiplerinden Toprak Mahsulleri Vergisi alınmak istenmiş, toprakları olmayan köylüler için de Çiftçiyi Topraklandırma Kanunu çıkarılmıştır. Ancak her iki uygulama da büyük toprak sahiplerinin kanunlara destek vermemesi üzerine uygulanamamıştır.

**II. Dünya Savaşı sırasında gerçekleştirilen bu uygulamalara bakılarak aşağıdakilerden hangisine ulaşamaz?**

- A) Millî Korunma Kanunu istenen ekonomik rahatlamayı sağlamamıştır.  
B) Kanunlar belirli kesimler tarafından benimsenmemiştir.  
C) Halkın büyük çoğunluğu kanunların uygulanmasından yana tavır koymuştur.  
D) Devlet ekonomiyi iyileştirmek için adımlar atmıştır.



66. II. Dünya Savaşı'nın en önemli sebebi, I. Dünya Savaşı'nda çözülemeyen sorunlar olmuştur. I. Dünya Savaşı'nı kazanan ülkelerin yenilen ülkelere ağır savaş tazminatları alması, bu ülkelerin ekonomilerini olumsuz yönde etkiledi. Ekonomik kriz sonucu işsizliğin arttığı bu ülkelerin halkları, kendilerini kurtarıcı gibi gösteren kişilerin etrafında toplanmaya başladı. Almanya'da Hitler, ırkçı ve yayılcı bir politika izleyerek devlet yönetimine geldi. Ardından İtalya'da Mussolini benzer bir politika izledi. Silahlanma ve yayılcı politika Almanya, İtalya ve Japonya'yı bir araya getirdi.

**Buna göre II. Dünya Savaşı'nın başlamasına etkisi en az olan faktör aşağıdakilerden hangisidir?**

- A) Ekonomi  
B) Kültür  
C) Askeriye  
D) Siyaset

67. II. Dünya Savaşı sırasında yaşanan olumsuzluklar, ülkemizde çok partili bir yaşamın gerekliliğini ortaya koydu. Siyasi yaşamda atılacak bu adım ile cumhuriyetin temel ilkesi olan ulusal egemenlik anlayışı pekişmiş olacaktı. Türkiye, Birleşmiş Milletler Teşkilatı'nın kurucu üyeleri arasında yer almak istiyordu. Bu teşkilat, katılacak üyelere ülkelerinde çok partili demokratik yaşama geçmiş olmalarını bekliyordu.

**Bu parçadan çıkarılabilecek en kapsamlı sonuç aşağıdakilerden hangisidir?**

- A) II. Dünya Savaşı'nın başlama nedeni tek partili yönetimlerdir.  
B) Savaşı kazanan ülkelerin diğer ülkeler üzerinde yaptırım gücü artmıştır.  
C) II. Dünya Savaşı sonrası dünyada ve ülkemizde demokrasinin önemi artmıştır.  
D) Türkiye diğer devletlerin baskısı ile çok partili yaşama geçmiştir.

68. II. Dünya Savaşı'nın başlamasıyla insanların gündelik hayatı savaş ortamından etkilenmiştir. Bu süreçte halkın yaşayış biçimlerinde çeşitli kısıtlamalara gidilmiş, birtakım yasaklar ve kurallar getirilmiştir. Türkiye, II. Dünya Savaşı'na denge politikası uygulayarak girmese de savaşa katılmış ve taraf olmuş devletler kadar derinden etkilenmiştir. Savaş yıllarında gıda maddelerinde beliren darlık nedeniyle sıkıntı çeken vatandaşlar gıda dışı ihtiyaçlarını da temin edemez hâle gelmiş, hayat standartlarını düşürmek zorunda kalmışlardır. Savaş yıllarında beslenme, ısınma ve sağlık ihtiyaçları kadar kıyafet ihtiyaçlarını gidermek de önemli bir sorun hâline gelmiş, pek çok üründe karne sistemi uygulamasına gidilmiş, dar gelirli halka ve memurlara yönelik giyim yardımı kuponları dağıtılmıştır. Ancak ham madde fiyatları artmış, bu durum her türlü ürünün fiyatına yansımıştır. Vatandaşın gıda maddeleri temin etmeye çalışan savaş yılları hükümetleri giyim eşyası konusunda da tüm halkı kapsayan düşük fiyatlı üretim ve satış uygulamalarına başlamıştır.

**Buna göre II. Dünya Savaşı'nın Türkiye'yi aşağıdaki alanların hangisinde etkilediği söylenemez?**

- A) Ekonomik  
B) Sosyal  
C) Siyasi  
D) Askerî

69. "Benim naçiz vücudum elbet bir gün toprak olacaktır. Fakat Türkiye Cumhuriyeti ilelebet payidar kalacaktır."

Atatürk'ün sözünü aşağıdaki gazete haberlerinden hangisi destekler niteliktedir?

A)

### YURDUN HER KÖŞEŞİNDE GÖZYAŞI, HÜZÜN, MATEM

Gençlik Büyük Önder'in kendilerine miras bıraktığı Cumhuriyeti korumaya, onun uğrunda icap ederse can vermeye and içti.

B)

### MİLLET MECLİSİ BUGÜN TOPLANARAK YENİ CUMHURREİSİNİ SEÇECEK

Başvekil dün gece Ankara'ya vardı ve derhal toplanan vekiller heyetine başkanlık etti.

C)

### GENÇLİĞİN BÜYÜK ÜZÜNTÜSÜ

Bütün talebe ağlıyordu, rektör birkaç teselli sözü söylemek istedi, göz yaşları içinde buna muvaffak olamadı, hıçkırıklar, göz yaşları içinde dört beş dakika sessiz kalındı, sonra talebeler ağır ağır salonu terk etmeye başladılar.

D)

### ATATÜRK'ÜN ÖLÜMÜ SULH DAVASI İÇİN ÇOK ELİMDİR

Atatürk'ün kahramanlığı Türkiye'nin istiklalini yaratmış ve kalkınmasını başarmıştır.

70. Atatürk, II. Dünya Savaşı'ndan zarar görülmemesi için izlenmesi gereken politikayı şu sözlerle ifade etmiştir: "Çok zaman geçmeden Avrupa'da bir fırtına kopacak, bu müthiş kasırga dünyanın her tarafına yayılacak ve insanlık genel bir savaş felaketinin bütün kötülükleri ile karşılaşacak. Bu kanlı ve tehlikeli durumda tarafsız kalmak, harbe katılmamak ve devlet gemisini bu fırtına ortasında hiçbir engele çarptırmadan yöneterek harp dışında ve barış içinde yaşamaya çabalamak bizim için hayati önem taşımaktadır."

Buna göre Türkiye'nin II. Dünya Savaşı'nda izlediği politika aşağıdakilerden hangisidir?

- A) Mihver Devletler ile ilişki kurma
- B) Tarafsızlık ve denge
- C) Topraklarını genişletme
- D) Hatay'ı ana vatana katma

71. Ahmet, II. Dünya Savaşı'nın Türkiye'ye etkilerini ekonomik, siyasi ve sosyal alanlara göre sınıflandırmıştır.

	Siyasi	Sosyal	Ekonomik
I. Varlık Vergisi Kanunu çıkarılmıştır.	✓		
II. Savaş sırasında Boğazlar savaş gemilerine kapatılmıştır.	✓		
III. Köylerden büyük kentlere göç yaşanmıştır.		✓	
IV. Karne ile ekmek satışı başlatılmıştır.			✓
V. Tarımsal üretimi artırmak için Köy Enstitüleri açılmıştır.	✓		

Buna göre Ahmet, numaralanmış ifadelerin hangilerini hatalı sınıflandırmıştır?

- A) I ve II
- B) I ve V
- C) I, II ve V
- D) II, III ve IV

72. Yeni kurulan Demokrat Parti, diğer siyasi partiler ve iktidar partisi olan Cumhuriyet Halk Partisi, 1946 yılındaki seçimlere birlikte katılmışlardı. Türk toplumu daha önce görmediği türden bir seçimle karşı karşıya kalmıştı. Seçim açık oy, gizli sayım yöntemi ile yapıldı. 1946 yılında yapılan bu seçimler sonucunda Cumhuriyet Halk Partisi iktidar oldu, Demokrat Parti meclise girmeyi başardı.

**Bu parçaya göre aşağıdakilerden hangisine ulaşılabilir?**

- A) Seçimlere sadece Cumhuriyet Halk Partisi ve Demokrat Parti katılmıştır.
- B) Seçimler II. Dünya Savaşı'ndan önce olmuştur.
- C) Seçimlerde gizli oy, açık sayım yöntemi kullanılmıştır.
- D) Cumhuriyet Halk Partisi ile birlikte Demokrat Parti de mecliste yer almıştır.

73. Birleşmiş Milletler Anayasası'nda, teşkilata katılabilmek için demokratik bir rejime sahip olunması gerektiği hükmü yer alıyordu. Sovyet Rusya'nın tehditlerine karşı Batılı devletlerle yakınlaşma ihtiyacı hisseden Türkiye'nin yönetim yapısını onların beklentilerine uygun hâle getirmesi gerekiyordu. Bu arada Türk siyasetinde de önemli gelişmeler yaşanıyordu. 7 Haziran 1945 tarihinde CHP milletvekilleri Adnan Menderes, Celal Bayar, Fuat Köprülü ve Refik Koraltan "Anayasa'nın millî egemenlik ilkesine işlerlik kazandırılmasını ve parti işleyişinin demokratik ilkelere uygun olarak yürütülmesini" içeren taleplerini parti grubuna verdiler. Dörtlü Takrir diye tarihe geçen bu talepleri CHP Genel Başkanı ve aynı zamanda Cumhurbaşkanı İsmet İnönü parti içi muhalefet hareketi olarak tanımladı. Talepte bulunan milletvekillerine "Muhalefeti parti içinde yapmasınlar. Teşkilatlarını kursunlar, karşımıza geçsinler ve ayrı parti olarak mücadeleye girsinler." diye karşılık verdi.

**Bu parçaya göre aşağıdaki yorumlardan hangisine ulaşamaz?**

- A) İsmet İnönü'nün Dörtlü Takrir'e verdiği tepki demokratik çerçevededir.
- B) Türkiye'nin çok partili hayata geçişinde, izlediği uluslararası politikalar da etkili olmuştur.
- C) Çok partili hayata geçiş denemesi cumhuriyet tarihinde ilk kez gerçekleştirilmiştir.
- D) Parti içinde muhalefete izin verilmemiştir.

74. Türkiye, ---- Konferansına katılabilmek ve Birleşmiş Milletler Teşkilatı'nın asil üyeleri arasında yer alabilmek için sembolik de olsa 23 Şubat 1945'te ---- Devletler'e savaş açtığını ilan etmiştir.

**Cümlede boş bırakılan yerlere sırasıyla aşağıdakilerden hangisi getirilmelidir?**

- A) I. Kahire - Mihver
- B) San Francisco - Müttefik
- C) I. Kahire - Müttefik
- D) San Francisco - Mihver

75. Atatürk, yönetimin merkezine milleti koymuş ve yöneticilerin asli vazifesinin millete hizmet etmek olduğunu vurgulamıştır. Şahsi başarılarıyla övünmek yerine, milletine kazandırdığı en büyük hizmeti ön plana çıkarması, onun ve yaptıklarının neden “büyük” olduğunu da göstermiştir. Atatürk, kurduğu cumhuriyet ile millet iradesine dayanan yeni ve modern bir yönetim sistemini milletimize kazandırmıştır. “Az zamanda çok ve büyük işler yaptık. Bu işlerin en büyüğü, temeli, Türk kahramanlığı ve yüksek Türk kültürü olan Türkiye Cumhuriyeti’dir.” diyen Atatürk, böylelikle en büyük eserinin Türkiye Cumhuriyeti olduğunu ifade etmiştir.

**Aşağıda verilen Atatürk'e ait sözlerden hangisi bu parçada ifade edilen düşüncelerden herhangi biri ile ilişkilendirilemez?**

- A) “Egemenlik kayıtsız şartsız milletindir.”
- B) “Millete efendilik yoktur, hizmet etme vardır.”
- C) “Benim naçiz vücudum elbet toprak olacaktır, fakat Türkiye Cumhuriyeti ilelebet payidar kalacaktır.”
- D) “Hayatta en hakiki mürşit ilimdir, fendir.”

76. Türk diplomasisi en zor mücadelesini hiç şüphesiz II. Dünya Savaşı ve bu yıkımın sonraki senelerinde vermiştir. Türkiye için Avrupa, Asya ve hatta kısmen Afrika kıtalarında felakete sebep olan bu derece büyük bir dünya bunalımından ağır bir yara almadan ve aynı zamanda milli haysiyet ve prestijini de muhafaza ederek çıkabilmek kolay olmamıştır. Bu başarı ancak Türk dış politikasındaki temel ilkelere sarsılmaz bir irade ile bağlı kalarak elde edilmiştir.

**Buna göre;**

- I. Gereksiz maceraya girmekten kaçınmak,
- II. Başka devletlerin haklarına saygı duymak,
- III. “Yurtta barış dünyada barış” ilkesine uymak

**İfadelerinden hangileri Türkiye'nin II. Dünya Savaşı yıllarında dış politikadaki temel ilkeleri arasındadır?**

- A) Yalnız I
- B) I ve II
- C) II ve III
- D) I, II ve III

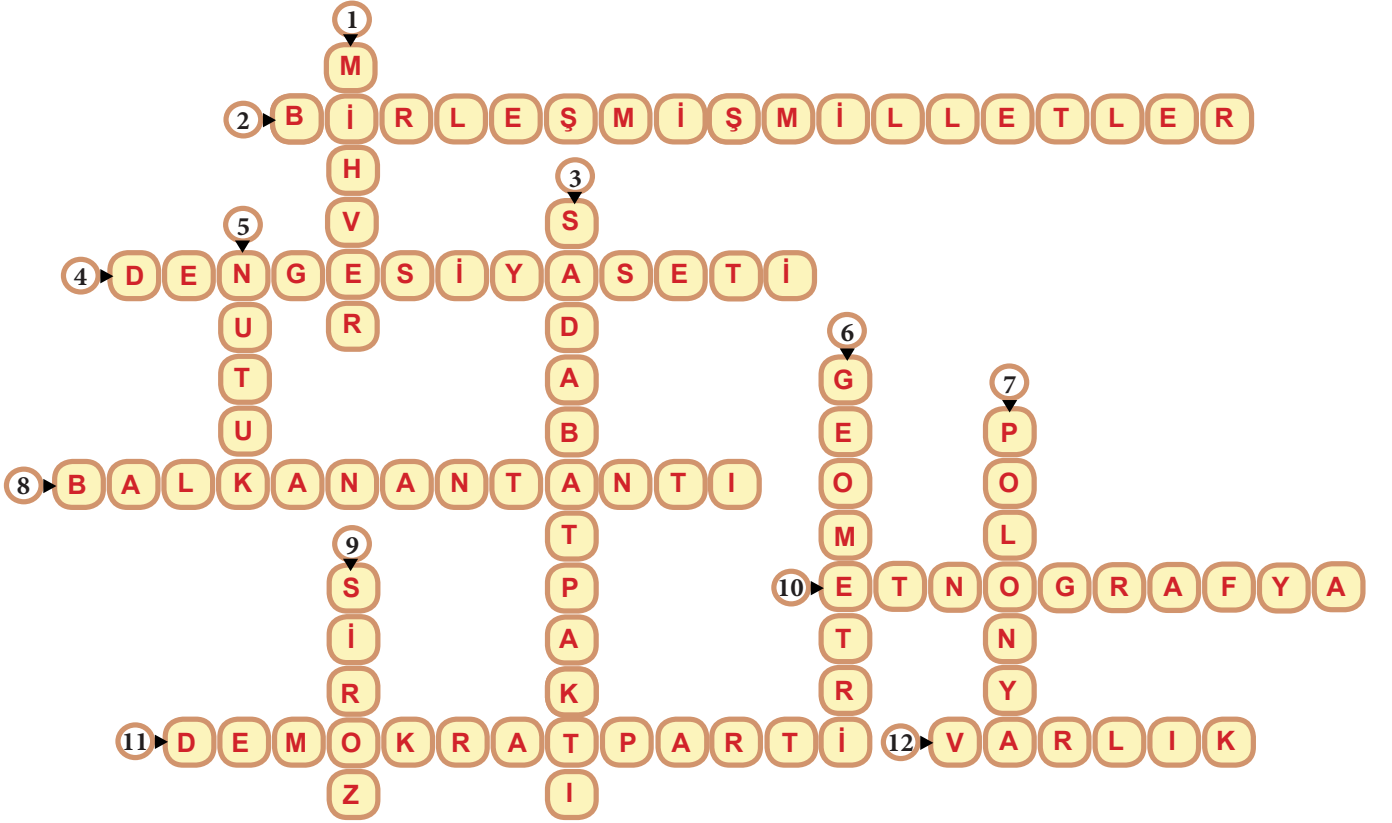
## CEVAP ANAHTARI

1. a. Mihver b. 1946 c. Geometri d. Denge - Müttefik e. Türkiye Cumhuriyeti

2. Yukarıdan aşağıya sırasıyla; Y - Y - D - Y - Y - D - Y - Y - D - Y

3. II. Çıkış

4.



5. A. Atatürk E. Varlık Vergisi Kanunu H. İsmet İnönü  
B. Hitler F. Millî Korunma Kanunu I. Müttefik Devletler  
C. Polonya G. Köy Enstitüsü İ. Japonya  
D. Yalta Ğ. Mihver Devletler J. Çok Partili Hayat

6. 1. İtalya ve Almanya'nın dünyayı kana bulayacaklarını tahmin etti. A. Sadabat Paktı'nı imzaladı.  
2. Mantıklı hareket edilmezse ülkenin zarar göreceğini tahmin etti. B. Balkan Antantı'nı imzaladı.

7.

U	J	A	P	O	N	Y	A	W	İ
O	Z	W	M	Q	V	D	F	G	V
J	J	A	İ	O	A	E	A	E	K
D	İ	X	H	F	R	M	D	O	Y
D	W	X	V	L	L	O	A	M	F
Q	O	G	E	L	İ	K	N	E	A
W	D	G	R	H	K	R	A	T	R
O	Y	P	U	K	V	A	T	R	D
N	A	A	T	İ	X	T	M	İ	T
B	U	N	E	S	C	O	Q	A	R

8. Vatansız, 3. Çıkış

9. Siyasi Etkileri Sosyal Etkileri Ekonomik Etkileri  
2, 7, 9,11 4, 6, 10 1, 3, 5, 8

10. **MİHVİR DEVLETLER**

ALMANYA  
İTALYA  
JAPONYA

**MÜTTEFİK DEVLETLER**

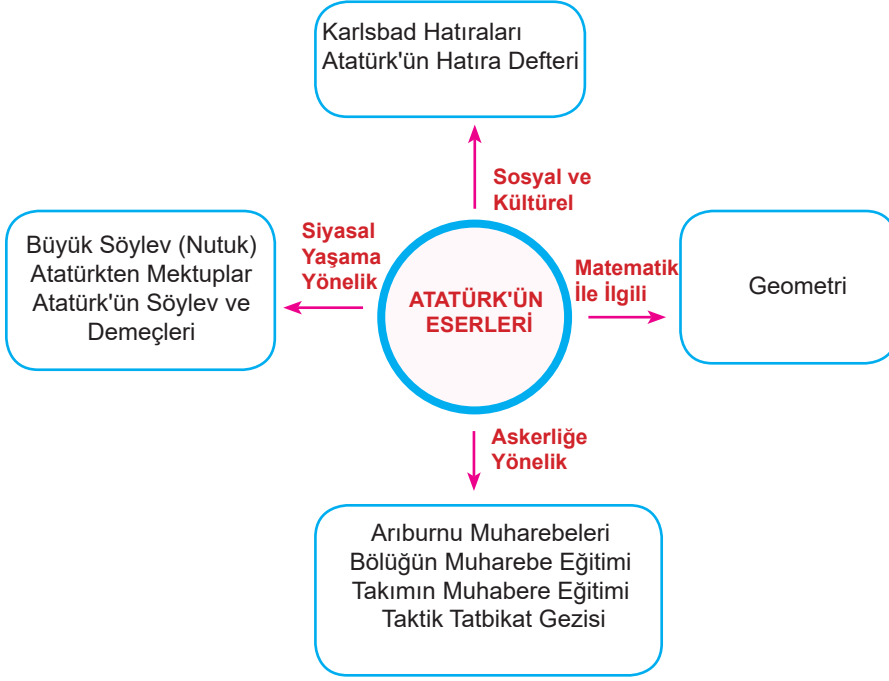
İNGİLTERE  
FRANSA  
SSCB  
ABD

11. a. D d. D ğ. Y  
b. D e. Y  
c. Y f. D  
ç. Y g. Y

12. A. Terakkiperver Cumhuriyet Fırkası ve Serbest Cumhuriyet Fırkası  
B. Toprak Reformu  
C. Açık Oy, Gizli Sayım  
D. Birleşmiş Milletler  
E. Çok Partili Hayata Geçilmesi

13. A. Türk Dil Kurumu ve Türk Tarih Kurumu  
B. İsmet İnönü  
C. Mihver Devletler ve Müttefik Devletler
- Ç. Birleşmiş Milletler  
D. Hatay

14.



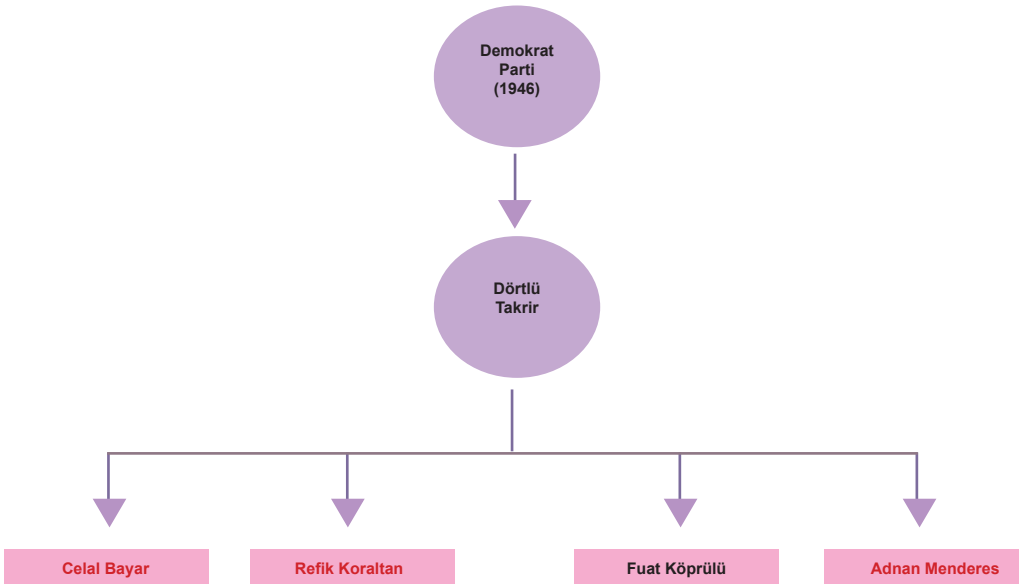
15. Yukarıdan aşağıya sırasıyla; Y - Y - Y - Y - D - Y - D - D - D - Y

16.

Siyasal	Ekonomik	Sosyal	Hukuki
a, e	d, f, g, h, i	b, c	d, h

17. 1. Adana Konferansı ve II. Kahire Konferansı  
2. Türkiye dış siyasetinde denge politikası izlemiştir.  
3. Türkiye'den Almanya'ya karşı müttefiklerin yanında yer almasını istediler.  
4. Atatürk'ün dış politikada belirlediği ilkeler doğrultusunda (Yurt Sulh, Cihanda Sulh) Türkiye bu savaşta denge politikası izledi.

18.



19.

1. b      2. e      3. d      4. c      5. a

20.

- İngiltere Başbakanı W. Churchill Türkiye'nin İkinci Dünya Savaşı'na girmesi için Cumhurbaşkanı İsmet İnönü ile ikili görüşme yapmıştır.
  - Dünya barışını sağlamak amacıyla ülkeler bir araya geldiler.
  - İkinci Dünya Savaşı'ndan sonra Amerika Birleşik Devletleri, Sovyetler Birliği ve İngiltere başkanları Almanya topraklarının paylaşımı başta olmak üzere diğer konuları görüşmek amacıyla bir araya geldiler.
  - 6 Aralık 1943 tarihlerinde Türkiye'nin II. Dünya Savaşı'nda Müttefik Devletler arasında katılması için gerçekleşen konferanstır. Toplantıya, Amerika Birleşik Devletleri'nden Başkan Roosevelt, Birleşik Krallık'tan Başbakan Churchill ve Türkiye'den Cumhurbaşkanı İnönü katılmıştır.
- İl. Kahire Konferansı  
Yalta Konferansı  
Adana Konferansı  
San Fransisco Konferansı

21.

1. Hedeflenen ekonomik planlar ve sanayi yatırımları ertelendi.
2. Hava saldırılarına karşı karartma uygulandı.
3. Temel ihtiyaç maddeleri (ekmek, yağ, şeker vb.) karneyle halka verildi.
5. Savaşın zararlarını önlemek için denge politikası uygulandı.
7. Savaş sebebiyle II. Beş Yıllık Kalkınma Planı uygulanamadı.
8. Savaş sonrası çok partili hayata geçiş süreci hızlandı.

22. Yukarıdan aşağıya sırasıyla; ALMANYA - İNGİLTERE - ABD - SSCB - İTALYA - FRANSA - JAPONYA



23. 1. NUTUK 2. AÇIK OY, GİZLİ SAYIM 3. VARLIK VERGİSİ 4. POLONYA 5. YALTA KONFERANSI 6. MİHVER DEVLETLER 7. HİROŞİMA VE NAGAZAKİ 8. CUMHURİYET 9. MÜTTEFİK DEVLETLER 10. DENGE POLİTİKASI 11. ALMANYA 12. KARNE

24.

İfadeler	Eğitim	Sosyal	Siyasi	Ekonomik
Varlık Vergisi				✓
NATO'ya Üyelik			✓	
Toprak Reformu				✓
Karne Uygulaması		✓		✓
Köy Enstitüleri	✓			
Milî Korunma Kanunu				✓

## CEVAP ANAHTARI

25. C  
26. D  
27. B  
28. C  
29. D  
30. D  
31. C  
32. B  
33. B  
34. D  
35. D  
36. C  
37. B  
38. C  
39. D  
40. C  
41. B  
42. A  
43. C  
44. A  
45. C  
46. D  
47. A  
48. A  
49. C  
50. C  
51. B  
52. B  
53. A  
54. A  
55. D  
56. B  
57. D  
58. A  
59. C  
60. A  
61. D  
62. C  
63. A  
64. D  
65. C  
66. B  
67. C  
68. D  
69. A  
70. B

71. B  
72. D  
73. C  
74. D  
75. D  
76. D



[meb.gov.tr](http://meb.gov.tr)