

8. SINIF 7. ÜNİTE ÇALIŞMA FASİKÜLÜ

T.C. İNKILAP TARİHİ ve
ATATÜRKÇÜLÜK

Bu kitapçık İZMİR Ölçme Değerlendirme Merkezi
tarafından hazırlanmıştır.



1. Aşağıdaki tabloda “A” sütununda Atatürk ile ilgili bilgiler, “B” sütununda ise bu bilgilerle ilişkili olan şehirler verilmiştir. Verilen bilgilerin solundaki paranteze “B” sütunundaki şehirlerden uygun olana ait harfi yazınız. Her bir harf bir kez kullanılacaktır.

A SÜTUNU		B SÜTUNU
()	1. Hastalığı sırasında ilgilendiği sorundur.	A. Ankara
()	2. Vefat ettiği şehirdir.	B. Yalova
()	3. Hastalığına rağmen halkına destek olmak için gittiği şehirdir.	C. Hatay
()	4. Geçici kabri Etnografya Müzesi'nin bulunduğu şehirdir.	D. İstanbul
()	5. Hastalığını öğrendiği şehirdir.	E. Adana

2. Aşağıda verilen soruların doğru cevaplarının yanındaki yay ayraç içerisine (✓) işareti koyunuz.

1. Atatürk'ün ölümünden sonra seçilen cumhurbaşkanıdır.	Celal Bayar ()	İsmet İnönü ()
2. Atatürk'ün ölümünden önce mal varlığının yarısını bıraktığı Türk Dil Kurumu ve Türk Tarih Kurumu Atatürk'ün hangi kişilik özelliğini göstermektedir?	Milliyetçi ()	Halkçı ()
3. Atatürk'ün geçici olarak naaşının konulduğu Etnografya Müzesi'nin bulunduğu şehirdir.	İstanbul ()	Ankara ()

3. Aşağıdaki verilen bilgiler doğru ise yay ayraç içine “D”, yanlış ise “Y” yazınız.

Bilgiler		D/Y
1	Atatürk'ün TBMM'yi açması evrensel bir lider olduğunu gösterir.	()
2	Atatürk'ün hastalığı bir süre halktan gizlenmiştir.	()
3	Hasta olmasına rağmen Atatürk Hataylılara destek vermek için Adana ve Mersin gezilerine çıkmıştır.	()
4	Atatürk Hatay'ın bağımsız olduğunu öğrenmeden vefat etmiştir.	()
5	Atatürk'ün en büyük eseri Türkiye Cumhuriyetidir.	()

4. Aşağıdaki cümlelerde boş bırakılan yerleri uygun kelime/kelime grupları ile tamamlayınız.

1. Atatürk'ün ölümünün yurttan ve dünyada yankı bulması onun bir lider olduğunu gösterir.
2. Atatürk'ün ölümü sonrasında 11 Kasım 1938'de TBMM tarafından ikinci cumhurbaşkanı olarak seçilmiştir.
3. Atatürk ölümünden önce hazırlattığı vasiyetnamesinde mal varlığının büyük bir kısmını ve kurumlarına bırakmıştır.
4. Atatürk'ün hastalanmasına rağmen ülkenin iç ve dış işleriyle ilgilenmeye devam etmesi onun bir lider olduğunun göstergesidir.

5. Atatürk'ün 1930'lu yıllarda söylediği sözlerden II. Dünya Savaşı'nın çıkacağını tahmin ettiği görülmektedir. Atatürk'ün bu konudaki ileri görüşlülüğünden hareketle devlet adamlığı ile ilgili neler söylenebilir? Cevabınızı aşağıda verilen boşluğa yazınız.

.....

.....

.....

.....

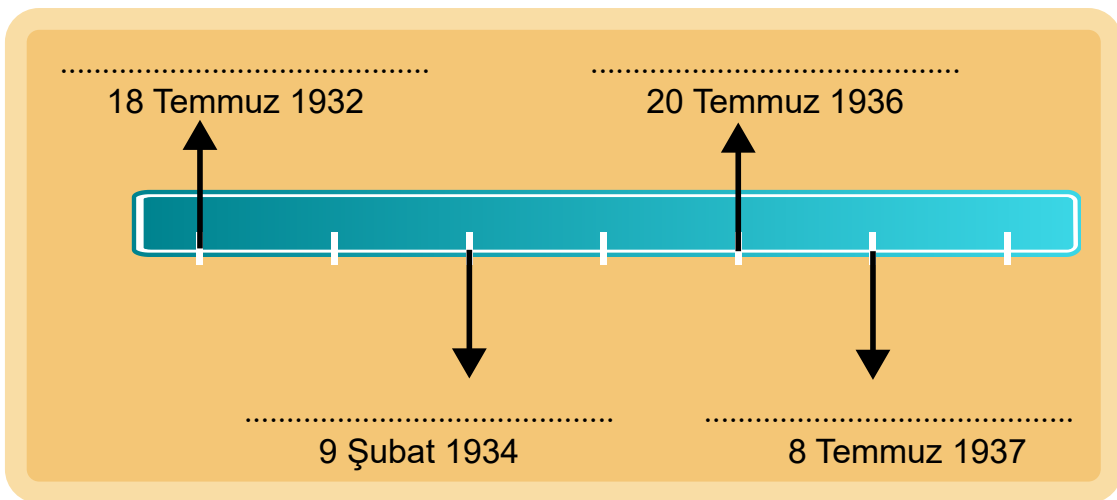
6. Aşağıdaki "A" sütununda Atatürk'ün eserleri ilgili bilgiler, "B" sütununda ise eserlerin isimleri yer almaktadır. Atatürk'ün eserleri ile ilgili verilen bilgilerin solundaki paranteze "B" sütunundaki eserlerden uygun olana ait harfi yazınız. Her bir harf bir kez kullanılacaktır.

A SÜTUNU	B SÜTUNU
() 1. Askerî alanda yazılan eser ordunun eğitimine katkı sağlamıştır.	A. Nutuk
() 2. Geçmişin öğrenilmesi için yazılan eser ders kitabı olarak okutulmuştur.	B. Bölüğün Muharebe Eğitimi
() 3. Yurttaşlık bilincini geliştirmek amacı ile yazılmış eserdir.	C. Geometri
() 4. Bilimsel terimlerin Türkçeleştirilmesine örnek gösterilebilecek çalışmadır.	D. Liseler İçin Tarih Kitabı
() 5. Millî Mücadele ve inkılaplar dönemi ile ilgili birinci elden kaynaktır.	E. Medeni Bilgiler

7. Atatürk'ün eserleri konusu ile ilgili verilen bilgiler doğru ise yay ayraç içine "D", yanlış ise "Y" yazınız. Altıncı satırdaki boşluğa konu başlığına uygun doğru yanlış sayısını eşit hale getirecek bir cümle yazınız. Doğru ya da yanlış olduğunu karşısına yazınız.

Bilgiler	D/Y
1 "Nutuk" Atatürk'ün çocukluğundan itibaren yaşadıklarını anlattığı eserdir.	()
2 Çeşitli konularda eserleri vardır.	()
3 "Cumalı Ordugâhı" Almandan tercüme ettiği eserdir.	()
4 "Takımın Muharebe Eğitimi" adlı eseri askerlikle ilgilidir.	()
5 "Ateşten Gömlek" Atatürk'ün eserlerinden biridir.	()
6	()

8. İtalya ve Almanya'nın saldırgan politika izlediği dönemde, Atatürk önderliğinde Türkiye'nin güvenliğini korumak ve dünya barışına katkı sağlamak için yaptığı çalışmaları aşağıdaki tarih şeridinde boş bırakılan yerlere yazınız.



9. Aşağıda Atatürk'ün 1932 yılında yaptığı konuşma verilmiştir. Konuşmadan oklar yönünde hareket ederek oluşturulan zihin haritasında boş bırakılan kutucukları aşağıdaki kavramlardan uygun olanıyla doldurunuz.

İleri görüşlülük	Hitler	Sedan Savaşı	I. Dünya Savaşı
Faşizm	Almanya	Açık sözlülük	II. Dünya Savaşı
Mussolini	İtalya	Nazizm	Sanayi İnkılabı

Atatürk 1932 yılında yaptığı bir konuşmada şunları söylemiştir:

"Dün olduğu gibi yarın da Avrupa'nın kaderi Almanya'nın alacağı vaziyete bağlıdır. Olağanüstü dinamizme bağlı bu yetmiş milyonluk çalışkan ve disiplinli millet, üstelik ihtiraslarını kamçılayabilecek siyasi bir akıma kendisini kaptırdı mı er geç Versay Antlaşması'nın tasfiyesine girişecektir."



10. Aşağıda Atatürk'ün II. Dünya Savaşı ile ilgili öngörülerini vermiştir. Öngörülerinin gerçekleştiğini kanıtlayan doğru bilgilere ait numaraları verilen boşluğa yazınız.

Korkarım ki İtalya'nın bugünkü şefi, Sezar rolünü oynamak hevesinden kendisini kurtaramayacak.

Hitler'in Polonya'yı işgal etmesi.

1

Mussolini'nin Habeşistan'ı işgal etmesi.

2

Amerika tarafsız kalamayacaktır.

Wilson ilkelerini yayımlayarak savaşa girmesi.

3

Mihver devletlerden olan Japonya'nın iki kentini bombalaması.

4

İnsanlık bir savaş felaketinin bütün kötülükleriyle bir daha karşılaşacaktır.

Dünya nüfusunun %3'ünün hayatını kaybetmesi.

5

Birleşmiş Milletler örgütünün kurulması.

6

Dünyanın durumu ve dengesi tümüyle değişecektir.

İmparatorlukların yıkılıp, millî devletlerin kurulması.

7

Soğuk Savaş döneminin başlaması.

8

--	--	--	--

11. Atatürk'ün diğer devletlerle olan ilişkilerde göz önünde bulundurduğu ilkeler nelerdir?

12. Aşağıdaki bilgiler doğru ise yay ayraç içine "D", yanlış ise "Y" yazınız. Yanlış bilgilerin doğrusunu karşısındaki boşluğa yazınız.

Bilgiler	D/Y	Doğrusu
1 Almanya Müttefik Devletler içinde yer almaktadır.	()	
2 ABD Japonya'nın saldırısı sonrası savaşa katılmıştır.	()	
3 Adolf Hitler İtalya'nın baskıcı rejiminin lideridir.	()	
4 Almanya II. Dünya Savaşı'nda ilk olarak ABD'ye saldırmıştır.	()	
5 İtalya II. Dünya Savaşı'nda İngiltere ile hareket etmiştir.	()	
6 Türkiye savaşa 1945 yılında Müttefik Devletler tarafında katılmıştır.	()	
7 Sovyet Rusya II. Dünya Savaşı sonrası ABD ile Soğuk Savaşa girmiştir.	()	

13. Aşağıda hakkında bilgi verilen ülkelerin isimlerini karşısındaki boş sütuna yazınız.

Bilgiler	Ülke
1 Mussolini liderliğinde faşist rejimle yönetilmiştir.	
2 Polonya'ya saldırarak savaşı başlatmıştır.	
3 Adana Görüşmesi'nde Türkiye'yi taraflarına çekmeye çalışmıştır.	
4 Pearl Harbor (Pörl Harbır) baskınını yapmıştır.	
5 İkinci Dünya Savaşı sonrası Sovyet Rusya ile Soğuk Savaşa girmiştir.	
6 İkinci Dünya Savaşı sırasında Boğazlar konusunda Türkiye ile sorun yaşamıştır.	
7 Müttefik Devletlerin Normandiya Çıkarması ile işgalden kurtarılmıştır.	
8 Savaş boyunca tarafsız kalmış 23 Şubat 1945'te savaşa girme kararı almıştır.	

14. Aşağıdaki cümlelerde boş bırakılan yerleri uygun kelimeler/kelime grupları ile tamamlayınız.

1. İkinci Dünya Savaşı'nın başlamasında etkili olan ve Nazizm düşüncesini savunan Almanya'nın o dönemki lideridir.
2. İkinci Dünya Savaşı sırasında Türkiye'de ürünlerin yetersiz olmasından dolayı ekmek gibi temel tüketim ürünleri ile verilmiştir.
3. İkinci Dünya Savaşı'nda Türkiye ekonomik sorunları çözmek amacıyla zengin olan kişilerden Vergisi almak istemiş ama bu gerçekleşmemiştir.
4. ABD, Japonya'nın savaştan çekilmesi için ve şehirlerine atom bombası atmıştır.
5. Savaş sonrası San Francisco Konferansı'nda alınan kararlar ile Teşkilatı kurulmuştur.

15. Aşağıdaki "A" sütununda II. Dünya Savaşı ile ilgili bilgiler, "B" sütununda ise bu savaşla ilgili isimler yer almaktadır. II. Dünya Savaşı ile ilgili bilgilerin solundaki paranteze "B" sütunundaki isimlerden uygun olana ait harfi yazınız. Her bir harf bir kez kullanılacaktır.

A	B
() 1. Almanya, İtalya ve Japonya'nın II. Dünya Savaşı'nda oluşturdukları blokun ismi.	A. Winston Churchill
() 2. İkinci Dünya Savaşı sırasında İngiltere'nin başındaki lider.	B. Franklin D. Roosevelt
() 3. İngiltere, Fransa, Rusya ve Amerika'nın oluşturdukları blokun ismi.	C. Josef Stalin
() 4. Sovyetler Birliği'nin II. Dünya Savaşı sırasındaki lideri.	D. Müttefik Devletler
() 5. Amerika'nın II. Dünya Savaşı sırasındaki lideri.	E. Mihver Devletler

16. Tablodaki olayları tarihsel oluş sırasına göre ve soldan sağa doğru olacak şekilde tarih şeridi üzerine yazınız.

Olay
Yalta Konferansı'nın yapılması
Almanya'nın Fransa'yı işgali
Amerika'nın II. Dünya Savaşı'na girmesi
Adolf Hitler'in Almanya'da iktidara gelmesi
Normandiya Çıkarması'nın yapılması
Hiroşima ve Nagazaki'ye atom bombasının atılması
Birleşmiş Milletler Teşkilatı'nın kurulması

.....

.....


.....



.....

.....


.....



.....

.....


.....



.....

.....

.....




TARİH ŞERİDİ

.....

.....


.....



.....

.....


.....



.....

.....

.....



17. Zeynep öğretmenin "2. Dünya Savaşı sonrasında ülkemizde ve dünyada çok partili hayata geçişin hızlanmasının nedenleri nelerdir?" sorusuna öğrenciler aşağıdaki cevapları vermiştir.

CEYDA: Ülkemizde demokratik kültürün halk arasında gelişmiş olması çok partili hayata geçişi hızlandırmıştır.

SELİM: Birleşmiş Milletlere girmemiz ülkemizde çok partili hayata geçişi kolaylaştırmıştır.

ALİ: Ülkemizde ilk muhalefet partisi 1946 yılında kurulmuştur.

DENİZ: 1946 yılında Celal BAYAR öncülüğünde Demokrat Parti kurulmuştur.

ASLI: İkinci Dünya Savaşı'ndan sonra demokratik yönetimler Avrupa'da önemini kaybetmiştir.

NAZLI: Çok partili yaşama geçiş ülkemizde ve dünyada farklı fikirlerin temsil edilmesini kolaylaştırmıştır.

Zeynep öğretmenin sorusuna doğru cevap veren öğrencilerin isimlerini aşağıdaki boşluklara yazınız.

.....
-------	-------	-------

18. Aşağıdaki cümlelerde boş bırakılan yerleri uygun kelimeler/kelime grupları ile tamamlayınız.

1. Ülkemizde 1945 yılında çok partili hayata geçiş döneminin ilk partisi olan kuruldu.
2. Farklı düşüncelerin temsil edilebilmesi için seçimlere partinin katılması gerekir.
3. Kişilerin farklı fikirlerini rahatça söyleyebildikleri meclise girmeyi başarmış ancak iktidar olamamış gruplara denir.
4. 1946 yılında Celal BAYAR tarafından kurulmuştur.

19. Tek partili yönetimler ve çok partili yönetimler arasındaki yönetim farklılıkları nelerdir?

<hr/> <hr/> <hr/> <hr/> <hr/> <hr/> <hr/> <hr/>

20. Atatürk Almanya'nın yayılcı politikalarının ileride sorun çıkarabileceğini anlamış ve Türkiye'nin komşu ülkelerle siyasi ve askerî bağlarını güçlendirmek istemiştir. Bu sebeple Balkan Antantı ve Sâdâbât Paktı gibi dostluk antlaşmaları yapmıştır. Dış politikada ise barışçıl bir politika izlemiş ve ileride de bu şekilde olması gerektiğini belirtmiştir.

Bu bilgilerden hareketle Atatürk'ün dış politika anlayışı ile ilgili aşağıdaki yargılardan hangisine ulaşamaz?

- A) Atatürk, komşu ülkelerle birliktelik sağlamaya çalışmıştır.
- B) Almanya'nın yayılcı politikalarına karşı önlemler almıştır.
- C) Dış politikanın barışçıl olması gerektiğini savunmuştur.
- D) Almanya ile savaşa girilmesi gerektiğini belirtmiştir.

21. İkinci Dünya Savaşı öncesi ve savaş sırasında Türkiye, Atatürk'ün dış politika anlayışı ile ülkeler arası ilişkilerini sürdürmüştür. Bu anlayışta gerçekçi, barışçıl ve millî çıkarlar esas alınmaktadır. Yine diğer ülkelerle ilişkilerde eşitliğe dayalı karşılıklı ilişki söz konusudur. Atatürk'ün akılcı ve tutarlı dış politika anlayışı ileride çıkacak olan II. Dünya Savaşı'nda Türkiye'nin büyük zarar görmesini engellemiştir. Ayrıca birçok uluslararası kuruluşta Türkiye üye olmuş ve etkin görevlere sahip olmuştur.

Bu durumda Atatürk'ün dış politika anlayışıyla şekillenen Türkiye'nin dış politikası ile ilgili aşağıdaki yorumlardan hangisi yapılabilir?

- A) Türkiye dış politikada saldırgan bir anlayışa sahiptir.
- B) Türkiye dış politikasında Atatürk'ün düşünceleri etkilidir.
- C) Dış politika uygulamaları sonucu İkinci Dünya Savaşı'nda Türkiye çok fazla zarar görmüştür.
- D) Dış politika anlayışı Türkiye'nin II. Dünya Savaşı'na girmesine sebep olmuştur.

22. Atatürk'ün "Yurtta Barış Dünyada Barış" ilkesi dış politikada esas olarak benimsenmiştir. Bu anlayış gereğince yayılcı ve saldırgan bir politika reddedilmiştir. Fakat eşitliğe dayalı mütekabiliyet ilkesi de dikkate alınarak dış politika kararları alınmaktadır.

Bu anlayışa göre Türkiye,

- I. Uluslararası ilişkilerde barışçıl siyaseti savunmuştur.
- II. Hiçbir koşulda savaşa girmeyecektir.
- III. Diğer devletlerin toprak bütünlüklerine saygı duymaktadır.

yargılarından hangisine ulaşılabilir?

- A) Yalnız I
- B) I ve II
- C) I ve III
- D) II ve III

23. Atatürk'ün ölümü sadece ülkemizde değil dünyanın dört bir yanındaki devletler tarafından büyük üzüntüyle karşılanmıştır. Devletlerin ülkemizdeki konsolosluklarına yüzlerce telgraf yağmış, üzüntülerini dile getirmişlerdir. 11 Kasım'da yayınlanan gazetelerinde de Atatürk'ün vefatından büyük üzüntüyle söz etmişlerdir.

Atatürk'ün ölümünün dünyada yankı bulmasında;

- I. evrensel bir lider olması,
- II. fikir ve düşüncelerinin tüm dünyada örnek olması,
- III. Türkler için büyük bir kayıp olması

sebeplerinden hangileri söylenebilir?

- A) I ve II
- B) I ve III
- C) II ve III
- D) I, II ve III

24. "Atatürk, istiklâl hissini taşıyan bütün milletler için ölmez bir semboldür."

Alman Basını

Alman basınında yer alan yukarıdaki yazıda Atatürk'ün hangi yönüyle örnek olduğu ifade edilmiştir?

- A) Kararlılık
- B) Vatanseverlik
- C) Bağımsızlık
- D) Liderlik

25. Mustafa Kemal Atatürk fikirleriyle, kararlılığıyla, düşüncüklerini zamanında ve yerinde uygulamasıyla, ümitsizliğe yer vermemesiyle, liderlik ve vatanseverlikle halkla iç içe Millî Mücadeleyi gerçekleştirip, emperyalist devletlere karşı büyük bir zafer kazanmıştır. Kendilerine karşı büyük bir başarı kazanmasına rağmen batılı devletlerce, izlediği kararlı ve barışçıl politikalar ise takdirle karşılanmıştır. Aynı zamanda bağımsızlıktan ödün vermemiş böylelikle zulme uğramış mazlum milletlere de örnek olmuştur. Ölümü sadece ülkemizde değil, dünyanın dört bir köşesinde yankı bulmuş, üzüntüyle karşılanmıştır.

Metne göre Mustafa Kemal'in mazlum milletlere örnek olması ve ölümünün dünyada yankı bulması, onun fikirlerinin ve kazandığı başarının hangi yönünü göstermektedir?

- A) Bağımsız olması
- B) Evrensel olması
- C) Türk milletine ait olması
- D) Barışçıl olması

26. Atatürk'ün hastalığı sırasında yakından ilgilendiği konulardan biri de Hatay sorunudur. Fransızların Suriye'den çekilmesiyle, Hatay'ın Suriye'ye bırakılmaması ve bağımsız olması için Atatürk'ün de isteği doğrultusunda Milletler Cemiyeti'ne müracaat edilmiştir. Atatürk de Hatay halkına destek vermek için hastalığına rağmen Adana, Mersin gezisine çıkmıştır.

Metne göre Atatürk'ün hasta olmasına rağmen Hatay sorunu için çaba sarf etmesi onun hangi kişilik özelliği ile ilişkilendirilir?

- A) Vatanseverlik
- B) Kararlılık
- C) Liderlik
- D) Umutsuzluğa yer vermemesi

27. Atatürk'ün ölümü sadece ülkemizde değil yurt dışında da büyük yankı bulmuş, tüm dünyada büyük üzüntü ile karşılanmıştır. Verdiği mücadele ve yaptığı inkılaplarla Türk milletini egemen, bağımsız ve çağdaş bir hale getirmiştir. Özellikle uluslararası sorunları diplomatik ve barışçıl yollardan halletmesi, dünya çapında takdir edilen bir lider olmasını sağlamıştır.

Aşağıdakilerden hangisi Atatürk'ün uluslararası sorunları diplomatik ve barışçıl yönden çözümlemesinin göstergesi değildir?

- A) Hatay'ın bağımsız olması
- B) Milletler Cemiyeti'ne katılması
- C) Teşkilat-ı Esasiye Kanunu'nun kabulü
- D) Balkan Antantı'nın imzalanması

28. Mareşal Fevzi Çakmak Atatürk'ün ölümü üzerine "Unutulmaz Atatürk'ün büyük hatırası Türk ulusu kadar ebedidir." sözünü söylemiştir.

Mareşal Fevzi Çakmak'ın sözü aşağıda Atatürk'e ait sözlerden hangisiyle en iyi şekilde açıklanabilir?

- A) Egemenlik, kayıtsız şartsız milletindir
- B) Hayatta en hakiki mürşit ilimdir, fendir.
- C) Özgürlük ve bağımsızlık benim karakterimdir.
- D) Benim naçiz vücudum, bir gün elbet toprak olacaktır. Fakat Türkiye Cumhuriyeti, ilelebet payidar kalacaktır.

29. İsmet İnönü 11 Kasım 1938 tarihinde TBMM'de yapılan seçimlerde, meclisteki 399 milletvekilinden oylamaya katılan 348 milletvekilinin oyunu alarak oy birliği ile Türkiye Cumhuriyeti Devletinin ikinci cumhurbaşkanı olarak seçilmiştir. İsmet İnönü, Millî Mücadelede önemli görevlerde bulunmuş, komuta ettiği savaşlar sonucunda Atatürk'ün dediği gibi sadece düşmanı değil, Türk milletinin makus talihini de yenmiştir. Böylelikle Türk milletinin bağımsızlığını kazanmasında önemli yere sahip olmuştur. Lozan'da dönemin zorlu devlet adamlarıyla mücadele etmiş, elde ettiği başarı, siyasette de söz sahibi olduğunu göstermiştir.

Verilen bilgiye göre İsmet İnönü'nün cumhurbaşkanı olarak göreve başlamasında;

- I. Millî Mücadelede üstlendiği görevlerde başarılı bir asker olması,
 - II. başarılı diplomatik faaliyetlerde bulunması,
 - III. mecliste oylamaya katılan herkesin oyunu alması
- durumlarının hangileri etkili olmuştur?**

- A) I ve II
- B) I ve III
- C) II ve III
- D) I, II ve III

30. Atatürk'ün hastalığı sırasında;

- I. yazdığı vasiyetnamesinde mirasının bir kısmını Türk Dil Kurumu ve Türk Tarih Kurumuna bırakması,
II. Hatay sorununda hasta olduğunun hissedilmemesi için yurt gezilerine çıkması

hangi kişilik özellikleriyle ilişkilendirilebilir?

- A) Milliyetçi ve vatansever
B) İnkılapçı ve çağdaş
C) Cumhuriyetçi ve halkçı
D) Milliyetçi ve halkçı

- 31.** "İzdirap çeken dünyada barış ve esenliği yeniden kurmak ve insanlığın maddi değil, manevi gelişimini sağlamak isteyenler Atatürk'ün ilham verici ve yön göstericiliğinden örnek ve kuvvet alsınlar."

Alman Tarihçi Prof. Dr. Herbert Melzig

Atatürk'ün ölümünden sonra söylenen söze bakılarak Atatürk hakkında aşağıdaki yorumlardan hangisi yapılamaz?

- A) İnsanlara doğru rol model olan biridir.
B) Barışı ve insanların huzurunu savunan bir liderdir.
C) İnsanlar için yol gösterici özelliğe sahiptir.
D) Maddi gelişimi daha önemli görmektedir.

- 32.** Aşağıda Atatürk'ün yazdığı eserlerden bazıları ile ilgili bilgiler verilmiştir.

Bölüğün Muharebe Eğitimi: Almandan tercüme ettiği eserdir. Ordunun eğitimine katkı sağlamıştır.

Medeni Bilgiler: Bireylerin vatandaşlık bilincini geliştirmek amacı ile yazmıştır.

Geometri: Arapça ve Farsça olan geometri terimlerini Türkçeye çevirerek anlaşılmasını kolaylaştırmıştır.

Buna göre Atatürk'ün eserleriyle ilgili aşağıdakilerden hangisi söylenebilir?

- A) Askerî konulara öncelik verildiği
B) Farklı alanlarda yazıldığı
C) Yabancı dillere çevrildiği
D) Gazetelerde yayımlandığı

- 33.** Gençlik yıllarından itibaren yönetim şeklinin değiştirilmesi gerektiğini düşünen Mustafa Kemal, Millî Mücadele döneminde de yakın arkadaşlarına millî egemenliğe dayalı bir yönetim kurulacağını dile getirmiştir.

Buna göre Mustafa Kemal'in aşağıdaki sözlerinden hangisi düşüncesini gerçeğe dönüştürdüğünü kanıtlar?

- A) Hayatta en hakiki mürşit ilimdir, fendir.
B) En büyük eserim Türkiye Cumhuriyeti'dir.
C) Medeniyet yolunda başarı, yenileşmeye bağlıdır.
D) Kuvvet birdir ve o millettir.

- 34.** Aşağıda Mustafa Kemal Atatürk'ün "Nutuk" adlı eseriyle ilgili bilgiler verilmiştir.

- I. Kurtuluş mücadelesi ve inkılâp süreci anlatılmıştır.
II. Üçüncü cildinde olaylarla ilgili belgelere yer verilmiştir.
III. Cumhuriyet Halk Fırkası'nın ikinci kurultayında bizzat Mustafa Kemal tarafından okunmuştur.
IV. Yabancı dillere çevrilerek, çeşitli ülkelerde yayımlanmıştır.

Yukarıdaki bilgilerden hangisi Nutuk'un evrensel nitelik taşıdığını göstermektedir?

- A) I B) II C) III D) IV

- 35.** Mustafa Kemal Atatürk siyasetten eğitime, askerlikten sosyal hayata kadar çeşitli konularda eserler yazmıştır.

Verilen bilgiden hareketle Mustafa Kemal Atatürk'ün hangi kişilik özelliğine ulaşılabilir?

- A) Çok yönlülük
B) İleri görüşlülük
C) Vatanseverlik
D) Yenilikçilik

36. Makedonya bölgesinde Suphi Paşa tarafından bir süvari tugayına eğitim ve manevra yaptırılmıştır. Bu manevraya katılan Mustafa Kemal, sadece eğitime katılanların yararlanmasını yeterli görmediği için 10 gün süren tatbikat sırasında tuttuğu gözlem notlarına krokiler ekleyerek "Cumalı Ordugâhı" adlı eserini oluşturmuştur. Eser 1909'da basılmıştır.

Verilen bilgidен hareketle "Cumalı Ordugâhı" eseriyle ilgili aşağıdaki sorulardan hangisinin cevabına ulaşamaz?

- A) Nerede basılmıştır?
- B) Yazarı kimdir?
- C) Yazılış amacı nedir?
- D) Hangi alanla ilgilidir?

37. Atatürk çağdaş, modern ve demokratik bir ülke kurarken, halkın da değişen dünya ve toplum yapısına uyum sağlanması, aynı zamanda aklın ve bilimin ışığında bir toplum olması için çalışmalar yapmış ve günümüzde de güncelliğini koruyan, insanlara ve toplumlara yol gösterici olan eserler meydana getirmiştir.

Atatürk'ün meydana getirdiği eserlerin günümüzde de yol gösterici olması hangi kişilik özelliği ile ilişkilendirilebilir?

- A) İleri görüşlülüğü
- B) Vatansever olması
- C) Teşkilatçılığı
- D) Askerî dehası

38. Atatürk, 1919 yılında Samsun'a çıkışından 1927 yılına kadar geçen dönemde gerçekleşen olayları Nutuk adlı eserinde yazmıştır. Türk Kurtuluş Savaşı, Türkiye Cumhuriyeti'nin kuruluşunu ve inkılapların gerçekleşmesini anlatmıştır.

Buna göre aşağıdaki gelişmelerden hangisinin Nutuk'ta yer alması beklenmez?

- A) Sakarya Meydan Savaşı
- B) Erzurum Kongresi
- C) Harf İnkılabı
- D) Medeni Kanun'un kabulü

39. Bilinçli ve özgür düşünceli vatandaşlar ile çağdaş uygarlıklar seviyesine çıkılabileceğini bilen Atatürk, Vatandaş İçin Medeni Bilgiler yazılarını kaleme almıştır. Bu yazılar daha sonra Afet İnan imzasıyla kitap olarak basılmıştır. Ancak bu konuda Afet İnan: "Bu kitaplar ismimle çıkmasına rağmen Atatürk'ün fikirleri ve telkinlerinden ilham aldığımı ve üslubun kendisine ait olduğunu tarihi hakikatleri belirtmek bakımından bana düşen bir görev olarak düşünüyorum" demiştir.

Bu bilgilerden hareketle eser hakkında aşağıdaki yorumlardan hangisi yapılabilir?

- A) Toplumun ekonomik sorunları ele alınmıştır.
- B) Türk halkının çağın gereklerini öğrenmesi amaçlanmıştır.
- C) Eserin metinlerini Afet İnan yazmıştır.
- D) Üslubunda Atatürk'ün etkisi olmamıştır.

40. Ali Fethi Bey ve Mustafa Kemal I. Dünya Savaşı'nın son zamanlarında "Minber" adıyla bir gazete çıkarmışlardır. İstanbul'da çıkarılan bu gazete, devlet ve millete yönelik tehlikelere karşı halkı bilgilendirme amacı taşıyordu. Aynı zamanda hükûmete uyarılar da gazetede yer alıyordu.

Buna göre Minber adlı gazete hakkında aşağıdakilerden hangisi söylenebilir?

- A) Halkı bilinçlendirmeye yönelik yayın yapmıştır.
- B) Manda ve himayeyi savunmuştur.
- C) Hükûmetin çalışmalarını desteklemiştir.
- D) Savaşın başından sonuna kadar yayımlanmıştır.

41. Mustafa Kemal Atatürk;
- Harp Akademisi yıllarında el yazısı ile okul gazetesi çıkardı.
 - Mehmet Nuri'nin (Conker) "Zabit ve Kumandan" adlı eserini örneklerle zenginleştirerek "Zabit ve Kumandan ile Hasbihal" isimli eseri yazdı.
 - Birinci Dünya Savaşı'nın sona erdiği günlerde Ali Fethi Bey'le birlikte çıkardığı "Minber" gazetesinde ülkenin ve milletin karşılaşacağı tehlikelerle ilgili yazılar yazdı.
- Mustafa Kemal Atatürk'ün verilen çalışmaları yapma amacı aşağıdakilerden hangisidir?**
- A) Fikirlerinden başkalarının da yararlanmasını sağlamak
B) Askerî okul öğrencilerinin mesleki bilgilerini arttırmak
C) Ülkenin ve milletin ekonomik kalkınmasını sağlamak
D) Edebiyat alanında kendini geliştirmek

42. Kurmay Önyüzbaşı Mustafa Kemal, ordunun eğitim seviyesini yükseltmek için yeni askerî yayınlara ihtiyaç olduğunu, mevcut talimnamelerdeki bilgilerin çağın savaş koşullarını karşılamadığının bilincindeydi. Birliklerin eğitimi için aradığı özellikleri taşıyan Alman General Litzmann'ın yazdığı "Bölük Muharebe Eğitimi" adlı eseri Almancadan tercüme etti. "Bölüğün Muharebe Eğitimi" adıyla yayımlandı.
- Buna göre Mustafa Kemal Atatürk'ün "Bölük Muharebe Eğitimi" adlı eseri tercüme etmesi hangi kişilik özelliği ile açıklanabilir?**
- A) Teşkilatçılık
B) İnkılapçılık
C) İleri görüşlülük
D) Açık sözlülük

43. İkinci Dünya Savaşı'nın başladığı 1 Eylül 1939 tarihinden aylar önce hayata gözlerini kapatan Atatürk, bu savaşın çıkacağını önceden tahmin etmişti.
- Bu durum Mustafa Kemal Atatürk'ün aşağıdaki kişilik özelliklerinden hangisi ile açıklanabilir?**
- A) İdealistlik
B) Vatanseverlik
C) İleri görüşlülük
D) Teşkilatçılık

44. Aşağıda I. Dünya Savaşı'ndan sonraki süreçte Türkiye ve dünyada yaşananlarla ilgili bazı durumlar verilmiştir.
- I. DURUM:** 24 Temmuz 1923'te imzalanan Lozan Barış Antlaşması'na göre Boğazların her iki yakası askerden arındırıldı.
- II. DURUM:** Almanya ve İtalya saldırgan, yayılmacı bir politika izledi.
- III. DURUM:** Boğazların güvenliğini tehlikede gören Atatürk Boğazlar sorununu çözmek için ilgili devletlere görüşme çağrısında bulundu.
- Aşağıdakilerden hangisi verilen durumların sonucunda meydana gelen bir gelişmedir?**
- A) Milletler Cemiyeti'nin kurulması
B) Sâdâbat Paktı'nın imzalanması
C) Montrö Sözleşmesi'nin yapılması
D) Balkan Antantı'nın oluşturulması

45. Yeni bir dünya savaşının yaşanacağını öngören Atatürk, savaş bir fırtınaya benzetmiş ve devlet gemisini bu fırtınanın ortasında hiçbir engele çarptırmadan yönetip, barış içinde yaşamaya çabalamanın hayati önem taşıdığını belirtmiştir.
- İkinci Dünya Savaşı sırasında Atatürk'ün tespitlerinden yararlanan Türkiye'den, aşağıdakilerden hangisini yapması beklenmez?**
- A) "Yurtta sulh cihanda sulh" ilkesine bağlı kalması
B) Ulusal çıkarları göz önünde bulundurması
C) Etkin denge siyaseti uygulaması
D) Yayılmacı anlayışla hareket etmesi

46. 1932 yılından itibaren dünyada yaşanan gelişmeleri, değişen güç dengelerini değerlendiren Mustafa Kemal Atatürk'ün yürüttüğü dış politikanın özellikleri ile ilgili,
- I. Hayalperest değildir.
II. Barış taraftarıdır.
III. Millî çıkarları esas alır.
IV. Gelenekçidir.
- yargılarından hangileri söylenebilir?**
- A) I ve II B) I, II ve III C) II ve IV D) III ve IV

47. İkinci Dünya Savaşı öncesinde Mustafa Kemal Atatürk liderliğindeki Türkiye, Milletler Cemiyeti'ne üye olmuş, Balkan Antantı ve Sâdâbat Pakti'na katılmıştır.

Bu durum Atatürk dönemi Türk dış politikasının temel ilke ve amaçlarından hangisi ile açıklanabilir?

- A) Yurtta sulh, cihanda sulh
- B) Mütakabiliyet
- C) Dünya kamuoyunu dikkate alma
- D) Hukuka bağlılık

48. Atatürk döneminde silahlanma politikası başka ülkelerin topraklarına saldırma veya başka milletleri tehdit etme amacı taşımamaktadır. Bu dönemin silah politikası gelebilecek her türlü dış tehdit ve saldırılara yönelik önlem alma ve karşı çıkma amacı taşımaktadır. Ülkenin uluslararası alanda askerî olarak güçlü olması bağımsızlığın korunması için gerekli görülmüştür.

Atatürk dönemi silahlanma politikası ile ilgili aşağıdaki çıkarımlardan hangisi yapılamaz?

- A) Bağımsızlığın korunmasında önemli görülmüştür.
- B) Dış tehditlere karşı hazırlık için yapılmıştır.
- C) Sınırları genişletmek amaçlanmıştır.
- D) Savunma amaçlı gerçekleştirilmiştir.

49. Atatürk'ün savaşa hazırlıklı olma konusunda 1937 yılına ait sözleri: "Silahlanma ve donatım programımızın uygulanması, başarıyla ilerliyor. Bunları memleketimizde yapmak emelimiz gerçekleşme yolundadır. Harp sanayisi kuruluşlarımızı daha ziyade geliştirme ve genişletme için alınan tedbirlere devam edilmeli ve endüstrileşme çalışmamızda da ordu ihtiyacı ayrıca göz önünde tutulmalıdır. Bu yıl içinde denizaltı gemilerini memleketimizde yapmaya başladık. Hava Kuvvetlerimiz için yapılmış olan üç yıllık program büyük milletimizin yakın ve bilinçli alakasıyla şimdiden başarılmış sayılabilir. Bundan sonrası için bütün uçaklarımızın ve motorlarının memleketimizde yapılması ve harp hava sanayimizin de bu esasa göre geliştirilmesi gerekir. Hava Kuvvetlerinin aldığı ehemmiyeti göz önünde tutarak bu çalışmayı planlaştırmak ve bu konuyu layık olduğu ehemmiyetle milletin gözünde canlı tutmak lazımdır."

Atatürk'ün savaşa hazırlıklı olma konusunda söylediklerine bakarak dönemin askerî politikaları ile ilgili aşağıdakilerden hangisi söylenebilir?

- A) Askerî ihtiyaçları karşılamak için dış alımlara öncelik verilmiştir.
- B) Harcamalarda en büyük pay hava kuvvetlerine ayrılmıştır.
- C) Silahlanma çalışmalarında hedefin gerisinde kalınmıştır.
- D) Savaş sanayisinde millî üretime önem verilmiştir.

50. 1939 yılı Nisan ayında İtalya'nın Arnavutluk'u işgal etmesi, Atatürk'ün İtalya ile ilgili daha önceden belirttiği öngörülerinin haklı olduğunu ispatlamıştır. Tevfik Rüştü ARAS'ın anlatımıyla Atatürk'ün bu konudaki düşünceleri şöyledir: "Faşist İtalya Yugoslavya'ya, Yunanistan'a ve Türkiye'ye doğrudan doğruya saldırı. Önce Arnavutluk'a çıkar. Ancak ondan sonra gözüne kestirebildiği tarafa saldırır."

Buna göre Atatürk'ün doğru öngörülerde bulunabilmesiyle ilgili aşağıdakilerden hangisi söylenebilir?

- A) Önceden bilinen şeyleri söylemiştir.
- B) Başkalarının fikirlerinden yararlanmış.
- C) Öngörülerinde duygularını ön planda tutmuştur.
- D) Dönemin koşullarını iyi değerlendirmiştir.

51. Atatürk döneminde Türkiye Cumhuriyeti'nin dış politikasında;
- İngiltere ve Fransa ile olumlu ilişkiler kurulmuştur.
 - Sovyet Rusya ile Kurtuluş Savaşı döneminde başlayan iyi ilişkiler korunmaya çalışılmıştır.
 - Almanya ve İtalya'nın düşmanlığını üzerimize çekmemeye gayret edilmiştir.

Atatürk dönemi Türk dış politikası, II. Dünya Savaşı'nda da Türkiye'nin tutumunda belirleyici olmuştur.

Buna göre Türkiye'nin tutumu ile ilgili aşağıdakilerden hangisi söylenebilir?

- A) Almanya ve İtalya ile ittifak yaptığı
- B) Uluslararası alanda denge siyaseti uyguladığı
- C) İçer kapanma politikasına yöneldiği
- D) Savaşan devletlerle diplomatik ilişkilerini kestiği

52. İkinci Dünya Savaşı Türkiye'yi siyasi, sosyal ve ekonomik yönden etkilemiştir. Özellikle 1940-1945 yılları arasındaki dönemde savaşın etkileri daha çok ortaya çıkmıştır.

Aşağıdakilerden hangisi bu dönemdeki savaşın etkilerinden biridir?

- A) Nüfus artış hızı azalmıştır.
- B) Avrupa'ya göçler olmuştur.
- C) Tarımsal üretim artmıştır.
- D) Ekonomi güçlenmiştir.

53. Türkiye II. Dünya Savaşı'nda, savaşın tarafları ile diplomatik görüşmeler yapıp denge politikası yürütürken, sıcak savaşa girme ihtimaline karşı seferberlik ilan etmiştir. Bu durum çalışan kişi sayısının azalmasına neden olmuştur.

Metne göre II. Dünya Savaşı'nın Türkiye'de;

- I. askerî,
- II. ekonomik,
- III. kültürel,
- IV. siyasi

alanlardan hangilerini etkilediği söylenebilir?

- A) I ve II
- B) II ve III
- C) I, II ve IV
- D) I, II, III ve IV

54. Aşağıda II. Dünya Savaşı yıllarında Türkiye'de yayımlanan ulusal haberlerden bazıları verilmiştir.



Buna göre II. Dünya Savaşı yıllarında Türkiye'nin aşağıdakilerden hangisini amaçladığı söylenebilir?

- A) Meclisin yetkilerini kısıtlamayı
- B) Devlet ekonomisini ayakta tutmayı
- C) Ülkede tüketimi arttırmayı
- D) Savaşan devletlere destek olmayı

55. Aşağıda Şevket Süreyya Aydemir'in, II. Dünya Savaşı'nın Türkiye'ye etkileri ile ilgili olarak söyledikleri verilmiştir.

"...Sabah güneş doğarken gözünü yeni güne açan her vatandaş, o gün sofrasına bir dilim ekmek koyup koyamayacağını ve ordunun yönetim mevkilerinde görevli her komutan, o gün askerine ne yedireceğini, yemsizlikten kırılan hayvanlarına bir avuç yem bulunup bulunamayacağını, uçaklarına, motorlarına kaç günlük benzin ve motorlu vasıtalarına kaç tane yedek lastik bulabileceğini kaygıyla düşünüyordu..."

Buna göre II. Dünya Savaşı'nın Türkiye'ye etkileri ile ilgili olarak,

- I. Petrol ürünlerine ihtiyaç duyulmaktadır.
- II. Toplumsal yaşamda açlık ve kıtlık yaşanmaktadır.
- III. Orduda asker ihtiyacı bulunmaktadır.

yargılarından hangilerine ulaşılabilir?

- A) Yalnız II
- B) I ve II
- C) II ve III
- D) I, II ve III

56. İkinci Dünya Savaşı yıllarında Türkiye savaş dışında kalmış olmasına rağmen savaşın neden olduğu olumsuz durumlarla mücadele etmek zorunda kalmıştır. Örneğin doktorların büyük bir bölümünün askere alınması, ilaçların yetersizliği, gıdasızlık hastaların tedavisini zorlaştırırken, ekonomik sıkıntılarla beraber temizlik imkanlarının azalması tifo, kolera gibi bulaşıcı hastalıkların yaygınlaşmasına neden oluyordu. **Yukarıdaki metne en uygun başlık aşağıdakilerden hangisi olabilir?**

- A) Türkiye'nin II. Dünya Savaşı'ndaki Tutumu
- B) Türkiye Ekonomisine II. Dünya Savaşı'nın Etkisi
- C) İkinci Dünya Savaşı'nın Türkiye'de Sağlık Alanındaki Yansımaları
- D) Türkiye'nin II. Dünya Savaşı'nda Aldığı Kararlar

57. İkinci Dünya Savaşı'nın başlamasında etkili olan sebeplerden birisi de Birinci Dünya Savaşı'nda çözülemeyen sorunlardır. Birinci Dünya Savaşı'nı kazanan ülkeler kaybeden ülkelere ağır tazminatlar almıştır. Bu nedenle kaybeden ülkeler ekonomik sıkıntılar çekmiştir. Bu durumun telafisi için kaybeden ülkelere bazıları yayılcı bir politika izlemiştir.

Buna göre aşağıdaki ülkelerden hangisi metinde bahsedilen sebeple yayılcı bir politika izlemiştir?

- A) İngiltere
- B) Fransa
- C) Amerika Birleşik Devletleri
- D) Almanya

58. Türkiye II. Dünya Savaşı'nda Mihver Devletler ve Müttefik Devletler arasında tarafsız kalmayı seçmiş ve bu tutumunu savaşın son anlarına kadar sürdürmüştür. Türkiye dünya barışını sağlama çalışmalarının yapılacağı San Francisco Konferansı'na katılmak için 23 Şubat 1945'te Almanya ve Japonya'ya savaş ilan etmiştir. Bu konferansa katılarak Birleşmiş Milletler Teşkilatı'nın kurucu ülkelerinden biri olmuştur.

Buna göre Türkiye'nin savaşa girme kararı almasında etkili olan sebep aşağıdakilerden hangisi olabilir?

- A) Mihver Devletlerin Türkiye'ye yaptıkları saldırılar.
- B) Savaş sonrası siyasi yalnızlık içine düşmeyi engellemek.
- C) İngiltere'nin Türkiye'nin savaşa girmesini sağlamak için saldırma tehdidi.
- D) Türkiye'nin yeterli askerî güce ulaşmış olması.

59. Türkiye II. Dünya Savaşı'na aktif bir şekilde katılmamıştır ancak savaşın olumsuz koşullarından ekonomik alanda çok fazla etkilenmiştir. Ürünler pahalılaşmış, ekmek, şeker vb. temel besinler karneyle satılır hale gelmiştir.

Bu durumun yaşanmasında;

- I. çalışan erkek nüfusun askere alınması,
- II. ihracat ve ithalatın aksamış olması,
- III. askerî harcamaların artmış olması

durumlarından hangilerinin etkili olduğu söylenebilir?

- A) Yalnız I
- B) I ve II
- C) II ve III
- D) I, II ve III

60. İkinci Dünya Savaşı sırasında Mihver ve Müttefik Devletler Türkiye'yi kendi taraflarına çekmeye çalışmıştır. Almanya, Türkiye'ye kendi yanında savaşa girmesi için teklifte bulunmuştur. Türkiye kabul etmemiştir. Adana Görüşmesi'nde İngiltere de Türkiye'yi kendi tarafına çekmek istemiş, Türkiye bu teklifi de reddetmiştir.

Mihver ve Müttefik Devletlerin Türkiye'yi kendi taraflarına çekmek istemelerinde;

- I. Türkiye'nin jeopolitik konumu,
- II. genç nüfus oranının fazla olması,
- III. Türkiye'nin ekonomik olarak güçlü olması

durumlarından hangilerinin etkili olduğu söylenebilir?

- A) Yalnız I
- B) I ve II
- C) II ve III
- D) I, II ve III

61. Adolf Hitler Almanya'da 1933 yılında iktidara gelmiştir. İktidara geldikten sonra I. Dünya Savaşı'nın bıraktığı ekonomik sorunlar ve ağır tazminatlar yüzünden bunalmış bir ülkeyi ayağa kaldırmak için çalışmalar yapmıştır. Ülkeyi güçlendirmek için Versay Antlaşması'nı tanımadığını ilan ederek tek taraflı iptal ettiğini açıklamış ve silah sanayisini çok geliştirmiştir. Bütün bu gelişmelerle birlikte arkasındaki millet desteği de artmıştır. Almanya II. Dünya Savaşı'na girildiğinde ekonomik ve askerî açıdan güçlü bir durumdaydı.

Metne göre Adolf Hitler dönemi Almanya'sı ile ilgili aşağıdaki yargılardan hangisine ulaşılabilir?

- A) Almanya sanayileşmedeki en büyük payı silah sanayisine ayırmıştır.
- B) Adolf Hitler Versay Antlaşması yerine başka bir antlaşma yapmak istemiştir.
- C) Almanya II. Dünya Savaşı öncesinde ekonomik ve askerî açıdan kendini geliştirmiştir.
- D) Adolf Hitler ülkeyi güçlendirmek için yaptığı çalışmalarla millet desteği bulamamıştır.

62. İkinci Dünya Savaşı'na aktif olarak katılmayan Türkiye, savaştan ekonomik açıdan olumsuz etkilenmiş, ekonomideki sorunların çözümüne yönelik birtakım karar ve önlemler almıştır. Millî Korunma Kanunu, Toprak Kanunu, Varlık Vergisi, Toprak Mahsulleri Vergisi, bazı ürünlerin satışında karne uygulanması gibi birçok gelişme yaşanmıştır. Ancak tüm bunlara rağmen ekonomik sorunlar devam etmiş, ürünlerde pahalılık ve kıtlık ortaya çıkmıştır.

Metne göre İkinci Dünya Savaşı döneminde Türkiye'nin ekonomisi ile ilgili aşağıdakilerden hangisi söylenemez?

- A) Ekonomik sorunlar çözüme kavuşturulmuştur.
- B) Vergi sisteminde değişiklikler yapılmıştır.
- C) Ekonomik sorunları çözmek için kanunlar çıkarılmıştır.
- D) Bazı ürünlerin satışına kısıtlama getirilmiştir.

63. Japonya 1941 yılında Amerika Birleşik Devletleri'ne ait Pearl Harbor (Pörl Harbır) Limanı'ndaki üslere saldırmıştır. Bu saldırı sonrası Müttefik Devletler tarafında savaşa giren ABD, savaşın seyrini değiştirmiştir. Daha güçlü hale gelen Müttefik Devletler Sicilya üzerinden İtalya'ya girmiş ve İtalya yenilerek savaştan çekilmiştir. Normandiya Çıkarması ile de Fransa işgalden kurtarılmış ve Alman kuvvetleri geri çekilmiştir.

Metne göre II. Dünya Savaşı sırasında Japonya ve ABD'nin durumu ile ilgili aşağıdaki yargılardan hangisine ulaşılabilir?

- A) Japonya ile ABD aynı tarafta yer almıştır.
- B) Japonya'nın askerî gücü ABD'den fazladır.
- C) ABD'nin savaşa girmesinde Japonya'nın saldırısı etkili olmuştur.
- D) Japonya Pearl Harbor saldırısından sonra savaştan çekilmiştir.

64. İkinci Dünya Savaşı sırasında birçok olumsuz durumla karşı karşıya kalan Türkiye, savaş bitiminde de yeni sorunlarla karşılaştı. Özellikle Amerika Birleşik Devletleri ve Sovyetler Birliği arasındaki Soğuk Savaş Dönemi'nde taraf seçmesi konusunda baskı uygulandı. Sovyetler Birliği Boğazların üzerinde hakimiyet kurmak isteyince Türkiye Amerika Birleşik Devletleri'yle yakınlaştı. Bu durum daha sonra Türkiye'nin Kuzey Atlantik Antlaşması Örgütü'ne (NATO) üye olmasıyla sonuçlandı.

Verilen bilgilere göre İkinci Dünya Savaşı sonrasında Türkiye'nin durumu ile ilgili aşağıdaki yorumlardan hangisi yapılamaz?

- A) Sovyetler Birliği ile ABD arasındaki güç mücadelesinden Türkiye etkilenmiştir.
- B) Türkiye'den Soğuk Savaş Dönemi'nde taraf seçmesi istenmiştir.
- C) Sovyetler Birliği, Türkiye'nin bağımsızlığı için tehdit haline gelmiştir.
- D) Türkiye, ABD ve Sovyetler Birliği arasında daima tarafsız kalmıştır.

65. İkinci Dünya Savaşı süresince milyonlarca insan hayatını kaybetmiştir. Savaşta kullanılan kimyasal ve nükleer silahlar insanların ve doğanın zarar görmesine sebep olmuştur. Paris, Londra ve Berlin gibi büyük şehirler harap olmuş, milyonlarca insan evsiz kalmıştır. Savaş sonrası tüm bu kayıp ve zararların bir daha yaşanmaması için Türkiye'nin de içinde bulunduğu 51 ülke tarafından Birleşmiş Milletler Teşkilatı kurulmuştur. Kurulan teşkilat 1948 yılında İnsan Hakları Evrensel Beyannamesi'ni ilan etmiştir.

İkinci Dünya Savaşı süreci ve sonuçları ile ilgili aşağıdakilerden hangisi söylenebilir?

- A) Kaybeden ülkeler nükleer silah kullanmışlardır.
- B) Savaş sırasında ölenlerin tamamı sivillerden oluşmaktadır.
- C) Savaş bitiminde dünya barışını sağlamak için çalışmalar yapılmıştır.
- D) Türkiye'de savaş sırasında çok sayıda insan hayatını kaybetmiştir.

66. İkinci Dünya Savaşı sonrasında tüm dünyada sosyal, siyasal ve ekonomik açıdan birçok sonuç ortaya çıktı. Savaş sırasında sömürgeleri üzerindeki otoritesi zayıflayan Avrupa Devletleri Asya, Afrika ve Ortadoğu'daki sömürgelerinin bağımsızlık mücadelesini engelleyemedikleri için sömürge kaybı yaşadılar. Mihver Devletlerin savaşı kaybetmesi ile onların savunduğu Faşizm ve Nazizm gibi baskıcı düşünceler etkisini kaybetti. Avrupa'nın dünya siyaseti üzerindeki üstünlüğü azalınca Amerika Birleşik Devletleri Avrupa'nın yerini aldı.

Buna göre II. Dünya Savaşı sonrası ülkelerin sosyal, siyasal ve ekonomik durumu ile ilgili aşağıdakilerden hangisi söylenebilir?

- A) İkinci Dünya Savaşı sonrası Faşizm düşüncesi güçlenmiştir.
- B) Savaş sonrası ABD merkezli dünya siyaseti öne çıkmıştır.
- C) Avrupa savaş sonrası Asya, Afrika ve Ortadoğu'da hakimiyet sahasını genişletmiştir.
- D) Sömürgecilik faaliyetleri savaşın bitmesini sağlamıştır.

67. İkinci Dünya Savaşı sonrasında yaşanan gelişmeler tüm dünyada demokratik sistemlerin etkinliğini arttırdı. Türkiye'de de demokrasinin etkisi arttı ve tek parti iktidarına son vermek amacıyla yeni siyasi partiler kuruldu.

Aşağıdakilerden hangisi bu siyasi partilerden biridir?

- A) Cumhuriyet Halk Partisi
- B) Serbest Cumhuriyet Fırkası
- C) Demokrat Parti
- D) Terakkiperver Cumhuriyet Fırkası

68. İkinci Dünya Savaşı sonrasında ülkemizde demokrasinin tam olarak gerçekleşebilmesi için bazı yenilikler yapılmıştır.

Aşağıdakilerden hangisi bu yeniliklerden biridir?

- A) Cumhuriyetin ilanı
- B) Atatürk'ün cumhurbaşkanı olması
- C) TBMM'nin açılması
- D) Çok partili hayata geçilmesi

69. Tek parti yönetimi II. Dünya Savaşı sırasında ülke içinde yaşanan sorunların çözümünde sıkıntılar yaşadı. Tek parti yönetimlerinin neden olduğu bir dünya savaşı daha yaşamak istemeyen dünya devletleri savaş sonrasında hızlı bir demokratikleşme süreci başlattılar. Dünya barışını sağlamak için kurulan Birleşmiş Milletler, teşkilata üye olan ülkelerin çok partili yönetimlere geçmeleri çağrısında bulundu. Türkiye de bu çağrıya uyarak çok partili yaşama geçme çalışmaları yaptı.

Bu durumun ülkemizde demokratikleşme açısından katkısı aşağıdakilerden hangisidir?

- A) Ulusal egemenlik kavramının pekişmesi
- B) Ulusal bağımsızlık kavramının yerleşmesi
- C) Cumhurbaşkanlığı makamının korunması
- D) Ülke ekonomisinin düzene girmesi

70.

- 7 Ocak 1946'da Demokrat Parti kuruldu.
- 21 Temmuz 1946'da ilk çok partili seçim yapıldı.
- İlk defa tek dereceli seçim sistemi uygulandı.
- Demokrat Parti meclise giren ilk muhalefet partisi oldu.

Yukarıdaki gelişmelere verilebilecek en uygun başlık aşağıdakilerden hangisi olabilir?

- A) Demokrasi Yolunda Türkiye
- B) II. Dünya Savaşı'nda Türkiye
- C) İlk Muhalefet Partisinin Tarihi
- D) Tek Parti Yönetiminin Sonuçları

71. Ülkemizde birden çok partinin katıldığı ilk seçim 21 Temmuz 1946 yılında gerçekleşti. Demokrat Parti seçimlerde aldığı oyla ilk muhalefet partisi olarak meclise girdi. Kısa sürede ülkede 25 tane yeni siyasi parti kuruldu.

Türkiye'de parti sayısındaki bu değişim aşağıdakilerden hangisine sebep olmuştur?

- A) Demokrasinin zedelenmesine
- B) Farklı fikirlerin susturulmasına
- C) Yeni siyasi fikirlerin ortaya çıkmasına
- D) Ülkede baskıların artmasına

72. Ülkemizde çok partili yaşama geçiş çalışmaları Atatürk döneminde iki defa denenmiş fakat başarılı olunamamıştı. Atatürk'ün amacı çok partili yaşam ile Cumhuriyet'in temel ilkesi olan ulusal egemenliği pekiştirmektir. İkinci Dünya Savaşı sonrasında da çok partili yaşama geçme çalışmaları yapıldı.

Aşağıdakilerden hangisi Atatürk dönemi ve sonrasında bu amaçla yapılan çalışmalardan biri değildir?

- A) Millî Kalkınma Partisi'nin açılması
- B) Serbest Cumhuriyet Fırkası'nın kurulması
- C) 1946 seçimlerine birden çok partinin katılması
- D) Terakkiperver Cumhuriyet Fırkası'nın kapatılması

73. 1945 yılı ocak ayında Türkiye Büyük Millet Meclisi'nde Çift-çiyi Topraklandırma Kanunu'nun görüşüldüğü sırada ortaya çıkan muhalefet üzerine yeni bir partinin kurulmasına gerek duyulmuştur. Parti tüzüğü belirlenirken Cumhuriyet Halk Partisi tüzüğünden farklı birtakım konulara değinilmiştir. 1946 seçimlerinde ilk defa muhalefet partilerinin de katıldığı mitingler düzenlenmiştir. Halk için alışılmadık olan bu durum farklı fikirlerin konuşulması hususunda önemli bir adımdır.

Metne göre çok partili yaşama geçiş denemeleri ile ilgili aşağıdakilerden hangisi söylenebilir?

- A) İkinci Dünya Savaşı sırasında çok partili yaşama geçiş denemeleri yapılmıştır.
- B) Yeni kurulacak partiler için tüzük hazırlama çalışmaları yapılmıştır.
- C) Farklı fikirler yeni bir partinin kurulma gerekliliğini ortaya koymuştur.
- D) Cumhuriyet Halk Partisi mitingler düzenlemiştir.

74. 1946 yılında yapılan seçimlerde ülkemizde açık oy kapalı sayım yöntemi kullanılmıştır. Bu yöntemde kişiler oy verirken kullandıkları oyu sandık başkanına göstermek zorundadır ancak oyların sayılması gizli şekilde yapılmaktadır. Bu yöntem daha sonra sakıncalı görülerek kaldırılmıştır. **Oylamanın bu şekilde yapılmasının demokrasinin hangi ilkesine ters düştüğü söylenebilir?**

- A) Seçimlere katılma
- B) Siyasi parti kurma
- C) Kişisel fikirlere saygı
- D) Miting düzenleyebilme

75. 29 Mayıs 1945 tarihinde, TBMM’de aralarında Celal Bayar ve Adnan Menderes’in de olduğu bazı milletvekilleri güven oylaması sırasında hükûmete güvenoyu vermediler. Parti içinde özgür düşünme ortamı olmasını isteyen bu milletvekillerinin önderliğinde bir muhalefet ortamı oluştu. Bu milletvekillerinin sunduğu Dörtlü Takrir denen önerge ile ülke ve parti yönetiminde liberal düzenlemeler yapılması isteniyordu. Bu durum yeni bir parti kurulması sürecini başlatmıştır. **Yukarıdaki bilgilerden hareketle muhalefet partilerinin en önemli görevi aşağıdakilerden hangisi olmalıdır?**

- A) Hükûmetin yaptıklarını desteklemek
- B) Hükûmete karşı fikirler geliştirmek
- C) Halkı hükûmete karşı kışkırtmak
- D) Farklı fikir önerileri getirmek

76. Aşağıdaki tabloda 14 Mayıs 1950 Seçimlerine katılan partiler ve oy oranları verilmiştir.

Partiler	Oy oranı %	Milletvekili
Demokrat Parti	53.59	408
CHP	39.98	69
Millet Partisi	3.03	1
Millî Kalkınma Partisi	00.11	-
Bağımsızlar	3.40	9
Toplam	100	487

Tablodaki bilgilerden yararlanarak aşağıdakilerden hangisi söylenemez?

- A) Çok partili hayata geçilmiştir.
- B) Demokrat Parti seçimleri kazanarak iktidar partisi olmuştur.
- C) Celal Bayar cumhurbaşkanı olarak seçilmiştir.
- D) CHP, muhalefet partisi olmuştur.

77. 1945 yılında mecliste görüşülen toprak reformu kanununa karşı olan milletvekilleri zamanın şartlarının yarattığı siyasi durum ve Teşkilat-ı Esasiye Kanunu’nda belirtildiği şekilde demokratik yönetim anlayışının zamanının geldiğini düşünmüşler ve düşüncelerini şöyle özetlemişlerdir:

1. Millî hâkimiyetin en doğal sonucu ve aynı zamanda dayanağı olan Meclis denetimini sağlayacak tedbirlerin aranması
2. Yurttaşların siyasi hak ve hürriyetlerini Teşkilat-ı Esasiye Kanunu’nun gerektirdiği genişlikte kullanabilme imkanının sağlanması
3. Bütün parti çalışmalarının yukarıdaki esaslara uygun şekilde düzenlenmesi

(Kısaltılmış ve sadeleştirilmiştir.)

Dörtlü Takrir olarak da bilinen önergede imzası bulunan milletvekillerinin de etkisiyle ülkemizde çok partili siyasi hayata geçiş yolları açılmıştır.

Buna göre aşağıdakilerden hangisi Türkiye’de çok partili hayata geçiş yolunda atılan adımların demokrasi kültürüne sağladığı katkılardan biri değildir?

- A) Farklı fikirlere sahip insanlar mecliste temsil edilmiştir.
- B) Muhalefet partileri oluşmuştur.
- C) Vatandaşların hakları kısıtlanmıştır.
- D) Halk oyunu özgürce kullanabilmiştir.

CEVAP ANAHTARI

1. C, 2. D, 3. E, 4. A, 5. B
- 1) İsmet İnönü
2) Milliyetçi
3) Ankara
1. Y, 2. D, 3. D, 4. Y, 5. D
- 1) evrensel
2) İsmet İnönü
3) Türk Dil, Türk Tarih
4) vatansever
- Dünyada yaşanan olayları, diğer devletlerin politikalarını takip eden, elde ettiği bilgileri analiz ederek sonuçlar çıkarabilen, zeki bir devlet adamıdır.
1. B, 2. D, 3. E, 4. C, 5. A
- 1.Y, 2. D, 3. Y, 4. D, 5. Y, 6. D
- 18 Temmuz 1932: Milletler Cemiyeti'ne üyelik.
9 Şubat 1934: Balkan Antantı'na katılma.
20 Temmuz 1936: Montrö Boğazlar Sözleşmesi'nin imzalanması.
8 Temmuz 1937: Sâdâbat Paketi'ne katılma.
- I. Dünya Savaşı, Almanya, Nazizm, Hitler, II. Dünya Savaşı, İleri Görüşlülük
- | | | | |
|---|---|---|---|
| 2 | 4 | 5 | 8 |
|---|---|---|---|
- Tam bağımsızlık, yurttan barış dünyada barış, eşitlik, karşılıklılık, Türk ve dünya kamuoyunu dikkate alma, gerçekçilik ve akılcılık, millî menfaatleri esas almaz.
-

Bilgiler	D/Y	Doğrusu
1. Almanya Müttefik Devletler içinde yer almaktadır.	(Y)	Mihver devletler içindedir
2. ABD Japonya'nın saldırısı sonrası savaşa katılmıştır.	(D)	
3. Adolf Hitler İtalya'nın baskıcı rejiminin lideridir.	(Y)	Almanya'nın lideridir.
4. Almanya II. Dünya Savaşı'nda ilk olarak ABD'ye saldırmıştır.	(Y)	Polonya'ya saldırmıştır.
5. İtalya II. Dünya Savaşı'nda İngiltere ile hareket etmiştir.	(Y)	İngiltere ile düşmandır.
6. Türkiye savaşa 1945 yılında Müttefik Devletler tarafında katılmıştır.	(D)	
7. Sovyet Rusya II. Dünya Savaşı sonrası ABD ile Soğuk Savaşa girmiştir.	(D)	

1. İtalya, 2. Almanya, 3. İngiltere, 4. Japonya, 5. Amerika, 6. Sovyetler Birliği, 7. Fransa, 8. Türkiye
1. Adolf Hitler, 2. Karne, 3. Varlık, 4. Hiroşima, Nagazaki, 5. Birleşmiş Milletler
1. E, 2. A, 3. D, 4. C, 5. B

16.



17. Selim-Nazlı-Deniz

18. 1. Millî Kalkınma Partisi, 2. birden çok, 3. muhalefet partisi, 4. Demokrat Parti

19. Tek partili yönetimlerde halkın yönetime katılımı ve görüş farklılıkları az olur ancak yönetimin denetlenmesi zordur.

Çok partili yönetimlerde yönetimde her zaman farklı görüşler bulunur, hükümet sürekli denetlenebilir, demokratik ortam oluşmuş olur.

20. D
21. B
22. C
23. A
24. C
25. B
26. A
27. C
28. D
29. D
30. A
31. D
32. B
33. B
34. D
35. A
36. A
37. A
38. C
39. B
40. A
41. A
42. B
43. C
44. C
45. D
46. B
47. A
48. C

49. D
50. D
51. B
52. A
53. C
54. B
55. B
56. C
57. D
58. B
59. D
60. B
61. C
62. A
63. C
64. D
65. C
66. B
67. C
68. D
69. A
70. A
71. C
72. D
73. C
74. C
75. D
76. C
77. C



meb.gov.tr